

I.S. Sadiman - Shendy Amalia

# ILMU PENGETAHUAN SOSIAL

SD/MI


# 6



PUSAT PERBUKUAN  
Departemen Pendidikan Nasional

Kelas

# VI



Irawan Sadad Sadiman  
Shendy Amalia

# ILMU PENGETAHUAN SOSIAL

6

**SD/MI**



**PUSAT PERBUKUAN**  
Departemen Pendidikan Nasional

Hak Cipta pada Departemen Pendidikan Nasional  
Dilindungi Undang-undang

## ILMU PENGETAHUAN S O S I A L

**Untuk SD/MI Kelas VI**

Penulis : Irawan Sadad Sadiman  
Shendy Amalia

Ilustrasi, Tata Letak : Tiras

Perancang Kulit : Tiras

Ukuran Buku : 21 x 29,7 cm

372.8

IRA IRAWAN Sadad Sadiman

i Ilmu Pengetahuan Sosial 6 : SD/MI Kelas VI / Penulis Irawan Sadad Sadiman,  
Sendy Amalia ; Ilustrasi Tiras. — Jakarta : Pusat Perbukuan,  
Departemen Pendidikan Nasional, 2009.  
x, 174 hlm. : ilus. ; 29 cm.

Bibliografi : hlm. 167

ISBN 978-979-068-008-1 (nomor jilid lengkap)

ISBN 978-979-068-024-1

1. Ilmu-ilmu Sosial-Studi dan Pengajaran 2. Ilmu-ilmu Sosial-Pendidikan Dasar  
I. Judul II. Sendy Amalia III. Tiras

Diterbitkan oleh Pusat Perbukuan  
Departemen Pendidikan Nasional  
Tahun 2009

Diperbanyak oleh ...

## Kata Sambutan

Puji syukur kami panjatkan ke hadirat Allah SWT, berkat rahmat dan karunia-Nya, Pemerintah, dalam hal ini, Departemen Pendidikan Nasional, pada tahun 2008, telah membeli hak cipta buku teks pelajaran ini dari penulis untuk disebarluaskan kepada masyarakat melalui *website* Jaringan Pendidikan Nasional.

Buku teks pelajaran ini telah dinilai oleh Badan Standar Nasional Pendidikan dan telah ditetapkan sebagai buku teks pelajaran yang memenuhi syarat kelayakan untuk digunakan dalam proses pembelajaran melalui Peraturan Menteri Pendidikan Nasional Nomor 69 Tahun 2008.

Kami menyampaikan penghargaan yang setinggi-tingginya kepada para penulis yang telah berkenan mengalihkan hak cipta karyanya kepada Departemen Pendidikan Nasional untuk digunakan secara luas oleh para pendidik dan peserta didik di seluruh Indonesia.

Buku-buku teks pelajaran yang telah dialihkan hak ciptanya kepada Departemen Pendidikan Nasional tersebut, dapat diunduh (*down load*), digandakan, dicetak, dialihmediakan, atau difotokopi oleh masyarakat. Namun, untuk penggandaan yang bersifat komersial harga penjualannya harus memenuhi ketentuan yang ditetapkan oleh Pemerintah. Diharapkan bahwa buku teks pelajaran ini akan lebih mudah diakses sehingga peserta didik dan pendidik di seluruh Indonesia maupun sekolah Indonesia yang berada di luar negeri dapat memanfaatkan sumber belajar ini.

Kami berharap, semua pihak dapat mendukung kebijakan ini. Selanjutnya, kepada para peserta didik kami ucapkan selamat belajar dan manfaatkanlah buku ini sebaik-baiknya. Kami menyadari bahwa buku ini masih perlu ditingkatkan mutunya. Oleh karena itu, saran dan kritik sangat kami harapkan.

Jakarta, Februari 2009  
Kepala Pusat Perbukuan

Puji syukur kehadiran Tuhan Yang Maha Esa berkat rahmatNya, penulis dapat menyelesaikan buku ini dengan baik. Penulisan buku ini banyak dibantu oleh rekan-rekan dalam hal pengumpulan data. Oleh karena itu, penulis menghaturkan terima kasih, semoga Tuhan membalas budi baik rekan-rekan sekalian.

Ragam fenomena sosial menjadi objek kajian dalam Ilmu Pengetahuan Sosial. Dengan mempelajari IPS, siswa diarahkan agar dapat menganalisis fenomena sosial di sekitarnya. Dengan pemaparan yang jelas, buku ini akan mengenalkan berbagai ragam fenomena sosial. Dengan demikian, siswa akan terbiasa menghargai sikap perbedaan yang ada. Guru serta orang tua siswa dapat mengarahkan siswa dalam mempelajari permasalahan sosial yang ada.

Buku ini dikemas dengan sistematika yang runtut. Penyajian buku ini disajikan dengan pembahasan umum ke khusus (edukatif), sehingga siswa dapat memahaminya dengan mudah.

Materi yang disajikan disesuaikan pula dengan penalaran siswa sekolah dasar. Aspek kognitif, afektif, dan psikomotorik terasah melalui beberapa bagian dalam buku ini. Dengan demikian, buku ini layak menjadi referensi siswa dan guru. Kiranya pembelajaran IPS dapat memberikan pengalaman belajar yang menyenangkan untuk siswa.

Penulis menyadari bahwa materi dalam buku ini perlu terus disempurnakan. Untuk itu, penulis mengharapkan kritik serta saran membangun dari rekan-rekan sekalian.

Akhir kata, semoga buku ini dapat bermanfaat bagi para siswa dan guru.

Yogyakarta, Mei 2008

Penulis

## Daftar Isi

	Halaman
<b>KATA SAMBUTAN</b> .....	<b>iii</b>
<b>KATA PENGANTAR</b> .....	<b>iv</b>
<b>DAFTAR ISI</b> .....	<b>v</b>
<b>DAFTAR TABEL DAN GAMBAR</b> .....	<b>vii</b>

## SEMESTER 1

<b>BAB 1 PERKEMBANGAN WILAYAH DAN SISTEM PEMERINTAHAN DI INDONESIA</b> .....	<b>3</b>
A. Perubahan Wilayah Provinsi di Indonesia .....	5
B. Perubahan Wilayah Laut Indonesia .....	20
C. Perkembangan Sistem Pemerintahan di Indonesia .....	22
Refleksi .....	26
Rangkuman .....	26
Evaluasi .....	27
<b>BAB 2 KENAMPAKAN ALAM DAN KEADAAN SOSIAL NEGARA-NEGARA TETA NGGA DI ASIA TENGGARA</b> .....	<b>31</b>
A. Kenampakan Alam dan Keadaan Sosial Negara-negara Asia Tenggara .....	33
B. Membandingkan Kenampakan Alam Indonesia dengan Kenampakan Alam Negara-negara Lain di Asia Tenggara .....	50
C. Membandingkan Keadaan Sosial Negara Indonesia dengan Keadaan Sosial Negara-negara di Asia Tenggara .....	51
Refleksi .....	53
Rangkuman .....	53
Evaluasi .....	53
<b>BAB 3 KENAMPAKAN ALAM DAN KEADAAN SOSIAL NEGARA-NEGARA DI DUNIA</b> .....	<b>57</b>
A. Ciri-ciri Utama Kenampakan Alam Dunia .....	59
B. Kenampakan Alam dan Keadaan Sosial Negara-negara di Dunia .....	63
C. Menggambar Peta Benua dan Dunia .....	101
Refleksi .....	102
Rangkuman .....	102
Evaluasi .....	103
<b>EVALUASI SEMESTER 1</b> .....	<b>106</b>

## SEMESTER 2

<b>BAB 4</b>	<b>GEJALA ALAM DI INDONESIA DAN NEGARA TETANGGA .....</b>	<b>113</b>
	A. Gejala Alam di Indonesia dan Negara Tetangga .....	115
	B. Cara Menghadapi Bencana Alam .....	122
	Refleksi .....	124
	Rangkuman .....	125
	Evaluasi .....	125
<b>BAB 5</b>	<b>PERANAN INDONESIA PADA ERA GLOBAL .....</b>	<b>129</b>
	A. Globalisasi dalam Kehidupan Masyarakat .....	131
	B. Dampak Globalisasi .....	133
	C. Peranan Indonesia di Era Globalisasi .....	137
	D. Latar Belakang Adanya Perusahaan Asing di Indonesia .....	140
	Refleksi .....	144
	Rangkuman .....	144
	Evaluasi .....	145
<b>BAB 6</b>	<b>KEGIATAN EKSPOR DAN IMPOR .....</b>	<b>149</b>
	A. Pengertian Ekspor dan Impor .....	151
	B. Kegiatan Ekspor dan Impor Indonesia .....	151
	C. Manfaat Kegiatan Ekspor dan Impor .....	156
	D. Mencintai Produk Dalam Negeri .....	157
	Refleksi .....	158
	Rangkuman .....	158
	Evaluasi .....	159
	<b>EVALUASI SEMESTER 2 .....</b>	<b>161</b>
	<b>GLOSARIUM .....</b>	<b>165</b>
	<b>DAFTAR PUSTAKA .....</b>	<b>167</b>
	<b>KUNCI JAWABAN .....</b>	<b>168</b>

# Daftar Tabel dan Gambar

## A. Daftar Tabel

- Tabel 1.1 Provinsi dan Gubernur Pertama di Indonesia
- Tabel 1.2 Perkembangan Provinsi di Indonesia
- Tabel 1.3 Provinsi di Pulau Sumatra
- Tabel 1.4 Provinsi di Pulau Kalimantan
- Tabel 1.5 Provinsi di Pulau Jawa
- Tabel 1.6 Provinsi di Pulau Sulawesi
- Tabel 1.7 Provinsi-provinsi di Indonesia
- Tabel 3.1 Benua di Dunia
- Tabel 3.2 Pegunungan Terpanjang di Dunia
- Tabel 3.3 Gunung Berapi Tertinggi di Dunia
- Tabel 3.4 Gunung Tertinggi di Dunia
- Tabel 3.5 Pulau Terluas di Dunia
- Tabel 3.6 Samudra di Dunia
- Tabel 3.7 Laut Terluas di Dunia
- Tabel 3.8 Danau Terluas di Dunia
- Tabel 3.9 Sungai Terpanjang di Dunia
- Tabel 3.10 Air Terjun Tertinggi di Dunia
- Tabel 3.11 Air Terjun Terbesar di Dunia
- Tabel 3.12 Negara-negara di Benua Asia
- Tabel 3.13 Negara-negara di Amerika Utara
- Tabel 3.14 Negara-negara di Amerika Tengah
- Tabel 3.15 Negara-negara di Amerika Selatan
- Tabel 3.16 Negara-Negara di Benua Afrika
- Tabel 3.17 Negara-Negara di Benua Eropa
- Tabel 3.18 Negara-Negara Bagian Australia
- Tabel 4.1 Peristiwa Gempa Bumi di Indonesia pada Tahun 2006
- Tabel 6.1 Barang-barang Ekspor Indonesia dan Negara Tujuannya
- Tabel 6.2 Tabel Barang yang Diimpor oleh Indonesia dan Negara Asal

## B. Daftar Gambar

- Gambar 1.1 Peta pembagian wilayah provinsi di Indonesia
- Gambar 1.2 Peta Provinsi Naggroe Aceh Darussalam
- Gambar 1.3 Peta Provinsi Sumatra Utara
- Gambar 1.4 Peta Provinsi Sumatra Barat
- Gambar 1.5 Peta Provinsi Riau
- Gambar 1.6 Peta Provinsi Kepulauan Riau
- Gambar 1.7 Peta Provinsi Jambi
- Gambar 1.8 Peta Provinsi Kalimantan Barat
- Gambar 1.9 Peta Provinsi Kalimantan Tengah
- Gambar 1.10 Peta Provinsi Kalimantan Selatan
- Gambar 1.11 Peta Provinsi Kalimantan Timur
- Gambar 1.12 Peta Provinsi Banten
- Gambar 1.13 Peta Provinsi DKI Jakarta
- Gambar 1.14 Peta Provinsi Jawa Tengah
- Gambar 1.15 Peta Provinsi Jawa Timur
- Gambar 1.16 Peta Provinsi Bali
- Gambar 1.17 Peta Provinsi Nusas Tenggara Barat



- Gambar 1.18 Peta Provinsi Nusa Tenggara Timur  
 Gambar 1.19 Peta Provinsi Maluku  
 Gambar 1.20 Peta Provinsi Maluku Utara  
 Gambar 1.21 Peta Provinsi Sulawesi Utara  
 Gambar 1.22 Peta Provinsi Gorontalo  
 Gambar 1.23 Peta Provinsi Sulawesi Barat  
 Gambar 1.24 Peta Provinsi Papua  
 Gambar 1.25 Peta Provinsi Papua Barat  
 Gambar 1.26 Wilayah laut teritorial dan ZEE Indonesia  
 Gambar 1.27 Peta wilayah perairan Indonesia  
 Gambar 1.28 Sidang PPKI berhasil membentuk pemerintahan Indonesia  
 Gambar 1.29 Presiden dan Wakil Presiden dipilih secara langsung melalui Pemilu
- Gambar 2.1 Peta wilayah negara Indonesia  
 Gambar 2.2 Peta negara Malaysia  
 Gambar 2.3 Peta negara Singapura  
 Gambar 2.4 Patung Merlion di Singapura  
 Gambar 2.5 Peta negara Brunei Darussalam  
 Gambar 2.6 Peta negara Filipina  
 Gambar 2.7 Peta negara Thailand  
 Gambar 2.8 Sungai Chao Phraya  
 Gambar 2.9 Bangunan Pagoda menjadi ciri khas negara Thailand  
 Gambar 2.10 Peta negara Myanmar  
 Gambar 2.11 Peta negara Kamboja  
 Gambar 2.12 Peta negara Vietnam  
 Gambar 2.13 Peta negara Laos  
 Gambar 2.14 Sungai Mekhong dimanfaatkan sebagai jalur transportasi oleh penduduk Laos  
 Gambar 2.15 Peta negara Timor Leste  
 Gambar 2.16 Lambang ASEAN
- Gambar 3.1 Everest merupakan puncak tertinggi di dunia  
 Gambar 3.2 Gurun Sahara merupakan gurun terluas di dunia  
 Gambar 3.3 Candi Borobudur di Indonesia  
 Gambar 3.4 Patung Liberty di Amerika  
 Gambar 3.5 Peta Benua Asia  
 Gambar 3.6 Peta Republik Rakyat Cina (RRC)  
 Gambar 3.7 Gurun Gobi merupakan gurun terluas kedua di dunia  
 Gambar 3.8 Tembok raksasa di Cina merupakan salah satu keajaiban dunia  
 Gambar 3.9 Peta negara Jepang  
 Gambar 3.10 Gunung Fuji dianggap suci oleh penduduk Jepang  
 Gambar 3.11 Peta negara India  
 Gambar 3.12 Taj Mahal di India  
 Gambar 3.13 Peta negara Pakistan  
 Gambar 3.14 Peta negara Arab Saudi  
 Gambar 3.15 Kabah  
 Gambar 3.16 Peta benua Amerika  
 Gambar 3.17 Peta Amerika Utara  
 Gambar 3.18 Peta Amerika Tengah  
 Gambar 3.19 Peta Amerika Selatan  
 Gambar 3.20 Peta negara Kanada  
 Gambar 3.21 Niagara merupakan air terjun terbesar kedua di dunia  
 Gambar 3.22 Peta Negara Amerika Serikat  
 Gambar 3.23 Pegunungan Rocky

- Gambar 3.24 Patung Liberty di Amerika Serikat
- Gambar 3.25 Peta Negara Brazil
- Gambar 3.26 Peta Negara Argentina
- Gambar 3.27 Peta Benua Afrika
- Gambar 3.28 Sungai Nil di Afrika
- Gambar 3.29 Peta Negara Mesir
- Gambar 3.30 Peta Negara Aljazair
- Gambar 3.31 Peta Nigeria
- Gambar 3.32 Peta Negara Afrika Selatan
- Gambar 3.33 Peta Benua Eropa
- Gambar 3.34 Peta Negara Jerman
- Gambar 3.35 Peta Negara Prancis
- Gambar 3.36 Menara Eiffel merupakan salah satu ciri khas Negara Prancis
- Gambar 3.37 Peta Negara Belanda
- Gambar 3.38 Kincir angin di Belanda
- Gambar 3.39 Peta Negara Inggris
- Gambar 3.40 Jam Big Ben menjadi patokan perhitungan waktu di seluruh dunia
- Gambar 3.41 Peta Benua Australia
- Gambar 3.42 Kanguru merupakan hewan khas Australia
- Gambar 4.1 Gunung Merapi merupakan gunung api paling aktif di Indonesia
- Gambar 4.2 Gempa tektonik yang terjadi di Yogyakarta menghancurkan bangunan dan ribuan rumah penduduk
- Gambar 4.3 Gelombang tsunami meluluhlantahkan Nanggroe Aceh Darussalam
- Gambar 4.4 Bangunan rumah di sekitar Pantai Pangandaran, Cilacap hancur akibat gelombang tsunami
- Gambar 4.5 Jalan raya di Jakarta lumpuh akibat terendam banjir
- Gambar 4.6 Membuang sampah di sungai dapat menyebabkan banjir
- Gambar 4.7 Kebakaran Hutan
- Gambar 4.8 Bencana tanah longsor
- Gambar 4.9 Lumpur panas merendam permukiman penduduk Porong, Sidoarjo, Jawa Timur
- Gambar 5.1 Kita harus senantiasa cermat dalam memilih acara televisi
- Gambar 5.2 Sekarang ini orang lebih suka memakai kaus dan celana jeans
- Gambar 5.3 Gaya hidup berbelanja di swalayan
- Gambar 5.4 Masyarakat sekarang ini lebih suka mengonsumsi makanan cepat saji (instan)
- Gambar 5.5 Komunikasi menggunakan telepon lebih cepat dan praktis
- Gambar 5.6 Di era globalisasi sekarang ini, kebudayaan daerah mulai tersingkirkan oleh kebudayaan asing
- Gambar 5.7 Mengadakan pesta perkawinan adat Jawa merupakan bentuk pelestarian budaya bangsa
- Gambar 5.8 Era globalisasi memudahkan Indonesia untuk memperkenalkan kebudayaannya
- Gambar 5.9 Warga negara asing yang bekerja di perusahaan-perusahaan Indonesia
- Gambar 5.10 Keindahan Pantai Kuta di Bali menjadi salah satu daya tarik turis asing untuk datang ke Indonesia
- Gambar 5.11 Membuka jalur penerbangan internasional adalah salah satu peran Indonesia di era globalisasi
- Gambar 5.12 Tersedianya tenaga kerja yang cukup menarik minat investor asing untuk mendirikan perusahaan di Indonesia
- Gambar 5.13 Tambang emas PT Freeport di Papua
- Gambar 5.14 Asap yang dikeluarkan oleh pabrik mengakibatkan polusi udara

- Gambar 6.1 Tanjung Priok merupakan salah satu pelabuhan di Indonesia yang menjadi tempat kegiatan ekspor dan impor
- Gambar 6.2 Cengkeh merupakan komoditas ekspor Indonesia
- Gambar 6.3 Salah satu hasil perkebunan Indonesia yang diekspor ke luar negeri yaitu kelapa sawit
- Gambar 6.4 Tenaga Kerja Indonesia yang akan bekerja di negara lain
- Gambar 6.5 Keindahan pantai Senggigi, Lombok
- Gambar 6.6 Kendaraan bermotor merupakan salah satu barang yang diimpor oleh Indonesia

# SEMESTER 1

  
**PERKEMBANGAN WILAYAH DAN  
SISTEM PEMERINTAHAN DI INDONESIA**

  
**KENAMPAKAN ALAM DAN  
KEADAAN SOSIAL NEGARA-NEGARA  
DI ASIA TENGGARA**

  
**KENAMPAKAN ALAM DAN KEADAAN SOSIAL  
NEGARA-NEGARA DI DUNIA**





# PERKEMBANGAN WILAYAH DAN SISTEM PEMERINTAHAN DI INDONESIA

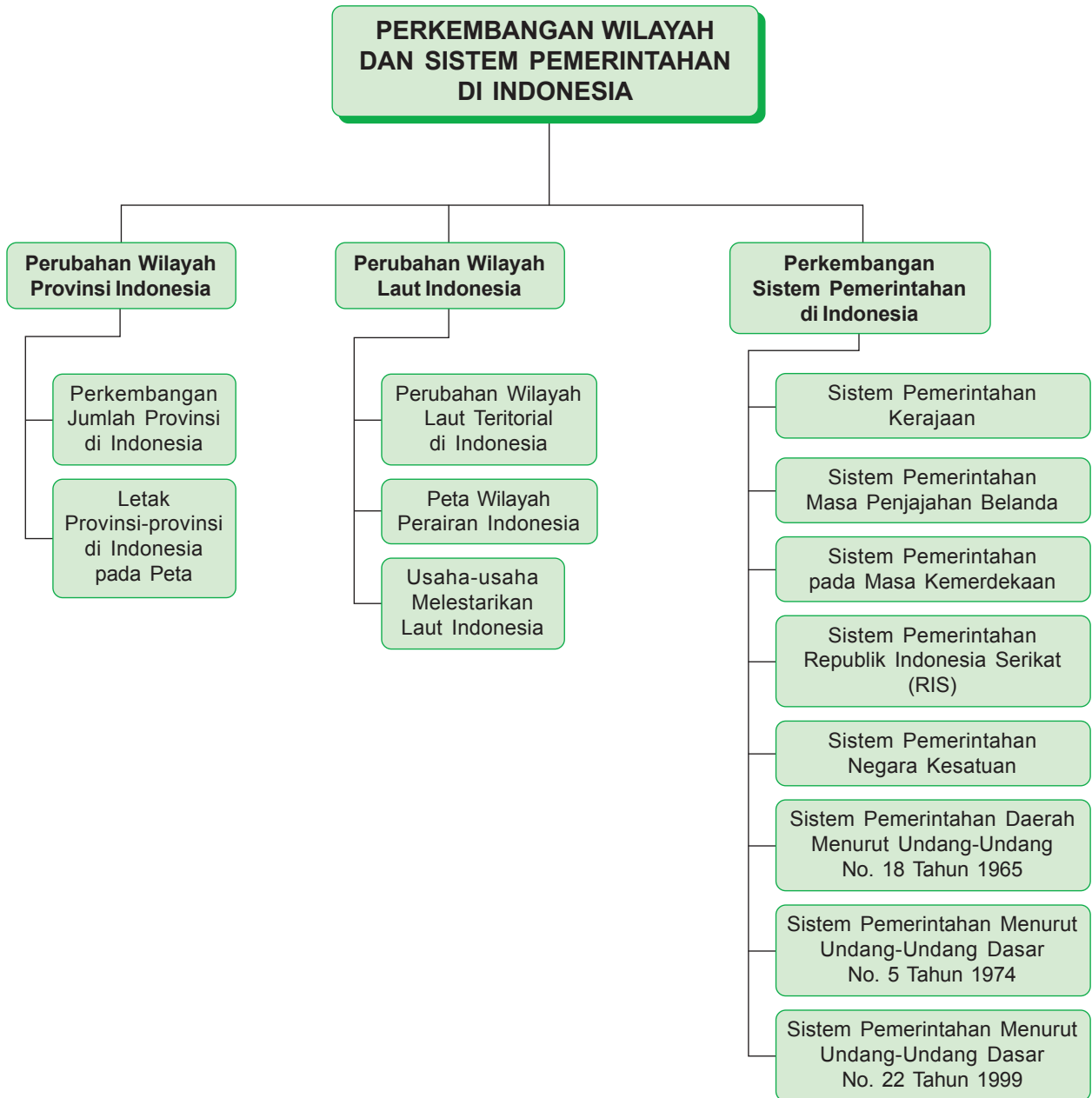
## Kata Kunci

- ◆ provinsi
- ◆ sistem pemerintahan
- ◆ wilayah laut



Sumber: [www.fig.net](http://www.fig.net)

Wilayah Negara Kesatuan Republik Indonesia membentang dengan luas. Sebagai siswa kita harus mengenal seluruh wilayah negeri kita tercinta. Dengan demikian, kalian akan semakin bangga menjadi anak Indonesia.



Wilayah Indonesia meliputi wilayah daratan dan wilayah perairan. Wilayah daratan berupa ribuan pulau yang tersebar di seluruh wilayah Indonesia. Adapun wilayah perairan Indonesia berupa lautan luas. Perairan sebagai penghubung pulau-pulau yang ada di Indonesia.

Dalam sejarah perkembangan bangsa Indonesia, wilayah maupun sistem pemerintahan Indonesia beberapa kali mengalami perubahan. Di dalam bab ini akan dijelaskan lebih rinci mengenai perkembangan wilayah dan sistem pemerintahan di Indonesia. Mari mempelajarinya dengan saksama.

## A. Perubahan Wilayah Provinsi di Indonesia



### 1. Perkembangan Jumlah Provinsi di Indonesia

Negara Indonesia mempunyai wilayah yang sangat luas. Untuk mempermudah pemerintahan, wilayah Indonesia dibagi menjadi beberapa provinsi. Tiap-tiap daerah provinsi dipimpin oleh seorang gubernur.

Tiap-tiap daerah provinsi dibagi menjadi beberapa kabupaten dan kota. Daerah kabupaten dipimpin oleh seorang bupati. Adapun daerah kota dipimpin oleh walikota.

Wilayah provinsi Indonesia pada mulanya hanya terdiri atas delapan provinsi, yaitu Sumatra, Kalimantan, Jawa Barat, Jawa Tengah, Jawa Timur, Sulawesi, Sunda Kecil, dan Maluku. Provinsi-provinsi tersebut ditetapkan dalam sidang Panitia Persiapan Kemerdekaan Indonesia (PPKI) pada tanggal 19 Agustus 1945. Di dalam sidang tersebut juga diangkat seorang gubernur. Berikut provinsi-provinsi dan gubernur pertama di Indonesia.

**Tabel 1.1** Provinsi dan Gubernur Pertama di Indonesia

No.	Provinsi	Gubernur
1.	Sumatra	Mr. Teuku Mohammad Hasan
2.	Kalimantan	Ir. Pangeran Mohammad Noor
3.	Jawa Barat	Sutardjo Kartohadikusuma
4.	Jawa Tengah	R. Panji Soeroso
5.	Jawa Timur	R.A. Soerjo
6.	Sulawesi	Dr. G.S.S.J. Ratulangi
7.	Sunda Kecil	Mr. I Gusti Ketut Pudja
8.	Maluku	Mr. J. Latuharhari

Seiring berkembangnya wilayah Indonesia, wilayah provinsi di Indonesia pun juga mengalami perkembangan. Beberapa wilayah provinsi di Indonesia mengalami pemekaran. Pada tahun 1950 Provinsi Sumatra dibagi menjadi tiga provinsi, yaitu Sumatra Utara, Sumatra Tengah, dan Sumatra Selatan. Adapun Provinsi Jawa Tengah dibagi menjadi dua provinsi, yaitu Provinsi Jawa Tengah dan Provinsi Daerah Istimewa Yogyakarta.

Pada tahun 1956 dibentuk beberapa provinsi baru, yaitu Daerah Istimewa Aceh, Daerah Khusus Ibukota Jakarta Raya, Kalimantan Barat, Kalimantan Timur, dan Kalimantan Selatan yang merupakan pemekaran dari Provinsi Kalimantan.



Tahun 1857 terbentuk provinsi baru. Provinsi tersebut hasil pemekaran dari provinsi Kalimantan Selatan, yaitu provinsi Kalimantan Tengah. Tahun 1958 terbentuk beberapa provinsi baru, yaitu Riau, Jambi, Bali, Nusa Tenggara Barat, dan Nusa Tenggara Timur. Provinsi Riau dan Jambi adalah hasil pemekaran dari Provinsi Sumatra Barat. Adapun Bali, NTB, dan NTT adalah hasil pemekaran dari Provinsi Sunda Kecil.

Tahun 1960 dibentuk Provinsi Sulawesi Selatan dan Sulawesi Tenggara. Provinsi itu merupakan hasil pemekaran dari Provinsi Sulawesi Utara dan Sulawesi Tengah. Tahun 1964 terbentuk Provinsi Sulawesi Utara, Provinsi Sulawesi Tengah, Provinsi Sulawesi Selatan, dan Provinsi Sulawesi Tenggara. Tahun 1964 juga terjadi pemekaran Provinsi Jambi, yaitu Provinsi Lampung.

Tahun 1967 terbentuk provinsi baru hasil pemekaran Provinsi Lampung, yaitu Provinsi Bengkulu. Pada tahun 1969 Irian Barat menjadi bagian wilayah Indonesia. Provinsi Timor Timur masuk menjadi bagian dari wilayah Indonesia pada tahun 1976.

Tahun 1999 terbentuk provinsi baru, yaitu Provinsi Maluku Utara. Provinsi tersebut merupakan hasil pemekaran dari Provinsi Maluku. Namun, pada tahun 1999 Indonesia kehilangan satu provinsi, yaitu Provinsi Timor Timur. Timor Timur melepaskan diri dari wilayah Indonesia. Timor Timur menjadi negara yang berdiri sendiri melalui referendum.

Sampai pada tahun 2004 jumlah provinsi di Indonesia menjadi 33 provinsi. Berikut tabel perkembangan provinsi-provinsi di Indonesia.

**Tabel 1.2** Perkembangan Provinsi di Indonesia

1945	1950	1956	1957	1958
SUMATRA	Sumatra Utara	Sumatra Utara	Sumatra Utara	Sumatra Utara
		DI Aceh	DI Aceh	DI Aceh
	Sumatra Tengah	Sumatra Tengah	Sumatra Barat	Sumatra Barat
				Riau
			Jambi	
	Sumatra Selatan	Sumatra Selatan	Sumatra Selatan	Sumatra Selatan
KALIMANTAN	KALIMANTAN	Kalimantan Barat	Kalimantan Barat	Kalimantan Barat
		Kalimantan Timur	Kalimantan Timur	Kalimantan Timur
		Kalimantan Selatan	Kalimantan Selatan	Kalimantan Selatan
			Kalimantan Tengah	Kalimantan Tengah
JAWA BARAT	Jawa Barat	DKI Jakarta Raya	DKI Jakarta Raya	DKI Jakarta Raya
		Jawa Barat	Jawa Barat	Jawa Barat
JAWA TENGAH	Jawa Tengah	Jawa Tengah	Jawa Tengah	Jawa Tengah
	DI Yogyakarta	DI Yogyakarta	DI Yogyakarta	DI Yogyakarta
JAWA TIMUR	Jawa Timur	Jawa Timur	Jawa Timur	Jawa Timur
SULAWESI	Sulawesi Utara dan Tengah	Sulawesi Utara dan Tengah	Sulawesi Utara dan Tengah	Sulawesi Utara dan Tengah
SUNDA	Sunda Kecil	Sunda Kecil	Sunda Kecil	BALI
				NTB
				NTT
MALUKU	Maluku	Maluku	Maluku	Maluku

1959	1960	1964	1967	1969
Sumatra Utara	Sumatra Utara	Sumatra Utara	Sumatra Utara	Sumatra Utara
DI Aceh	DI Aceh	DI Aceh	DI Aceh	DI Aceh
Sumatra Barat	Sumatra Barat	Sumatra Barat	Sumatra Barat	Sumatra Barat
Riau	Riau	Riau	Riau	Riau
Jambi	Jambi	Jambi	Jambi	Jambi
		Lampung	Lampung	Lampung
		Bengkulu	Bengkulu	Bengkulu
Sumatra Selatan	Sumatra Selatan	Sumatra Selatan	Sumatra Selatan	Sumatra Selatan
Kalimantan Barat	Kalimantan Barat	Kalimantan Barat	Kalimantan Barat	Kalimantan Barat
Kalimantan Timur	Kalimantan Timur	Kalimantan Timur	Kalimantan Timur	Kalimantan Timur
Kalimantan Selatan	Kalimantan Selatan	Kalimantan Selatan	Kalimantan Selatan	Kalimantan Selatan
Kalimantan Tengah	Kalimantan Tengah	Kalimantan Tengah	Kalimantan Tengah	Kalimantan Tengah
DKI Jakarta Raya	DKI Jakarta Raya	DKI Jakarta Raya	DKI Jakarta Raya	DKI Jakarta Raya
Jawa Barat	Jawa Barat	Jawa Barat	Jawa Barat	Jawa Barat
Jawa Tengah	Jawa Tengah	Jawa Tengah	Jawa Tengah	Jawa Tengah
DI Yogyakarta	DI Yogyakarta	DI Yogyakarta	DI Yogyakarta	DI Yogyakarta
Jawa Timur	Jawa Timur	Jawa Timur	Jawa Timur	Jawa Timur
Sulawesi Utara dan Tengah	Sulawesi Utara dan Tengah	Sulawesi Utara	Sulawesi Utara	Sulawesi Utara
		Sulawesi Tengah	Sulawesi Tengah	Sulawesi Tengah
Sulawesi Selatan dan Tenggara	Sulawesi Selatan	Sulawesi Selatan	Sulawesi Selatan	Sulawesi Selatan
		Sulawesi Tenggara	Sulawesi Tenggara	Sulawesi Tenggara
BALI	BALI	BALI	BALI	BALI
NTB	NTB	NTB	NTB	NTB
NTT	NTT	NTT	NTT	NTT
Maluku	Maluku	Maluku	Maluku	Maluku
				IRIAN BARAT

1976	1999	2000	2003	2004
Sumatra Utara	Sumatra Utara	Sumatra Utara	Sumatra Utara	Sumatra Utara
DI Aceh	NAD	NAD	NAD	NAD
Sumatra Barat	Sumatra Barat	Sumatra Barat	Sumatra Barat	Sumatra Barat
Riau	Riau	Riau	Riau	Riau
				Kepulauan Riau
Jambi	Jambi	Jambi	Jambi	Jambi
Lampung	Lampung	Lampung	Lampung	Lampung
Bengkulu	Bengkulu	Bengkulu	Bengkulu	Bengkulu
Sumatra Selatan	Sumatra Selatan	Sumatra Selatan	Sumatra Selatan	Sumatra Selatan
		Bangka Belitung	Bangka Belitung	Bangka Belitung
Kalimantan Barat	Kalimantan Barat	Kalimantan Barat	Kalimantan Barat	Kalimantan Barat
Kalimantan Timur	Kalimantan Timur	Kalimantan Timur	Kalimantan Timur	Kalimantan Timur
Kalimantan Selatan	Kalimantan Selatan	Kalimantan Selatan	Kalimantan Selatan	Kalimantan Selatan
Kalimantan Tengah	Kalimantan Tengah	Kalimantan Tengah	Kalimantan Tengah	Kalimantan Tengah

DKI Jakarta Raya	DKI Jakarta Raya	DKI Jakarta Raya	DKI Jakarta Raya	DKI Jakarta Raya
Jawa Barat	Jawa Barat	Jawa Barat	Jawa Barat	Jawa Barat
		Banten	Banten	Banten
Jawa Tengah	Jawa Tengah	Jawa Tengah	Jawa Tengah	Jawa Tengah
DI Yogyakarta	DI Yogyakarta	DI Yogyakarta	DI Yogyakarta	DI Yogyakarta
Jawa Timur	Jawa Timur	Jawa Timur	Jawa Timur	Jawa Timur
Sulawesi Utara	Sulawesi Utara	Sulawesi Utara	Sulawesi Utara	Sulawesi Utara
		Gorontalo	Gorontalo	Gorontalo
Sulawesi Tengah	Sulawesi Tengah	Sulawesi Tengah	Sulawesi Tengah	Sulawesi Tengah
Sulawesi Selatan	Sulawesi Selatan	Sulawesi Selatan	Sulawesi Selatan	Sulawesi Selatan
				Sulawesi Barat
Sulawesi Tenggara	Sulawesi Tenggara	Sulawesi Tenggara	Sulawesi Tenggara	Sulawesi Tenggara
BALI	BALI	BALI	BALI	BALI
NTB	NTB	NTB	NTB	NTB
NTT	NTT	NTT	NTT	NTT
Timor Timur	(Timor Timur lepas dari Indonesia)			
Maluku	Maluku	Maluku	Maluku	Maluku
	Maluku Utara	Maluku Utara	Maluku Utara	Maluku Utara
Irian Jaya	Papua (Irian Jaya)	Papua (Irian Jaya)	Papua (Irian Jaya)	Papua (Irian Jaya)
	Irian Jaya Barat	Irian Jaya Barat	Irian Jaya Barat	Irian Jaya Barat

## Tugas

Lengkapilah tabel berikut ini.

No.	Provinsi	Provinsi Baru Hasil Pemekaran
1.	Sumatra Barat	Riau
2.	Sumatra Selatan	...
3.	Riau	...
4.	Jambi	...
5.	Lampung	...
6.	Jawa Barat	...
7.	Sulawesi Utara	...
8.	Sulawesi Selatan	...
9.	Maluku	...
10.	Irian Jaya	...

Setelah dikerjakan, tukarlah pekerjaanmu dengan teman sebangkumu. Periksa dengan teliti, kemudian kumpulkan kepada gurumu.

## Kilas Sosial

Tahukah kamu tentang referendum. Referendum merupakan cara pengambilan keputusan melalui jajak pendapat. Saat itu masyarakat Timor Timur diberi keleluasaan memilih. Mereka dapat memilih merdeka menjadi negara berdaulat atau bergabung dengan NKRI. Hasil referendum menyatakan bahwa Timor Timur lepas dari wilayah NKRI.

## 2. Letak Provinsi-provinsi di Indonesia pada Peta

Jumlah provinsi di Indonesia sampai dengan tahun 2004 adalah 33 provinsi. Perhatikan peta pembagian wilayah provinsi di Indonesia berikut ini.



Sumber: [www.cia.gov](http://www.cia.gov)

Gambar 1.1 Peta pembagian wilayah provinsi di Indonesia

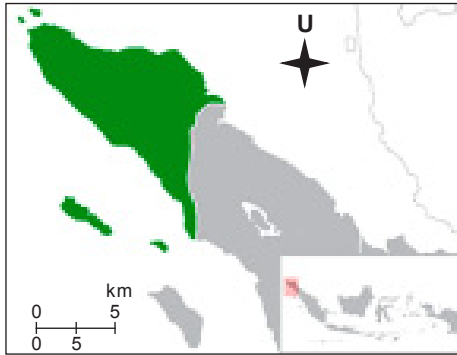
### a. Pulau Sumatra

Pulau Sumatra terdiri atas 10 provinsi. Berikut ini provinsi-provinsi yang terdapat di Pulau Sumatra dan daerah ibukotanya.

Tabel 1.3 Provinsi di Pulau Sumatra

No.	Provinsi	Ibukota Provinsi
1.	Nanggroe Aceh Darussalam	Banda Aceh
2.	Sumatra Utara	Medan
3.	Sumatra Barat	Padang
4.	Sumatra Selatan	Palembang
5.	Riau	Pekanbaru
6.	Kepulauan Riau	Tanjung Pinang
7.	Jambi	Jambi
8.	Kepulauan Bangka Belitung	Pangkal Pinang
9.	Bengkulu	Bengkulu
10.	Lampung	Bandar Lampung

### 1) Provinsi Nanggroe Aceh Darussalam



Sumber: wikipedia.org

Gambar 1.2 Peta Provinsi Naggroe Aceh Darussalam

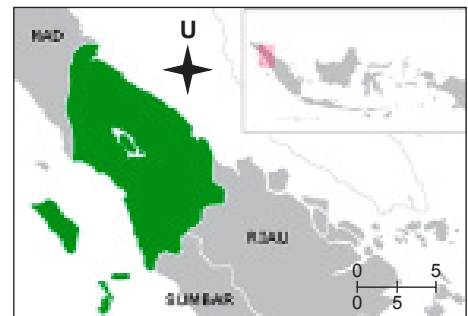
Provinsi Nanggroe Aceh Darussalam merupakan provinsi paling ujung sebelah barat wilayah Indonesia. Letak astronomi Provinsi Nanggroe Aceh Darussalam berada di antara garis lintang  $2^{\circ} - 6^{\circ}$  LU dan garis bujur  $95^{\circ} - 99^{\circ}$  BT.

Batas-batas wilayah Provinsi Nanggroe Aceh Darussalam sebelah barat dibatasi oleh Laut Indonesia. Sebelah timur berbatasan dengan Sumatra Utara. Sebelah utara dibatasi oleh Selat Malaka, dan sebelah selatan dibatasi oleh Laut Indonesia. Provinsi ini mempunyai luas wilayah  $51.937 \text{ km}^2$ .

### 2) Provinsi Sumatra Utara

Letak astronomis Provinsi Sumatra Utara berada di antara garis lintang  $1^{\circ}$  LS –  $5^{\circ}$  LU dan garis bujur  $97^{\circ} - 101^{\circ}$  BT. Luas wilayah Provinsi Sumatra, yaitu  $73.587 \text{ km}^2$ .

Batas-batas wilayah Provinsi Sumatra Utara sebelah barat berbatasan dengan Laut Indonesia. Sebelah utara dengan Provinsi Nanggroe Aceh Darussalam. Sebelah timur berbatasan dengan Selat Malaka. Sebelah selatan berbatasan dengan Provinsi Sumatra Barat dan Riau.



Sumber: wikipedia.org

Gambar 1.3 Peta Provinsi Sumatra Utara

### 3) Provinsi Sumatra Barat



Sumber: wikipedia.org

Gambar 1.4 Peta Provinsi Sumatra Barat

Pada awalnya Provinsi Sumatra Barat bernama Provinsi Sumatra Tengah. Pada tahun 1957 berubah menjadi Provinsi Sumatra Barat. Letak astronomi provinsi ini berada di antara garis lintang  $1^{\circ}$  LU –  $4^{\circ}$  LS dan garis bujur  $98^{\circ} - 102^{\circ}$  BT. Provinsi Sumatra Barat mempunyai luas wilayah  $42.899 \text{ km}^2$ .

Batas-batas wilayah Provinsi Sumatra Barat, sebelah barat berbatasan dengan Laut Indonesia. Sebelah utara dan sebelah timur berbatasan dengan Provinsi Riau. Adapun sebelah selatan berbatasan dengan Provinsi Bengkulu dan Jambi.

#### 4) Provinsi Riau



Sumber: wikipedia.org

Gambar 1.5 Peta Provinsi Riau

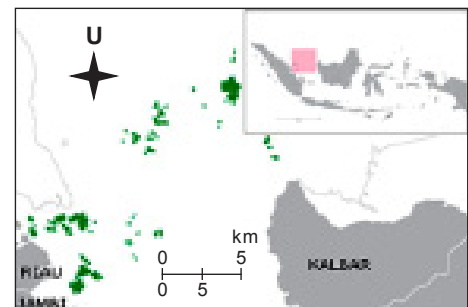
Provinsi Riau berdiri pada tahun 1958. Provinsi Riau merupakan hasil pemekaran dari Provinsi Sumatra Barat. Letak astronomis Provinsi Riau berada di antara garis lintang  $1^{\circ}$  LS –  $2,5^{\circ}$  LU dan garis bujur  $100^{\circ}$  –  $104^{\circ}$  BT.

Batas-batas wilayah Provinsi Riau, sebelah barat berbatasan dengan Provinsi Sumatra Barat. Sebelah utara berbatasan dengan Provinsi Sumatra Utara. Sebelah timur berbatasan dengan Provinsi Kepulauan Riau. Sebelah selatan berbatasan dengan Provinsi Sumatra Barat dan Provinsi Jambi.

#### 5) Provinsi Kepulauan Riau

Provinsi Kepulauan Riau merupakan provinsi baru. Provinsi ini hasil pemekaran dari Provinsi Riau pada tahun 2003. Letak astronomis Provinsi Kepulauan Riau berada di antara garis lintang  $1^{\circ}$  LS –  $5^{\circ}$  LU dan garis bujur  $103^{\circ}$  –  $109^{\circ}$  BT.

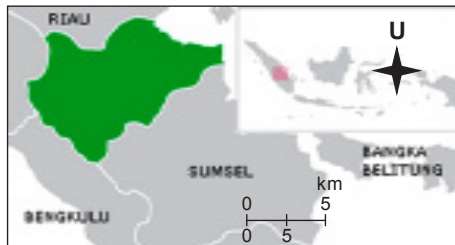
Batas-batas wilayah Provinsi Kepulauan Riau sebelah barat berbatasan dengan Provinsi Riau. Sebelah utara berbatasan dengan Laut Cina Selatan dan Malaysia. Sebelah timur berbatasan dengan Selat Karimata. Sebelah selatan berbatasan dengan Provinsi Jambi dan Provinsi Bangka Belitung.



Sumber: wikipedia.org

Gambar 1.6 Peta Provinsi Kepulauan Riau

#### 6) Provinsi Jambi



Sumber: wikipedia.org

Gambar 1.7 Peta Provinsi Jambi

Letak astronomi Provinsi Jambi berada di antara garis lintang  $1^{\circ}$  –  $3^{\circ}$  LS dan garis bujur  $101^{\circ}$  –  $105^{\circ}$  BT. Luas wilayah Provinsi Jambi adalah  $53.437 \text{ km}^2$ .

Batas-batas wilayah Provinsi Jambi. Sebelah barat berbatasan dengan Provinsi Bengkulu. Sebelah utara berbatasan dengan Provinsi Sumatra Barat. Sebelah timur berbatasan dengan Selat Malaka. Sebelah selatan berbatasan dengan Provinsi Sumatra Selatan.

## Tugas

Lengkapilah tabel berikut ini.

No.	Provinsi	Batas-batas Wilayah	Letak Astronomis
1.	Sumatra Selatan		
2.	Bangka Belitung		
3.	Bengkulu		
4.	Lampung		

Salinlah di buku latihanmu. Selanjutnya, serahkan kepada gurumu untuk diperiksa.

### b. Pulau Kalimantan

Pulau Kalimantan terbagi menjadi empat provinsi. Berikut ini provinsi di Pulau Kalimantan beserta ibukotanya.

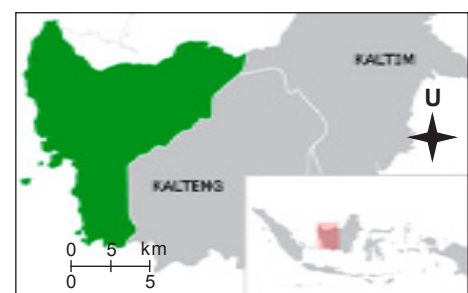
**Tabel 1.4** Provinsi di Pulau Kalimantan

No.	Provinsi	Ibukota
1.	Kalimantan Barat	Pontianak
2.	Kalimantan Tengah	Palangkaraya
3.	Kalimantan Selatan	Banjarmasin
4.	Kalimantan Timur	Samarinda

#### 1) Provinsi Kalimantan Barat

Letak astronomi Provinsi Kalimantan Barat berada di antara garis lintang  $2^{\circ}\text{LU} - 3^{\circ}\text{LS}$  dan garis bujur  $109^{\circ} - 114^{\circ}\text{BT}$ . Luas wilayah Provinsi Kalimantan Barat adalah  $146.807\text{ km}^2$ .

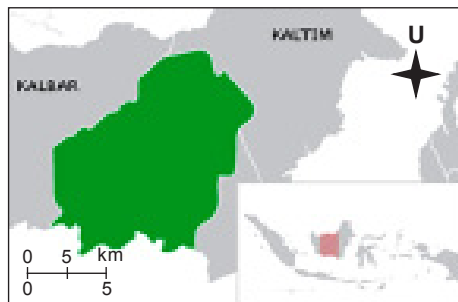
Batas-batas wilayah Provinsi Kalimantan Barat sebelah barat berbatasan dengan Selat Karimata. Sebelah utara berbatasan dengan Malaysia. Sebelah timur berbatasan dengan Provinsi Kalimantan Timur dan Kalimantan Tengah. Sebelah selatan berbatasan dengan Provinsi Kalimantan Tengah.



Sumber: wikipedia.org

**Gambar 1.8** Peta Provinsi Kalimantan Barat

## 2) Provinsi Kalimantan Tengah



Sumber: wikipedia.org

Gambar 1.9 Peta Provinsi Kalimantan Tengah

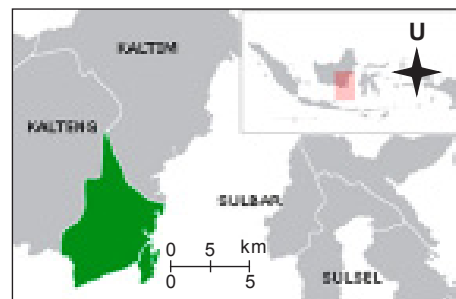
Provinsi Kalimantan Tengah berdiri pada tahun 1957. Provinsi ini merupakan hasil pemekaran dari Provinsi Kalimantan Selatan. Letak astronomis Kalimantan Tengah berada di antara garis lintang  $1^{\circ}$  LU –  $4^{\circ}$  LS dan garis bujur  $110^{\circ}$  –  $116^{\circ}$  BT. Provinsi Kalimantan Tengah mempunyai luas wilayah  $153.564 \text{ km}^2$ .

Batas-batas wilayah Provinsi Kalimantan Tengah sebelah barat berbatasan dengan Provinsi Kalimantan Barat. Sebelah utara berbatasan dengan Provinsi Kalimantan Barat dan Kalimantan Timur. Sebelah timur berbatasan dengan Provinsi Kalimantan Timur. Sebelah selatan berbatasan dengan Provinsi Kalimantan Selatan dan Laut Jawa.

## 3) Provinsi Kalimantan Selatan

Letak astronomi Provinsi Kalimantan Selatan berada di antara garis lintang  $1^{\circ}$  –  $5^{\circ}$  LS dan garis bujur  $114^{\circ}$  –  $117^{\circ}$  BT. Provinsi ini mempunyai luas wilayah  $43.546 \text{ km}^2$ .

Batas-batas wilayah Provinsi Kalimantan Selatan sebelah barat berbatasan dengan Provinsi Kalimantan Tengah. Sebelah utara berbatasan dengan Provinsi Kalimantan Timur dan Kalimantan Tengah. Sebelah timur berbatasan dengan Selat Makassar. Sebelah selatan berbatasan dengan Laut Jawa.



Sumber: wikipedia.org

Gambar 1.10 Peta Provinsi Kalimantan Selatan

## 4) Provinsi Kalimantan Timur



Sumber: wikipedia.org

Gambar 1.11 Peta Provinsi Kalimantan Timur

Letak astronomis Provinsi Kalimantan Timur berada di antara garis lintang  $5^{\circ}$  LU –  $3^{\circ}$  LS dan garis bujur  $113^{\circ}$  –  $119^{\circ}$  BT. Luas Wilayah provinsi Kalimantan Timur adalah  $230.277 \text{ km}^2$ .

Batas-batas wilayah Provinsi Kalimantan Timur sebelah barat berbatasan dengan Provinsi Kalimantan Tengah, Provinsi Kalimantan Barat, dan Malaysia. Sebelah utara berbatasan dengan Malaysia. Sebelah timur berbatasan dengan Selat Makassar dan Laut Sulawesi. Sebelah selatan berbatasan dengan Provinsi Kalimantan Selatan.



### c. Pulau Jawa

Pulau Jawa terbagi menjadi enam provinsi. Berikut ini tabel provinsi di Pulau Jawa beserta ibukotanya.

**Tabel 1.5** Provinsi di Pulau Jawa

No.	Provinsi	Ibukota
1.	Banten	Serang
2.	Jawa Barat	Bandung
3.	Daerah Khusus Ibukota Jakarta	Jakarta
4.	Jawa Tengah	Semarang
5.	Daerah Istimewa Yogyakarta	Yogyakarta
6.	Jawa Timur	Surabaya

#### 1) Provinsi Banten



Sumber: wikipedia.org

**Gambar 1.12** Peta Provinsi Banten

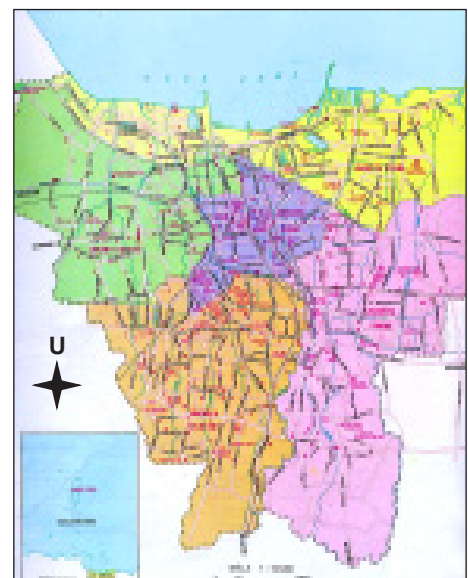
Provinsi Banten berdiri pada tahun 2000. Provinsi Banten adalah pemekaran dari Provinsi Jawa Barat. Letak astronomis Provinsi Banten berada di antara garis lintang  $5^{\circ} - 8^{\circ}$  LS dan garis bujur  $105^{\circ} - 107^{\circ}$  BT. Provinsi Banten mempunyai luas wilayah  $8.651 \text{ km}^2$ .

Batas-batas wilayah Provinsi Banten sebelah barat berbatasan dengan Selat Sunda. Sebelah utara berbatasan dengan Laut Jawa. Sebelah Timur berbatasan dengan Provinsi Jawa Barat dan Provinsi DKI Jakarta. Sebelah selatan berbatasan dengan Laut Indonesia.

#### 2) Provinsi Daerah Khusus Ibukota Jakarta

Provinsi DKI Jakarta berdiri tahun 1956. DKI Jakarta merupakan pemekaran dari Provinsi Jawa Barat. Letak astronomi Provinsi DKI Jakarta berada di antara garis lintang  $6^{\circ} - 7^{\circ}$  LS dan antara garis bujur  $106^{\circ} - 107^{\circ}$  BT. DKI Jakarta mempunyai luas wilayah  $664 \text{ km}^2$ .

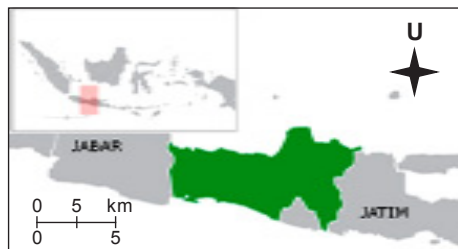
Batas-batas dari Provinsi DKI Jakarta sebelah barat berbatasan dengan Provinsi Banten. Sebelah utara berbatasan dengan Laut Jawa. Sebelah timur dan sebelah selatan berbatasan dengan Provinsi Jawa Barat.



Sumber: wikipedia.org

**Gambar 1.13** Peta Provinsi DKI Jakarta

### 3) Provinsi Jawa Tengah



Sumber: wikipedia.org

Gambar 1.14 Peta Provinsi Jawa Tengah

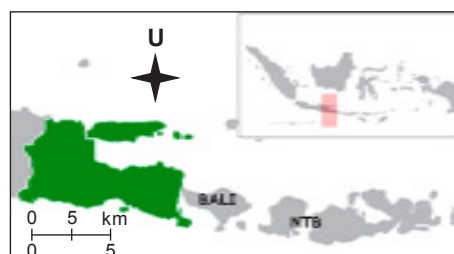
Letak astronomis Provinsi Jawa Tengah berada di antara garis lintang  $6^{\circ}$  –  $9^{\circ}$  LS dan garis bujur  $108^{\circ}$  –  $112^{\circ}$  BT. Luas wilayah Provinsi Jawa Tengah  $32.549 \text{ km}^2$ .

Batas-batas wilayah Provinsi Jawa Tengah sebelah barat berbatasan dengan Provinsi Jawa Barat. Sebelah utara berbatasan dengan Laut Jawa. Sebelah timur berbatasan dengan Provinsi Jawa Timur. Sebelah selatan berbatasan dengan Provinsi Daerah Istimewa Yogyakarta dan Laut Indonesia.

### 4) Provinsi Jawa Timur

Letak astronomis Provinsi Jawa Timur berada di antara garis lintang  $6^{\circ}$  –  $9^{\circ}$  LS dan garis bujur  $110^{\circ}$  –  $115^{\circ}$  BT. Provinsi Jawa Timur mempunyai luas  $47.922 \text{ km}^2$ .

Batas-batas wilayah Provinsi Jawa Timur sebelah barat berbatasan dengan Provinsi Jawa Tengah. Sebelah utara berbatasan dengan Laut Jawa. Sebelah timur berbatasan dengan Selat Bali. Sebelah selatan berbatasan dengan Laut Indonesia.



Sumber: wikipedia.org

Gambar 1.15 Peta Provinsi Jawa Timur

## Tugas

Jelaskan letak astronomis dan batas-batas wilayah dari Provinsi Jawa Barat dan Provinsi Daerah Istimewa Yogyakarta.

### d. Kepulauan Nusa Tenggara

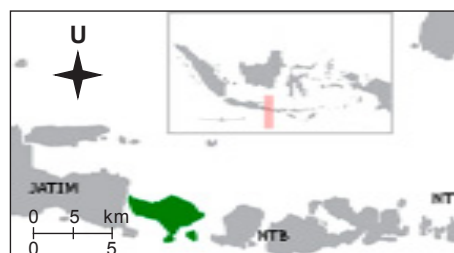
Kepulauan Nusa Tenggara terbagi menjadi tiga wilayah provinsi. Di antaranya Provinsi Bali dengan ibukota Denpasar, Provinsi Nusa Tenggara Barat dengan ibukota Mataram, dan Provinsi Nusa Tenggara Timur dengan ibukota Kupang.

Provinsi Bali, Nusa Tenggara Barat, dan Nusa Tenggara Timur dibentuk pada tahun 1958. Pada awalnya ketiga provinsi tersebut menjadi satu wilayah Sunda Kecil.

#### 1) Provinsi Bali

Letak astronomis Provinsi Bali berada di antara garis lintang  $8^{\circ}$  –  $9^{\circ}$  LS dan garis bujur  $114^{\circ}$  –  $116^{\circ}$  BT. Provinsi Bali mempunyai luas wilayah  $5.633 \text{ km}^2$ .

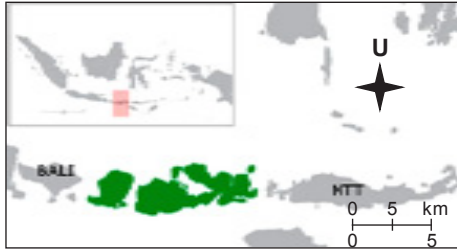
Batas-batas wilayah Provinsi Bali sebelah barat berbatasan dengan Selat Bali. Sebelah utara berbatasan dengan Laut Bali. Sebelah timur berbatasan dengan Selat Lombok. Sebelah selatan berbatasan dengan Laut Indonesia.



Sumber: wikipedia.org

Gambar 1.16 Peta Provinsi Bali

## 2) Provinsi Nusa Tenggara Barat



Sumber: wikipedia.org

Gambar 1.17 Peta Provinsi Nusas Tenggara Barat

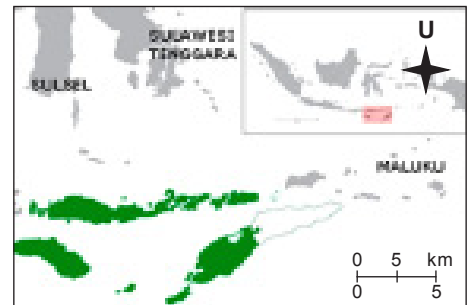
Letak astronomis dari Provinsi Nusa Tenggara Barat berada di antara garis lintang  $8^{\circ} - 10^{\circ}$  LS dan garis bujur  $115^{\circ} - 120^{\circ}$  BT. Luas wilayah Provinsi Nusa Tenggara Barat adalah  $20.153 \text{ km}^2$ .

Batas-batas wilayah Provinsi Nusa Tenggara Barat sebelah barat berbatasan dengan Selat Lombok. Sebelah utara berbatasan dengan Laut Flores. Sebelah timur berbatasan dengan Selat Sope. Sebelah selatan berbatasan dengan Laut Indonesia.

## 3) Provinsi Nusa Tenggara Timur

Letak astronomis Provinsi Nusa Tenggara Timur berada di antara garis lintang  $8^{\circ} - 11^{\circ}$  LS dan garis bujur  $118^{\circ} - 126^{\circ}$  BT. Luas wilayah Provinsi Nusa Tenggara Timur adalah  $47.351 \text{ km}^2$ .

Batas-batas wilayah Provinsi Nusa Tenggara Timur sebelah barat berbatasan dengan Selat Sope. Sebelah utara berbatasan dengan Laut Flores. Sebelah timur berbatasan dengan Selat Ombai dan negara Timor Timur. Sebelah selatan berbatasan dengan Laut Indonesia.



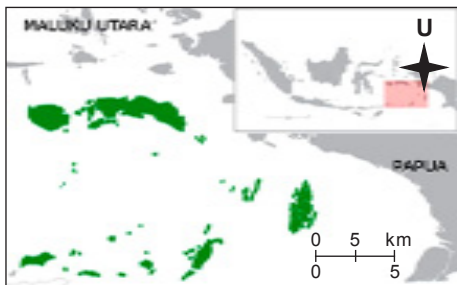
Sumber: wikipedia.org

Gambar 1.18 Peta Provinsi Nusa Tenggara Timur

## e. Kepulauan Maluku

Kepulauan Maluku terbagi menjadi dua provinsi. Provinsi tersebut adalah provinsi Maluku dengan ibukota Ambon dan provinsi provinsi Maluku Utara dengan ibukota Ternate.

### 1) Provinsi Maluku



Sumber: wikipedia.org

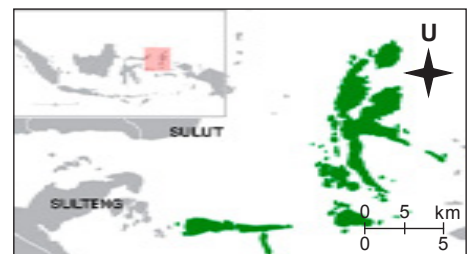
Gambar 1.19 Peta Provinsi Maluku

Letak astronomi dari provinsi Maluku berada di antara garis lintang  $2^{\circ} - 8^{\circ}$  LS dan garis bujur  $126^{\circ} - 136^{\circ}$  BT. Provinsi Maluku mempunyai luas wilayah  $46.975 \text{ km}^2$ .

Batas-batas wilayah dari provinsi Maluku sebelah barat berbatahan dengan Laut Banda. Sebelah utara dan sebelah timur berbatasan dengan Laut Seram. Sebelah selatan berbatasan dengan Laut Arafuru.

### 2) Provinsi Maluku Utara

Provinsi Maluku Utara berdiri pada tahun 1999. Provinsi Maluku Utara merupakan pemekaran dari provinsi Maluku. Letak astronomis provinsi Maluku Utara berada di antara garis lintang  $3^{\circ}$  LU –  $3^{\circ}$  LS dan garis bujur  $124^{\circ} - 130^{\circ}$  BT. Provinsi Maluku Utara mempunyai luas wilayah  $30.895 \text{ km}^2$ .



Sumber: wikipedia.org

Gambar 1.20 Peta Provinsi Maluku Utara

Batas-batas wilayah provinsi Maluku Utara sebelah barat berbatasan dengan Laut Maluku. Sebelah utara berbatasan dengan Lautan Pasifik. Sebelah timur dan selatan berbatasan dengan Laut Seram.

## f. Pulau Sulawesi

Pulau Sulawesi terbagi menjadi enam Provinsi. Berikut ini provinsi di pulau Sulawesi beserta ibukotanya.

**Tabel 1.6** Provinsi di Pulau Sulawesi

No.	Provinsi	Ibukota
1.	Sulawesi Utara	Manado
2.	Sulawesi Tengah	Palu
3.	Sulawesi Selatan	Makassar
4.	Sulawesi Tenggara	Kendari
5.	Sulawesi Barat	Mamuju
6.	Gorontalo	Gorontalo

### 1) Sulawesi Utara



Sumber: wikipedia.org

**Gambar 1.21** Peta Provinsi Sulawesi Utara

Letak astronomis Provinsi Sulawesi Utara berada di antara garis lintang  $0^{\circ} - 6^{\circ}$  LU dan garis bujur  $123^{\circ} - 128^{\circ}$  BT. Provinsi Sulawesi Utara mempunyai luas wilayah  $15.273 \text{ km}^2$ .

Batas-batas wilayah Provinsi Sulawesi Utara sebelah barat berbatasan dengan Provinsi Gorontalo. Sebelah utara dengan Laut Sulawesi. Sebelah timur berbatasan dengan Laut Maluku. Sebelah selatan berbatasan dengan Teluk Tomini.

### 2) Provinsi Gorontalo

Provinsi Gorontalo merupakan pemekaran dari Provinsi Sulawesi Utara. Letak astronomis dari Provinsi Gorontalo berada di antara garis lintang  $0^{\circ} - 2^{\circ}$  LU dan garis bujur  $121^{\circ} - 124^{\circ}$  BT. Provinsi Gorontalo mempunyai luas wilayah  $12.215 \text{ km}^2$ .

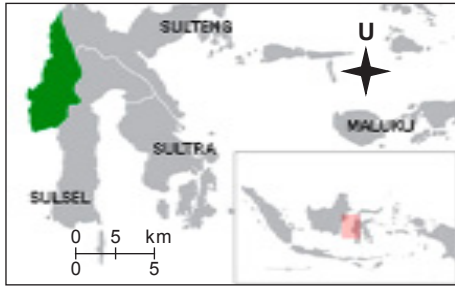
Batas-batas wilayah Provinsi Gorontalo sebelah barat berbatasan dengan Provinsi Sulawesi Tengah. Sebelah utara dengan Laut Sulawesi. Sebelah timur dengan Provinsi Sulawesi Utara. Sebelah selatan dengan Teluk Tomini.



Sumber: wikipedia.org

**Gambar 1.22** Peta Provinsi Gorontalo

### 3) Provinsi Sulawesi Barat



Sumber: wikipedia.org

Gambar 1.23 Peta Provinsi Sulawesi Barat

Provinsi Sulawesi Barat merupakan provinsi baru. Provinsi ini merupakan pemekaran dari Provinsi Sulawesi Selatan tahun 2004. Letak astronomis Provinsi Sulawesi Barat berada di antara garis lintang  $9^{\circ} - 4^{\circ}$  LS dan garis bujur  $118^{\circ} - 120^{\circ}$  BT.

Batas-batas wilayah Provinsi Sulawesi Barat sebelah barat berbatasan dengan Selat Makassar. Sebelah utara berbatasan dengan Provinsi Sulawesi Tengah. Sebelah timur berbatasan dengan Provinsi Sulawesi Tengah dan Provinsi Sulawesi Selatan. Sebelah selatan berbatasan dengan Provinsi Sulawesi Selatan.

## Tugas

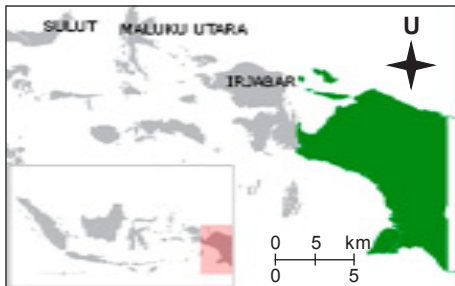
Jelaskan batas-batas wilayah dari provinsi Sulawesi Tengah, Sulawesi Selatan, dan Sulawesi Tenggara.

Tuliskan di selembar kertas. Selanjutnya, serahkan kepada gurumu.

### g. Irian Jaya

Pulau Irian Jaya terbagi menjadi dua provinsi, yaitu Provinsi Papua Barat dengan ibukota Monokwari dan Provinsi Papua dengan ibukota Jayapura.

#### 1) Provinsi Papua



Sumber: wikipedia.org

Gambar 1.24 Peta Provinsi Papua

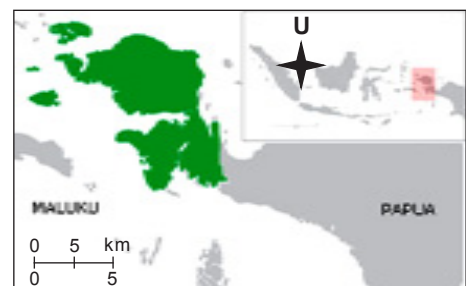
Letak astronomis dari Provinsi Papua berada di antara garis lintang  $0^{\circ} - 8^{\circ}$  LS dan garis bujur  $134^{\circ} - 140^{\circ}$  BT. Provinsi Papua mempunyai luas  $421.981 \text{ km}^2$ .

Batas wilayahnya sebelah barat berbatasan dengan Provinsi Papua Barat dan Laut Arafuru. Sebelah utara berbatasan dengan Laut Pasifik. Sebelah timur berbatasan dengan negara Papua Nugini. Sebelah selatan berbatasan dengan Laut Arafuru.

#### 2) Provinsi Papua Barat

Provinsi Papua Barat merupakan pemekaran dari Provinsi Irian Jaya tahun 1999. Letak astronomis Provinsi Papua Barat berada di antara garis lintang  $0^{\circ} - 5^{\circ}$  LS dan garis bujur  $129^{\circ} - 135^{\circ}$  BT. Provinsi Papua Barat mempunyai luas  $116.571 \text{ km}^2$ .

Batas wilayahnya sebelah barat berbatasan dengan Laut Banda. Sebelah utara berbatasan dengan Laut Pasifik. Sebelah timur berbatasan dengan Provinsi Papua. Sebelah selatan dengan Laut Arafuru.



Sumber: wikipedia.org

Gambar 1.25 Peta Provinsi Papua Barat

Berikut ini daftar nama-nama dari 33 provinsi yang terdapat di Indonesia.

**Tabel 1.7** Provinsi-provinsi di Indonesia

No.	Nama Provinsi	Ibukota
1.	Nanggroe Aceh Darussalam	Banda Aceh
2.	Sumatra Utara	Medan
3.	Sumatra Barat	Padang
4.	Riau	Pekanbaru
5.	Kepulauan Riau	Tanjung Pinang
6.	Jambi	Jambi
7.	Sumatra Selatan	Palembang
8.	Bengkulu	Bengkulu
9.	Lampung	Bandar Lampung
10.	Kepulauan Bangka Belitung	Pangkal Pinang
11.	Kalimantan Barat	Pontianak
12.	Kalimantan Tengah	Palangkaraya
13.	Kalimantan Selatan	Banjarmasin
14.	Kalimantan Timur	Samarinda
15.	DKI Jakarta	Jakarta
16.	Jawa Barat	Bandung
17.	Banten	Serang
18.	Jawa Tengah	Semarang
19.	DI Yogyakarta	Yogyakarta
20.	Jawa Timur	Surabaya
21.	Gorontalo	Gorontalo
22.	Sulawesi Utara	Manado
23.	Sulawesi Selatan	Makassar
24.	Sulawesi Tenggara	Kendari
25.	Sulawesi Tengah	Palu
26.	Sulawesi Barat	Mamuju
27.	Bali	Denpasar
28.	Nusa Tenggara Barat	Mataram
29.	Nusa Tenggara Timur	Kupang
30.	Maluku	Ambon
31.	Maluku Utara	Ternate
32.	Papua Barat	Jayapura
33.	Papua	Manokwari

## Tugas

Bentuklah kelompok yang terdiri atas 3–5 orang. Diskusikan dampak positif dan negatif dari terbentuknya provinsi-provinsi baru. Presentasikan hasilnya di depan kelas.

## B. Perubahan Wilayah Laut Indonesia



Negara Indonesia merupakan negara kepulauan terbesar di dunia. Luas wilayah Indonesia seluruhnya adalah 5.193.250 km<sup>2</sup>. Dua pertiga wilayah Indonesia merupakan perairan atau wilayah laut. Luas wilayah perairan di Indonesia mencapai 3.287.010 km<sup>2</sup>. Adapun wilayah daratan hanya 1.906.240 km<sup>2</sup>.

### 1. Perubahan Wilayah Laut Teritorial di Indonesia

Wilayah laut teritorial merupakan laut yang masuk ke dalam wilayah hukum Negara Indonesia. Berdasarkan *"Territoriale Zee en Maritieme Kringen Ordonante"* tahun 1939, wilayah teritorial Laut Indonesia ditetapkan sejauh 3 mil diukur dari garis luar pantai.

Ketetapan tersebut sangat merugikan negara Indonesia. Oleh karena laut menjadi penghubung pulau-pulau yang tersebar di wilayah Indonesia. Wilayah laut teritorial yang ditetapkan hanya sejauh 3 mil diukur dari pantai, banyak wilayah laut bebas di perairan Indonesia. Akibatnya, kapal dari negara lain bebas keluar masuk perairan Indonesia. Mereka juga mengambil sumber daya alam yang terdapat di laut.

Pemerintah Indonesia mencoba membela kepentingannya. Tanggal 13 Desember 1957 pemerintah Indonesia mendeklarasikan batas wilayah laut Indonesia melalui "Deklarasi Juanda". Deklarasi tersebut kemudian dibawa ke sidang UNCLOS (*United Nations Conference of the Law Of Sea*) atau Konferensi Hukum Laut Internasional yang diselenggarakan pertama kali pada tahun 1958 di Geneva. Deklarasi Juanda kemudian diperkuat dengan Undang-Undang Nomor 4 Tahun 1960.

Pada Konferensi Hukum Laut Internasional, tahun 1982, di Jamaika, wilayah perairan Indonesia mendapat pengakuan dari dunia internasional. Dengan demikian, wilayah perairan Indonesia meliputi Wilayah Laut Teritorial, Zona Ekonomi Eksekutif (ZEE), dan Batas Landas, Kontinen.

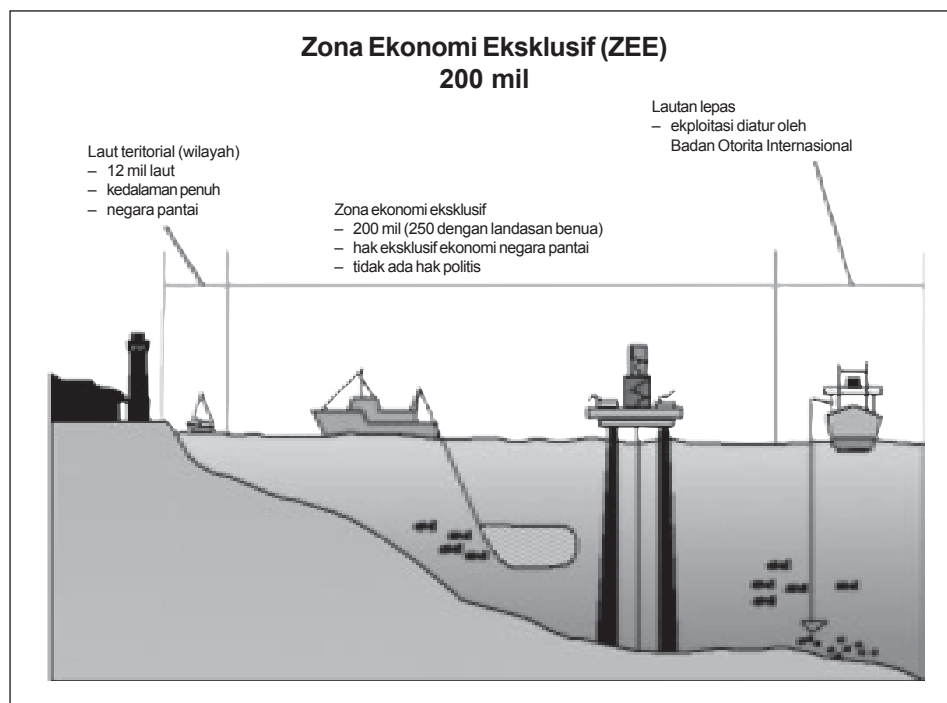
#### a. Wilayah Laut Teritorial

Wilayah laut teritorial Indonesia ditetapkan sejauh 12 mil diukur dari garis pantai terluar. Apabila laut yang lebarnya kurang dari 24 mil dikuasai oleh dua negara maka penentuan wilayah laut teritorial tiap-tiap negara dilakukan dengan cara menarik garis yang sama jauhnya dari garis pantai terluar.

## b. Zona Ekonomi Eksklusif (ZEE)

Zona Ekonomi Eksklusif yaitu perairan laut yang diukur dari garis pantai terluar sejauh 200 mil ke arah laut lepas. Apabila Zona Ekonomi Eksklusif suatu negara berhimpitan dengan Zona Ekonomi Eksklusif negara lain maka penetapan melalui perundingan dua negara.

Di dalam zona ini, bangsa Indonesia mempunyai hak untuk memanfaatkan dan mengolah segala sumber daya alam yang terkandung di dalam laut.



Sumber: [www.e-dukasi.net](http://www.e-dukasi.net)

Gambar 1.26 Wilayah laut teritorial dan ZEE Indonesia

## c. Batas Landas Kontinen

Batas landas kontinen adalah garis batas yang merupakan kelanjutan dari benua yang diukur dari garis dasar laut ke arah laut lepas hingga kedalaman 200 meter di bawah permukaan air laut.

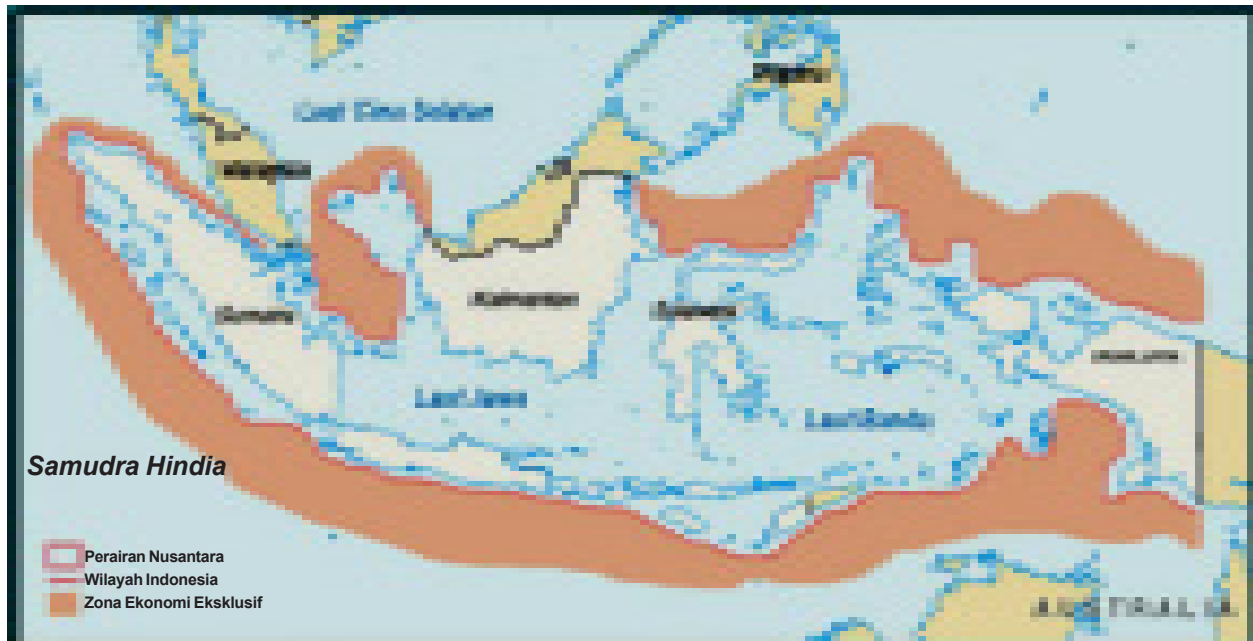
Sumber daya alam yang terkandung di dalam Landas Kontinen Indonesia merupakan kekayaan Indonesia. Pemerintah Indonesia berhak untuk memanfaatkan sumber daya alam tersebut.

## 2. Peta Wilayah Perairan Indonesia

Wilayah perairan Indonesia meliputi laut, teluk, dan selat yang berada di wilayah Indonesia. Laut, teluk, dan selat sebagai penghubung pulau-pulau wilayah Indonesia. Setiap kapal asing yang memasuki wilayah perairan Indonesia harus mendapatkan izin dari pemerintah Indonesia.



Berikut ini adalah peta wilayah perairan Indonesia.



Sumber: [www.e-dukasi.net](http://www.e-dukasi.net)

Gambar 1.27 Peta wilayah perairan Indonesia

### 3. Usaha-usaha Melestarikan Laut Indonesia

Negara Indonesia disebut sebagai negara maritim. Oleh karena sebagian besar wilayah Indonesia berupa laut. Di dalam laut banyak terkandung sumber daya alam yang bermanfaat. Sumber daya alam yang terkandung di dalam laut. Di antaranya ikan, udang, rumput laut, terumbu karang, dan masih banyak lagi.

Kita wajib melestarikan sumber daya alam laut. Bagaimana cara melestarikan sumber daya alam laut Indonesia? Uraikan pendapatmu.

Berikut ini beberapa cara untuk menjaga kelestarian sumber daya alam laut Indonesia.

- Tidak membuang limbah atau zat beracun ke laut. Oleh karena dapat membunuh kehidupan hayati di dalam laut.
- Tidak menggunakan bahan peledak atau bahan berbahaya lainnya. Di antaranya menggunakan racun dan aliran listrik (setrum) untuk menangkap ikan.
- Menanam pohon bakau di tepi pantai. Manfaatnya agar mampu menahan abrasi pantai.

## C. Perkembangan Sistem Pemerintahan di Indonesia



Sistem pemerintahan Indonesia dalam sejarah bangsa Indonesia mengalami perkembangan. Perkembangan sistem pemerintahan Indonesia dimulai dari masa kerajaan sampai masa reformasi.

## 1. Sistem Pemerintahan Kerajaan

Zaman dahulu sistem pemerintahan Indonesia berbentuk kerajaan. Hal ini dibuktikan dengan banyaknya kerajaan yang berdiri di Indonesia. Kerajaan-kerajaan yang pernah ada di Indonesia, antara lain Kerajaan Kutai, Kerajaan Mataram Hindu, Kerajaan Singasari, Kerajaan Sriwijaya, Kerajaan Majapahit, Kerajaan Demak, Kerajaan Samudra Pasai, Kerajaan Banten, Kerajaan Cirebon, Kerajaan Kasunan Surakarta, Kerajaan Kasultanan Yogyakarta, dan masih banyak lagi.

Kerajaan dipimpin oleh seorang raja secara turun temurun. Artinya, kedudukan seorang raja akan digantikan oleh keturunannya. Di dalam pemerintahannya, seorang raja dibantu oleh patih. Selain itu, dibantu oleh panglima perang dan pembantu kerajaan lainnya.

Pada masa kerajaan, hukum yang berlaku adalah aturan yang ditetapkan oleh raja. Aturan tersebut harus ditaati oleh seluruh rakyatnya.

Pada masa itu, kerajaan sudah melakukan hubungan dagang dengan bangsa asing. Di antaranya Cina, India, Gujarat, Arab, dan Portugis.

Setelah bangsa Belanda datang, maka pemerintahan kerajaan mulai ditaklukkan oleh Belanda. Pemerintahan sepenuhnya dipegang oleh Belanda.

## 2. Sistem Pemerintahan Masa Penjajahan Belanda

Bangsa Belanda datang ke Indonesia untuk pertama kali pada tanggal 22 Juni 1596. Pada mulanya kedatangan Belanda hanya untuk membeli rempah-rempah. Namun, berubah menjadi keinginan untuk menguasai dan menjajah Indonesia.

Bangsa Belanda menjajah Indonesia selama 350 tahun atau 3,5 abad. Belanda memberlakukan sistem pemerintahan yang lebih maju. Belanda membentuk lembaga-lembaga pemerintahan.

Pada masa penjajahan Belanda dilakukan pembagian daerah pemerintahan. Pembagian tersebut, yaitu Kabupaten, Kawedanan, Kecamatan, Kademangan, Kalurahan, dan Pedesaan. Sampai saat ini, sistem pemerintahan tersebut masih dianut oleh pemerintah Indonesia.

## 3. Sistem Pemerintahan pada Masa Kemerdekaan

Pada tanggal 17 Agustus 1945 bangsa Indonesia memproklamasikan Kemerdekaannya. Pada tanggal 18 Agustus 1945 Panitia Persiapan Kemerdekaan Indonesia (PPKI) menyelenggarakan sidang. Di dalam persidangan tersebut berhasil membentuk pemerintahan Indonesia.

Pada sidang tersebut Ir. Soekarno diangkat menjadi Presiden Indonesia yang pertama. Adapun Drs. Mohammad Hatta sebagai wakil presiden yang pertama. Presiden dan wakil presiden dibantu oleh kabinet yang terdiri atas 12 menteri negara. Wilayah Indonesia dibagi menjadi delapan provinsi. Tiap-tiap provinsi dipimpin oleh seorang gubernur. Masih ingatkah kamu provinsi dan gubernur pertama di Indonesia? Coba sebutkan lagi.



Sumber: [upload.wikimedia.org](https://upload.wikimedia.org)

Gambar 1.28 Sidang PPKI berhasil membentuk pemerintahan Indonesia

#### 4. Sistem Pemerintahan Republik Indonesia Serikat (RIS)

Republik Indonesia Serikat (RIS) dibentuk berdasarkan konstitusi RIS. Konstitusi RIS yang ditandatangani oleh wakil-wakil pemerintahan Indonesia dan negara-negara BFO (*Bijeenkomst Voor Federal Overleg*). BFO adalah negara-negara boneka yang dibentuk oleh Belanda di Indonesia. Konstitusi RIS ditandatangani pada tanggal 14 Desember 1949.

Wilayah Republik Indonesia Serikat terdiri atas wilayah Republik Indonesia dan 16 negara BFO. Penyerahan kedaulatan Negara Republik Indonesia Serikat dari Belanda dilakukan pada tanggal 27 Desember 1949. Ir. Soekarno dan Drs. Mohammad Hatta diangkat menjadi presiden dan wakil presiden Republik Indonesia Serikat.

Undang-undang yang digunakan sebagai dasar pemerintahan, yaitu Undang-Undang No. 22 Tahun 1948 mengenai undang-undang pokok pemerintahan daerah wilayah Republik Indonesia dan UU No. 44 Tahun 1950 mengenai pokok pemerintahan daerah Negara Indonesia Timur.

#### 5. Sistem Pemerintahan Negara Kesatuan

Pada tanggal 17 Agustus 1945 negara Republik Indonesia Serikat berubah menjadi negara kesatuan. Perundang-undangan konstitusi RIS diubah menjadi UUDS 1950 (Undang-Undang Dasar Sementara).

Undang-undang yang digunakan sebagai dasar penyelenggaraan pemerintahan, yaitu Undang-undang No. 1 Tahun 1957 mengenai pokok-pokok pemerintahan daerah.

Berdasarkan undang-undang tersebut wilayah Indonesia dibagi menjadi tiga tingkat daerah otonom, yaitu

- a. Daerah Tingkat I, yaitu daerah Provinsi.
- b. Daerah Tingkat II, yaitu daerah Kabupaten.
- c. Daerah Tingkat III, yaitu daerah Kotamadya.

Selain itu, dibentuk juga daerah istimewa. Di antaranya Daerah Istimewa Yogyakarta, Daerah Istimewa Aceh, dan Daerah Khusus Ibukota Jakarta.

Pemerintahan daerah menurut UUDS 1950, yaitu DPRD, DPD, dan Kepala Daerah. Masa jabatannya dari pemerintah daerah adalah selama 4 tahun.

## **6. Sistem Pemerintahan Daerah Menurut Undang-Undang Nomor 18 Tahun 1965**

Pada tanggal 5 Juli 1959 Presiden Soekarno mengeluarkan Dekrit Presiden. Isi salah satunya adalah kembali kepada UUD 1945.

Dengan demikian, undang-undang pemerintahan daerah juga mengalami perubahan. Undang-undang yang kemudian digunakan adalah Undang-Undang Nomor 18 Tahun 1965.

Pemerintahan daerah terdiri atas DPRD dan Kepala Daerah yang dibantu oleh Wakil Kepala Daerah serta Badan Pemerintah Harian. Masa jabatan dari Kepala Daerah selama 5 tahun.

## **7. Sistem Pemerintahan Daerah Menurut Undang-Undang Nomor 5 Tahun 1974**

Berdasarkan UU No. 5 Tahun 1974 mengenai pokok-pokok pemerintahan di daerah, wilayah Indonesia dibagi menjadi beberapa daerah otonom dan daerah administratif.

Penyelenggaraan pemerintahan menggunakan asas desentralisasi. Maksudnya dengan membentuk Daerah Tingkat I (Provinsi) dan Daerah Tingkat II (Kotamadya atau Kabupaten).

Untuk menjadi daerah otonom harus memenuhi berbagai persyaratan. Di antaranya kemampuan ekonomi, potensi daerah, sosial budaya, sosial politik, jumlah penduduk, luas daerah serta pertimbangan lain yang memungkinkan terbentuknya daerah otonom.

Pemerintahan daerah menurut UU No. 5 Tahun 1974 terdiri atas kepala daerah dan DPRD. Kepala daerah dibantu oleh wakil kepala daerah.

Kepala daerah Tingkat I atau Gubernur dicalonkan oleh DPRD dan diajukan kepada presiden melalui menteri dalam negeri. Kepala Daerah Tingkat II atau bupati dicalonkan oleh gubernur dan diajukan kepada menteri dalam negeri. Masa jabatan kepala daerah selama 5 tahun.

## **8. Sistem Pemerintahan Daerah Menurut Undang-Undang Nomor 22 Tahun 1999**

Berdasarkan UU No. 22 Tahun 1999 wilayah Negara Kesatuan Republik Indonesia dibagi ke dalam daerah provinsi, kabupaten, dan daerah kota yang bersifat otonom.

Sebagai pemerintah daerah yaitu kepala daerah beserta perangkat daerah otonom. Berfungsi sebagai badan eksekutif daerah. Adapun yang berfungsi sebagai badan legislatif daerah adalah DPRD.

Sebagai pemerintah daerah, gubernur bertanggung jawab kepada DPRD Provinsi. Adapun bupati atau walikota bertanggung jawab kepada DPRD kabupaten/DPRD Kota. Semuanya sebagai wakil pemerintahan gubernur dan bupati atau walikota bertanggung jawab kepada presiden.

DPRD mempunyai tugas dan wewenang sebagai berikut.

- Memilih gubernur dan wakil gubernur, bupati dan wakil bupati, walikota dan wakil walikota.
- Memilih anggota Majelis Permusyawaratan Rakyat dari utusan daerah.
- Mengusulkan pengangkatan dan pemberhentian gubernur/wakil, bupati/wakil, dan walikota/wakil.
- Bersama gubernur, bupati atau walikota menetapkan Anggaran Pendapatan Daerah dan Belanja Daerah (APBD).
- Melaksanakan pengawasan terhadap pelaksanaan pemerintahan daerah.

Sejak tahun 2004, presiden, wakil presiden, MPR, DPR dipilih secara langsung oleh rakyat Indonesia. Adapun pemerintahan daerah seperti gubernur/wakil gubernur, bupati/wakil bupati, walikota/wakil walikota dan DPRD dipilih secara langsung oleh masyarakat daerah. Sebagai penyelenggara pemilihan, yaitu Komisi Pemilihan Umum (KPU). Masa jabatan pemerintah pusat dan daerah selama 5 tahun dihitung mulai pelantikan.



Sumber: [gerbang.jabar.go.id](http://gerbang.jabar.go.id)

**Gambar 1.29** Presiden dan Wakil Presiden dipilih secara langsung melalui Pemilu

## Tugas

Buatlah kelompok yang terdiri atas 3–5 orang. Selanjutnya, kunjungi kantor kecamatan daerah tempat tinggalmu. Buatlah bagan struktur pemerintahan daerah kecamatan tempat tinggalmu. Selanjutnya, serahkan hasilnya kepada gurumu.

## Refleksi

Sudahkah kamu mengetahui wilayah Indonesia yang terbentang luas? Materi mana yang menarik perhatianmu? Jangan ragu bertanya kepada gurumu. Jika ada hal yang belum dipahami.

## Rangkuman

Pada mulanya provinsi di Indonesia hanya ada delapan provinsi. Di antaranya, yaitu Provinsi Sumatera, Provinsi Kalimantan, Provinsi Jawa Barat, Provinsi Jawa Tengah, Provinsi Jawa Timur, Provinsi Sulawesi, Provinsi Sunda Kecil, dan Provinsi Maluku. Seiring berjalannya waktu, jumlah provinsi di Indonesia sampai tahun 2004 berjumlah 33 provinsi.

Wilayah laut Indonesia berdasarkan *Territoriale Zee en Maritieme Kringen Ordonante* tahun 1939 ditetapkan sejauh 3 mil dari garis pantai. Pemerintah mengajukan peninjauan kembali wilayah laut teritorial Indonesia. Dilakukan melalui Deklarasi Juanda kepada PBB. Pada Konferensi Hukum Laut Internasional, pada tahun 1982 di Jamaika, wilayah laut teritorial Indonesia ditetapkan sejauh 12 mil diukur dari garis pantai terluar. Indonesia juga mendapatkan Zona Ekonomi Eksklusif (ZEE). ZEE merupakan perairan laut yang diukur sejauh 200 mil dari garis pantai terluar menuju laut lepas.

Dalam sejarah bangsa Indonesia, sistem pemerintahan mengalami perkembangan. Dimulai dari sistem pemerintahan kerajaan, sistem pemerintahan masa penjajahan Belanda, sistem pemerintahan Negara RIS, sampai pemerintahan pada masa reformasi.

## Evaluasi



**Kerjakan di buku latihanmu.**

### A. Pilihlah jawaban yang paling benar!

- Berikut ini termasuk provinsi pertama di Indonesia, yaitu ....
  - Banten
  - Bali
  - Jawa Tengah
  - Nusa Tenggara Barat
- Provinsi Banten merupakan pemekaran dari provinsi ....
  - DKI Jakarta
  - Jawa Barat
  - Jawa Tengah
  - Jawa Timur
- Provinsi baru hasil pemekaran dari provinsi Sulawesi Selatan, yaitu ....
  - Sulawesi Utara
  - Gorontalo
  - Sulawesi Tenggara
  - Sulawesi Barat
- Pangkal Pinang adalah ibukota dari provinsi ....
  - Riau
  - Kepulauan Riau
  - Sumatra Selatan
  - Kepulauan Bangka Belitung
- Provinsi yang berbatasan dengan negara Malaysia, yaitu ....
  - Kalimantan Timur
  - Kalimantan Selatan
  - Kalimantan Tengah
  - Papua
- Wilayah laut teritorial Indonesia sejauh ... dari garis pantai terluar.
  - 12 mil
  - 200 mil
  - 200 m
  - 200 km
- Batas dari Zona Ekonomi Eksklusif (ZEE) yaitu ... dari garis pantai terluar.
  - 12 mil
  - 200 mil
  - 200 m
  - 200 km

8. Batas Landas Kontinen diukur dari garis laut ke arah laut lepas hingga kedalaman ....
  - a. 200 m
  - b. 200 mil
  - c. 200 km
  - d. 2.000 m
9. Berikut ini salah satu usaha untuk menjaga kelestarian laut, yaitu ....
  - a. membuang bahan beracun ke laut
  - b. menangkap ikan dengan bahan peledak
  - c. menanam pohon bakau di tepi pantai
  - d. menangkap ikan dengan racun
10. Kepala pemerintahan pada masa kerajaan, yaitu ....
  - a. patih
  - b. gubernur
  - c. raja
  - d. bupati
11. Kepala daerah tingkat I kelurahan, yaitu ....
  - a. camat
  - b. sekretaris desa
  - c. bupati
  - d. kepala desa
12. Berdasarkan Undang-Undang Nomor 1 Tahun 1957 Daerah Tingkat II, yaitu ....
  - a. provinsi
  - b. kabupaten
  - c. kecamatan
  - d. kelurahan
13. Berikut ini yang berwenang menetapkan APBD, yaitu ....
  - a. gubernur
  - b. walikota
  - c. DPRD dan gubernur
  - d. DPRD
14. Berikut ini wewenang dari DPRD, *kecuali* ....
  - a. memberhentikan gubernur, bupati, dan walikota
  - b. memilih anggota MPR dari utusan daerah
  - c. bersama gubernur, bupati atau walikota menetapkan APBD
  - d. bersama gubernur, bupati atau walikota membentuk peraturan daerah
15. Bupati sebagai kepala daerah bertanggung jawab kepada ....
  - a. DPRD Kabupaten
  - b. DPRD Provinsi
  - c. DPRD Kota
  - d. Menteri Dalam Negeri

## B. Isilah titik-titik di bawah ini dengan benar.

1. Gubernur pertama provinsi Sumatra adalah ....
2. Provinsi Sumatra Barat pada mulanya bernama ....
3. Ibukota provinsi Maluku Utara adalah ....
4. Sebelah utara provinsi Nusa Tenggara Barat berbatasan dengan ....
5. Berdasarkan *Territoriale Zee en Maritieme Kringen Ordonante* wilayah laut teritorial Indonesia sejauh ... dari garis pantai.
6. Deklarasi Juanda diperkuat dengan Undang-undang ....

7. Batas Zona Ekonomi Eksklusif yaitu sejauh ... dari garis pantai
8. Kepala Daerah Tingkat I, yaitu ....
9. RIS dibentuk berdasarkan ....
10. Sebagai kepala daerah, Gubernur bertanggung jawab kepada ....

**C. Jawablah pertanyaan-pertanyaan di bawah ini dengan benar.**

1. Sebutkan provinsi pertama beserta gubernurnya.
2. Sebutkan batas-batas wilayah provinsi tempat tinggalmu.
3. Bagaimana penentuan wilayah laut teritorial yang lebar laut kurang dari 24 mil?
4. Sebutkan usaha kamu dalam menjaga kelestarian laut.
5. Sebutkan enam wewenang DPRD.



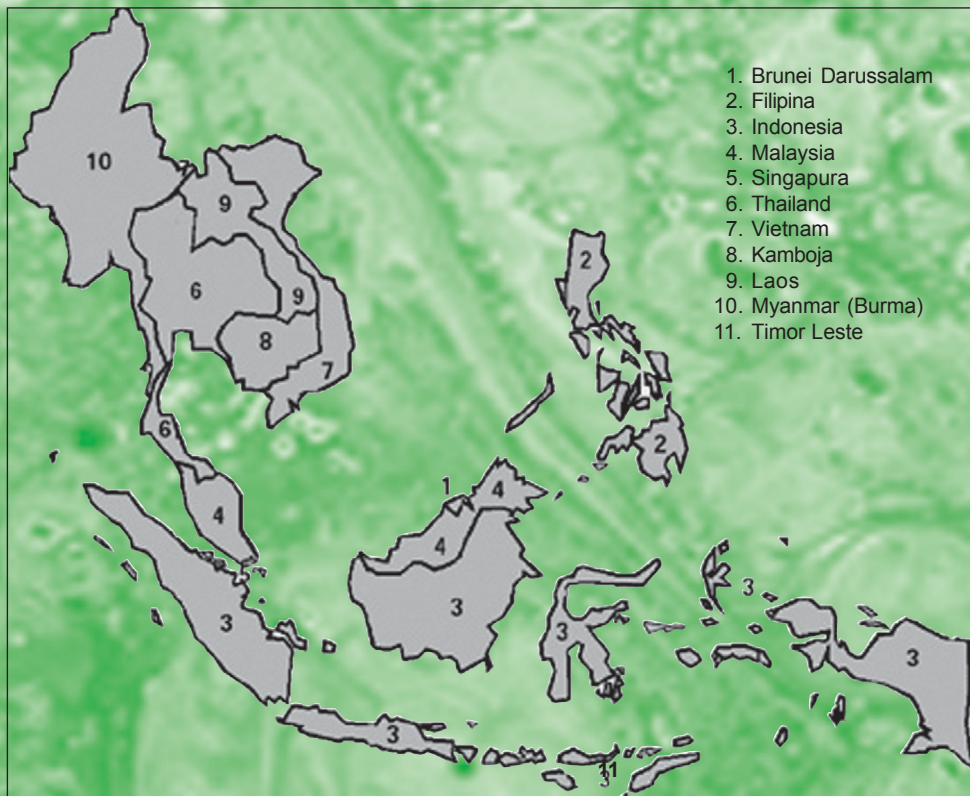




# KENAMPAKAN ALAM DAN KEADAAN SOSIAL NEGARA NEGARA DI ASIA TENGGARA

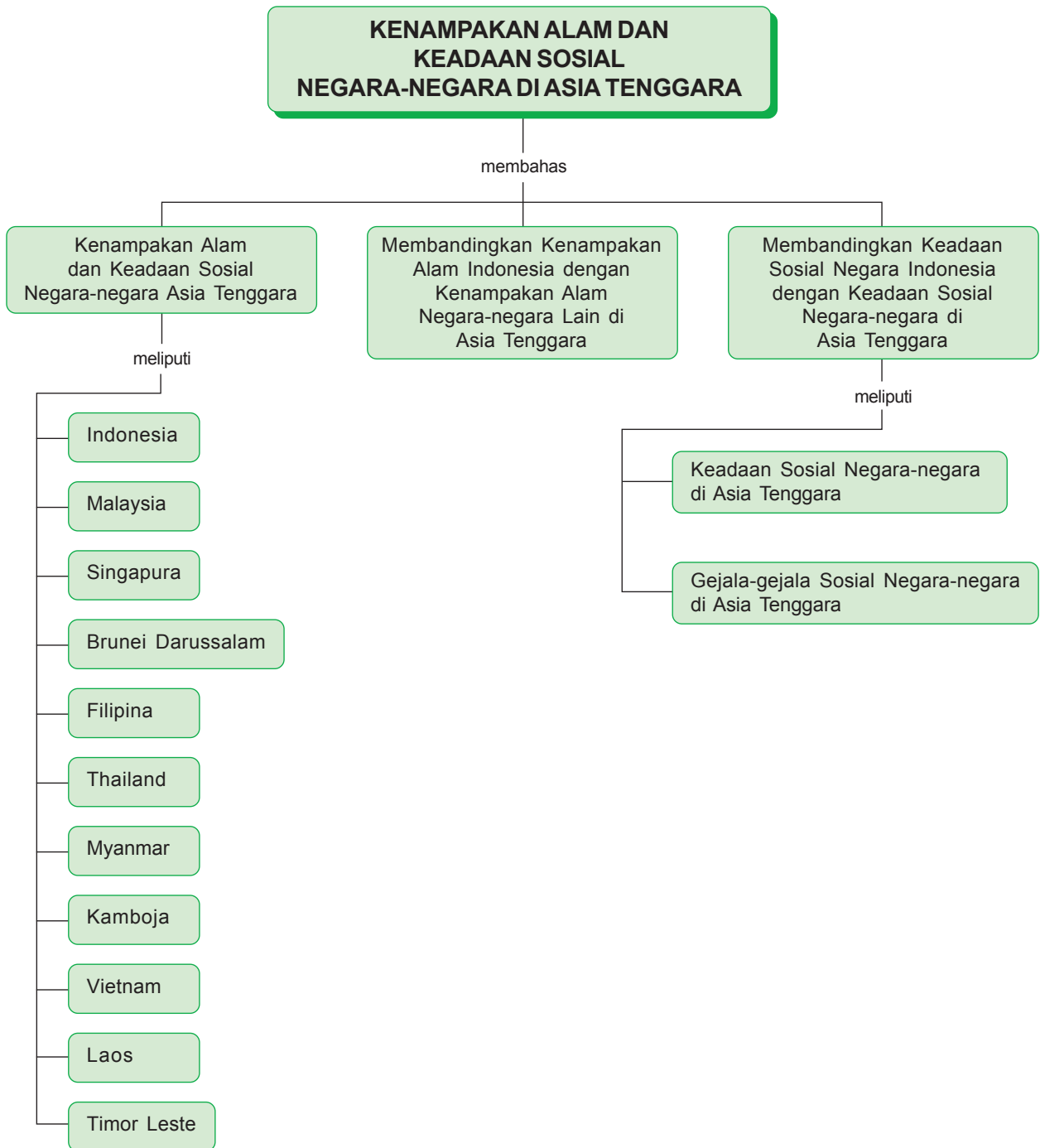
## Kata Kunci

◆ Asia Tenggara ◆ keadaan sosial ◆ kenampakan alam



Sumber: [www.dfat.gov.au](http://www.dfat.gov.au)

Indonesia merupakan salah satu negara di kawasan Asia Tenggara. Selain itu, masih banyak lagi negara-negara dalam kawasan Asia Tenggara. Dapatkah kamu menyebutkannya?



Tahukah kamu negara mana saja yang berada di wilayah Asia Tenggara? Negara-negara yang berada di wilayah Asia Tenggara, yaitu Indonesia, Malaysia, Brunei Darussalam, Filipina, Singapura, Laos, Kamboja, Vietnam, Thailand, Myanmar, dan Timor Leste.

Kenampakan alam keadaan sosial negara yang satu dengan negara yang lain berbeda-beda. Materi Bab 2 ini membahas kenampakan alam dan keadaan sosial negara-negara di Asia Tenggara. Mari kita pelajari dengan saksama.



## A. Kenampakan Alam dan Keadaan Sosial Negara-negara Asia Tenggara

### 1. Indonesia



Sumber: id.wikipedia.org

Gambar 2.1 Peta wilayah negara Indonesia

Nama negara	: Indonesia	
Ibukota negara	: Jakarta	
Bentuk negara	: Republik	
Kepala negara	: Presiden	
Lagu kebangsaan	: Indonesia Raya	
Bahasa resmi	: Indonesia	
Agama	: Islam, Kristen, Katolik, Hindu, Buddha	
Mata uang	: Rupiah	

## a. Kenampakan Alam

Negara Indonesia secara astronomis berada di antara garis lintang  $6^{\circ}$  LU –  $11^{\circ}$  LS dan garis bujur  $95^{\circ}$  –  $141^{\circ}$  BT. Oleh karena berada di sekitar garis khatulistiwa, Indonesia beriklim tropis.

Indonesia merupakan negara yang terdiri atas ribuan pulau. Jumlah pulauanya sebanyak 13.669 pulau. Oleh karena itu, Indonesia menjadi negara kepulauan terbesar di dunia. Wilayah Indonesia terdiri atas daratan dan perairan atau laut. Luas wilayah daratan Indonesia adalah 1.906.240 km<sup>2</sup>. Adapun luas wilayah perairan Indonesia adalah 3.287.010 km<sup>2</sup>. Dengan demikian, luas wilayah Indonesia seluruhnya 5.193.250 km<sup>2</sup>.

Kenampakan alam Indonesia terdiri atas daratan dan perairan. Kenampakan alam daratan, antara lain pegunungan, gunung, dataran tinggi, dan tanjung. Adapun kenampakan alam perairan meliputi laut, selat, sungai, danau, rawa, dan teluk.

Pegunungan di Indonesia membentang dari pulau Sumatra hingga pulau Papua. Pegunungan di Indonesia, antara lain di pulau Sumatra, Pegunungan Bukit Barisan. Di pulau Jawa terdapat Pegunungan Pembarisan di Jawa Barat, Pegunungan Dieng di Jawa Tengah, Pegunungan Serayu di Jawa Tengah, Pegunungan Kendeng di Jawa Tengah, Pegunungan Kapur Utara berada di Jawa Tengah, Pegunungan Sewu di Yogyakarta, Pegunungan Tengger di Jawa Timur, Pegunungan Kidul di Jawa Timur, Pegunungan Iyang di Jawa Timur. Di pulau Kalimantan Pegunungan Iban, Pegunungan Schwaner, Pegunungan Muller, Pegunungan Maratus, Pegunungan Kapuas Hulu. Di pulau Sulawesi Pegunungan Utilemba, Pegunungan Quarles, Pegunungan Tangkeleboke, Pegunungan Fenema, Pegunungan Tokolekaju, Pegunungan Verbek. Di pulau Papua Pegunungan Sudirman dengan puncaknya, yaitu Puncak Jaya (5.030 m), Puncak Trikora (4.750 m), Pegunungan Jaya Wijaya dengan puncaknya, yaitu Puncak Mandala (4.700), Puncak Yamin (4.506 m), Puncak Jaya adalah puncak tertinggi di Indonesia.

Di Indonesia terdapat gunung-gunung yang jumlahnya ratusan. Sebagian besar gunung di Indonesia merupakan gunung berapi yang sebagian masih aktif.

Gunung-gunung yang terdapat di pulau Sumatra, yaitu Gunung Leuser (3.381 m), Gunung Kerinci (3.805 m), Gunung Krakatau (816 m). Di pulau Jawa, yaitu Gunung Halimun (1.750 m), Gunung Gede (2.958 m), Gunung Galunggung (2.168 m), Gunung Tangkuban Perahu (2.078 m), Gunung Slamet (3.418 m), Gunung Merapi (2.914 m), Gunung Lawu (3.265 m), Gunung Bromo (2.392 m), Gunung Semeru (3.678 m) dan masih banyak lagi.

Di pulau Bali juga terdapat beberapa gunung, di antaranya Gunung Agung (3.142 m) dan Gunung Seraya (2.374 m). Di Nusa Tenggara Barat terdapat juga gunung, yaitu Gunung Rinjani (3.726 m). Di Maluku Utara terdapat Gunung Gamsunora (1.035 m) dan Gunung Ibu (1.325 m). Gunung di pulau Sulawesi, antara lain gunung Rantekumbolo (3.455 m) dan Gunung Sopotan (1.827 m). Pulau Papua terdapat Gunung Jaya Wijaya yang mempunyai beberapa puncak tinggi, yaitu Puncak Jaya (5.030 m), Puncak Trikora (4.750 m), Puncak Yamin (4.530 m), dan Puncak Mandala (4.700 m). Masih banyak lagi gunung yang ada di Indonesia. Coba sebutkan gunung yang kau tahu.

Indonesia merupakan negara kepulauan sehingga banyak terdapat semenanjung. Semenanjung di Indonesia, antara lain Tanjung Inderapura, Tanjung Karawang, Tanjung Karangboto, dan masih banyak lagi.

Wilayah Indonesia sebagian besar berupa laut. Laut di Indonesia, antara lain Laut Jawa, Laut Sulawesi, Laut Bali, Laut Flores, Laut Maluku, Laut Sawu, Laut Timor, Laut Banda, Laut Halmahera, dan Laut Arafuru. Laut Banda merupakan laut paling dalam di Indonesia.

Selat-selat di Indonesia, antara lain Selat Malaka, Selat Sunda, Selat Karimata, Selat Bali, Selat Madura, Selat Makasar, dan masih banyak lagi.

Sungai-sungai besar yang mengalir di Indonesia, antara lain Sungai Musi dan Sungai Asahan di pulau Sumatra. Di pulau Jawa terdapat Sungai Ciliwung, Sungai Bengawan Solo, dan Sungai Brantas. Di Kalimantan, yaitu Sungai Kapuas, Sungai Mahakam, dan Sungai Barito. Sungai di Papua adalah Sungai Memberamo. Sungai terpanjang di Indonesia adalah Sungai Kapuas yang berada di Kalimantan.

Danau-danau yang terdapat di Indonesia, antara lain Danau Toba di Sumatra Utara, Danau Maninjau, dan Danau Singkarak yang berada di Sumatra Barat. Danau Tempe dan Danau Towuti terdapat di Sulawesi Selatan. Danau Poso di Sulawesi Tengah, Danau Limbutu terdapat di Gorontalo, Danau Tondano di Sulawesi Utara, Danau Batur terdapat di Bali, Danau Segara Anak di Nusa Tenggara Barat, Danau Kalimutu terdapat di Nusa Tenggara Timur. Danau Toba di Sumatra Utara merupakan danau terluas di Indonesia.

Di pulau Sulawesi terdapat tiga teluk, yaitu Teluk Bone, Teluk Tolo, dan Teluk Tomini. Daerah rawa-rawa banyak terdapat di Pulau Sumatra, Pulau Kalimantan, dan Pulau Papua.

## b. Keadaan Sosial dan Ekonomi

Berdasarkan sensus penduduk tahun 2000, jumlah penduduk Indonesia mencapai 206.200.000 jiwa. Kepadatan penduduk mencapai 108 jiwa/km<sup>2</sup>. Penduduk Indonesia terdiri atas berbagai suku bangsa. Jumlahnya mencapai ratusan suku bangsa. Di antaranya ada suku Jawa, suku Nias, suku Batak, suku Toraja, suku Dani, suku Asmat, dan lain-lain.

Sebagian besar penduduk Indonesia bekerja di bidang pertanian dan perikanan. Oleh karena itu, negara Indonesia disebut sebagai negara agraris atau negara maritim. Hasil pertanian Indonesia, antara lain padi, jagung, tebu, kelapa sawit, teh, kopi, cengkeh, tembakau, karet, buah-buahan dan sayur-sayuran.

Indonesia juga kaya akan hasil tambang, antara lain minyak bumi, emas, batu bara, tembaga, nikel, perak, besi, belerang, mangan, timah, aluminium, dan lain-lain.

## 2. Malaysia



Sumber: [id.wikipedia.org](http://id.wikipedia.org)

Gambar 2.2 Peta negara Malaysia

Nama negara	: Malaysia
Ibukota negar	: Kuala Lumpur
Bentuk negara	: Kerajaan
Kepala negara	: Yang Dipertuang Agung
Kepala pemerintahan	: Perdana Menteri
Lagu kebangsaan	: Negaraku
Bahasa resmi	: Melayu
Agama	: Islam, Hindu, Kristen, Konghucu
Mata uang	: Ringgit
Jumlah penduduk	: 27.000.000 jiwa
Luas wilayah	: 332.370 km <sup>2</sup>
Pendapatan per kapita	: \$12.000
Hari besar	: 31 Agustus 1957

### a. Kenampakan Alam

Negara Malaysia terbagi menjadi dua wilayah, yaitu Malaysia Barat di Semenanjung Malaka dan Malaysia Timur yang berada di bagian utara pulau Kalimantan. Luas wilayah negara Malaysia secara keseluruhan adalah 332.370 km<sup>2</sup>.

Malaysia Barat terdiri atas 11 negara bagian. Negara bagian tersebut, yaitu Kedah, Perlis, Penang, Perak, Kelantan, Terengganu, Pahang, Selangor, Negeri Sembilan, Malaka, dan Johor. Ibukota negara Malaysia, yaitu Kuala Lumpur yang berada di Malaysia bagian barat. Kenampakan alam Malaysia Barat berupa pegunungan dan dataran rendah. Terdapat pula hutan yang lebat. Puncak tertinggi di Malaysia Barat, yaitu Gunung Tahan (2.187 m). Adapun gunung-gunung yang lainnya, yaitu Gunung Belumut (1.010 m), Gunung Lerek (1.049 m), dan Gunung Besar (1.749 m). Sungai-sungai besar yang mengalir di Malaysia Barat, antara lain Sungai Terengganu, Sungai Perak, dan Sungai Pahang.

Malaysia Timur berada di bagian utara Pulau Kalimantan. Malaysia Timur terdiri atas dua negara bagian, yaitu Serawak dan Sabah. Kenampakan alam Malaysia Timur berupa daerah pegunungan dan dataran tinggi. Pegunungan yang terkenal, yaitu Pegunungan Hose dan Dataran Tinggi Batu Laga.

Di Malaysia Timur terdapat gunung-gunung seperti Gunung Bukit Batu (2.028 m), Gunung Mulu (2.377 m), Gunung Lumak (1.966 m), Gunung Antulai (1.713 m), Gunung Trus Madi (2.649 m), dan Gunung Kinabalu (4.094 m). Gunung Kinabalu di Sabah merupakan gunung tertinggi di Malaysia. Sungai yang mengalir di Malaysia Timur, antara lain Sungai Rajang dan Sungai Padas.

### b. Keadaan Sosial dan Ekonomi

Dahulu, negara Malaysia merupakan daerah bekas jajahan Inggris. Malaysia merdeka pada tanggal 31 Agustus 1957. Malaysia mempunyai penduduk sekitar 21.398.000 jiwa. Kepadatan penduduknya mencapai 65 jiwa/km<sup>2</sup>. Penduduk Malaysia terdiri atas beberapa suku bangsa. Di antaranya, suku Melayu (55%), Cina (35%), India (10%), dan lainnya merupakan keturunan Eropa serta Asia.

Penduduk Malaysia bekerja di bidang pertanian, pertambangan, perdagangan, nelayan, dan perindustrian. Hasil pertanian Malaysia, antara lain beras, kelapa sawit, teh, kopra, dan karet. Malaysia merupakan negara penghasil karet terbesar kedua di dunia.

Malaysia merupakan penghasil timah terbesar di dunia. Adapun hasil tambang yang lain, yaitu minyak bumi, bijih besi, bouksit, dan tembaga.

## Tugas

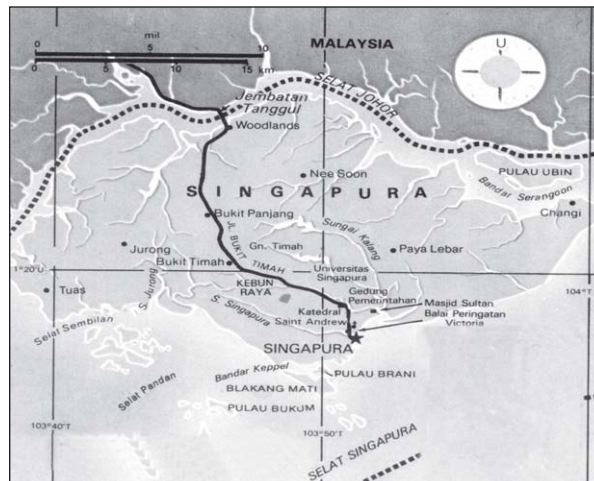
Bukalah Atlas Indonesia dan Dunia. Selanjutnya, perhatikan peta negara Malaysia, kemudian sebutkan batas-batas wilayahnya.

## Kilas Sosial

Malaysia terkenal dengan Menara Petronas. Menara ini merupakan salah satu bangunan tinggi di dunia. Menara Petronas terdiri atas dua buah gedung kembar yang sama tinggi. Menara ini terletak di Kuala Lumpur.



## 3. Singapura



Sumber: id.wikipedia.org

Gambar 2.3 Peta negara Singapura

Nama negara	: Singapura
Ibukota negara	: Singapura
Bentuk negara	: Republik
Kepala negara	: Presiden
Kepala pemerintahan	: Perdana Menteri
Lagu kebangsaan	: Majulah Singapura
Bahasa resmi	: Inggris, Melayu, dan Mandarin
Agama	: Islam, Buddha, Hindu, Tao, dan Konghucu
Mata uang	: Dollar Singapura



### a. Kenampakan Alam

Negara Singapura berada di sebelah selatan Semenanjung Malaka atau di sebelah selatan Malaysia Barat. Negara Singapura merupakan pulau yang kecil, wilayahnya seluas 618 km<sup>2</sup>. Wilayah Singapura meliputi pulau-pulau kecil, seperti Pulau Sentosa, Pulau Ubin, Pulau Tekong, dan pulau-pulau kecil lain di sekitarnya.

Kenampakan alam negara Singapura berupa daerah perbukitan. Bukit-bukit di Singapura, antara lain Bukit Panjang, Bukit Mandai, Bukit Timah, dan Bukit Kalang. Di Singapura mengalir sungai-sungai besar. Di antaranya Sungai Kranji, Sungai Jurong, Sungai Seletar, dan Sungai Serangoon.

Di Singapura terdapat beberapa waduk besar, yaitu Waduk Macritchie, Waduk Pandan, Waduk Pierce, dan Waduk Seletar. Negara Singapura yang mempunyai beberapa tanjung, yaitu Tanjung Karang, Tanjung Murai, Tanjung Buloh, Tanjung Berlayar, dan Tanjung Gul. Di Singapura terdapat jembatan yang melintasi di atas Selat Johor, yaitu Jembatan Tanggul Woodlands. Jembatan tersebut menghubungkan negara Singapura dengan Malaysia Barat

### b. Keadaan Sosial dan Ekonomi

Negara Singapura pernah dijajah oleh bangsa Inggris. Singapura merdeka pada tanggal 9 Agustus 1959. Penduduk Singapura berjumlah sekitar 2,9 juta jiwa. Kepadatan penduduknya mencapai 4.693 jiwa/km<sup>2</sup>. Luas wilayahnya mencapai 618 km<sup>2</sup>, negara Singapura memiliki kepadatan penduduk yang tinggi.

Penduduk asli Singapura 70% merupakan suku bangsa Cina. Sisanya merupakan suku bangsa Melayu, Bangladesh, India, Pakistan, dan Eropa.

Negara Singapura menjadi pusat perdagangan dan perindustrian di Asia Tenggara. Sebagai pusat perdagangan, Singapura banyak dikunjungi oleh turis asing. Industri di Singapura, antara lain industri kapal, industri tekstil, industri elektronik, industri baja, dan industri makanan.



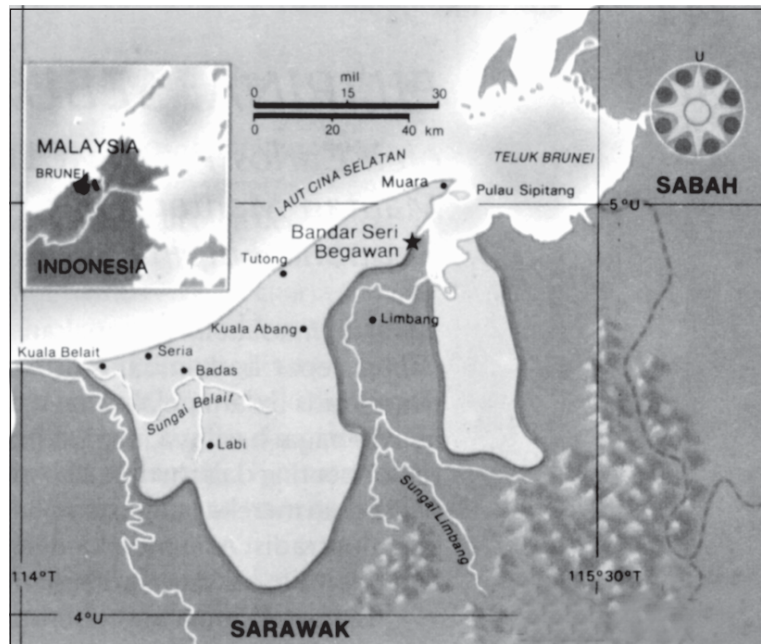
Sumber: wikipedia.org

Gambar 2.4 Patung Merlion di Singapura

### Kilas Sosial

Patung Merlion menjadi daya tarik Negara Singapura. Bangunan ini merupakan wujud patung ikan berkepala singa.

## 4. Brunei Darussalam



Sumber: [id.wikipedia.org](http://id.wikipedia.org)

Gambar 2.5 Peta negara Brunei Darussalam

Nama negara	: Brunei Darussalam
Ibukota negara	: Bandar Seri Begawan
Bentuk negara	: Kesultanan
Kepala negara	: Sultan
Lagu kebangsaan	: Allah Peliharalah Sultan
Bahasa resmi	: Melayu dan Inggris
Agama	: Islam
Mata uang	: Dolar Brunei
Industri	: Bahan bakar dan gas cair
Hari besar	: 1 Januari 1984
Bekas jajahan	: Inggris

### a. Kenampakan Alam

Negara Brunei Darussalam berada di bagian utara wilayah Malaysia Timur. Sebelah utara Brunei berbatasan dengan Laut Cina Selatan. Adapun bagian timur, selatan, dan barat dikelilingi oleh Malaysia Timur. Brunei Darussalam mempunyai luas wilayah 5.763 km<sup>2</sup>.

Wilayah Brunei Darussalam terbagi menjadi dua, yaitu wilayah Barat dan wilayah Timur. Wilayah Barat meliputi daerah Belait, Tutong, Brunei, dan Muara. Wilayah Barat kenampakan alamnya berupa dataran rendah. Wilayah Timur meliputi daerah Temburong. Wilayah Timur kenampakan alamnya berupa daerah perbukitan.

Sungai-sungai yang mengalir di Brunei Darussalam, antara lain Sungai Tukong, Sungai Belait, Sungai Brunei, dan Sungai Temburong.

## b. Keadaan Sosial dan Ekonomi

Negara Brunei Darussalam pernah dijajah oleh bangsa Inggris. Negara ini merdeka pada tanggal 1 Januari 1984. Penduduk Brunei jumlahnya sekitar 312 ribu jiwa. Kepadatan penduduknya adalah 54 jiwa/km<sup>2</sup>. Penduduk Brunei 85% merupakan suku bangsa Melayu dan Cina. Sisanya yang 15% berasal dari suku lain.

Perekonomian negara Brunei Darussalam bertumpu pada bidang perdagangan dan pertambangan. Di bidang pertambangan Brunei kaya dengan minyak dan gas bumi. Brunei menjadi negara terkaya di Asia Tenggara. Di dunia Brunei terkaya nomor 11. Perdagangannya menjadikan negara ini terdepan dalam angka ekspor per kapita.

## 5. Filipina



Sumber: [id.wikipedia.org](http://id.wikipedia.org)

Gambar 2.6 Peta negara Filipina

Nama negara	: Filipina
Ibukota negara	: Manila
Bentuk negara	: Republik
Kepala negara	: Presiden
Lagu kebangsaan	: Lupang Hinirang
Bahasa resmi	: Bahasa Tagalog, Inggris, dan Spanyol
Agama	: Katolik, Islam, Anglikan, dan Protestan
Mata uang	: Peso

## a. Kenampakan Alam

Kenampakan alam Filipina mempunyai kesamaan dengan Indonesia. Filipina merupakan negara kepulauan. Pulau terbesar di Filipina juga berupa daerah pegunungan. Pegunungan terdapat di Pulau Luzon dan pulau Mindanao.

Kenampakan alam di Filipina juga berupa daerah pegunungan. Pegunungan di Pulau Luzon, antara lain Pegunungan Zambalez, Pegunungan Sierra Madre dengan puncak tertinggi, yaitu Gunung An Cuo (1.860 m), dan Pegunungan Cadig. Di Pulau Panai terdapat Pegunungan Cordelleras. Di Pulau Mindanao terdapat Pegunungan Divata. Di Pulau Palawan terdapat Pegunungan Vicotoria dengan puncak tertinggi Gunung Gantung (1.813 m).

Gunung-gunung lain di Filipina di antaranya adalah Gunung Covitan (2.594 m) dan Gunung Clawet (2.669 m) di Pulau Luzon. Di Pulau Mindoro terdapat Gunung Halcon (2.582 m) dan Gunung Baco (2.488 m). Adapun di Pulau Palawan terdapat Gunung Victoria (1.798 m) dan Gunung Cleopatra (1.593 m). Gunung Kaatoan (2.896 m), Gunung Ragang (2.815 m), Gunung Dapiak (2.896 m), Gunung Busa (2.083 m), dan Gunung Apo (2.930 m) terdapat di Pulau Mindanao. Gunung Apo merupakan gunung tertinggi di Filipina.

Filipina memiliki banyak laut, selat, teluk, dan semenanjung. Laut di wilayah Filipina, yaitu Laut Sulu, Laut Mindanao, Laut Camotes, Laut Visayan, dan Laut Sibuyan. Selat di Filipina, antara lain Selat Babuyan, Selat Mindoro, Selat Balabac, Selat Tanon, dan Selat Jintotolo.

Teluk di Filipina, antara lain Teluk Moro, Teluk Tolong, Teluk Manila, Teluk San Miguel, Teluk Mangueda, dan lain-lain. Adapun kenampakan alam berupa semenanjung, yaitu Semenanjung Bondoc dan Semenanjung Zamboanga.

Di Filipina terdapat tiga danau besar, yaitu Danau Laguna, Danau Tay, dan Danau Lenau. Sungai-sungai yang mengalir di Filipina, antara lain Sungai Pulangi, Sungai Cagayan, dan Sungai Pangoango.

## b. Keadaan Sosial dan Ekonomi

Negara yang pernah menjajah negara Filipina adalah Spanyol dan Amerika Serikat. Filipina merdeka pada tanggal 4 Juli 1946. Luas wilayah negara Filipina sekitar 300.000 km<sup>2</sup>. Negara Filipina wilayahnya dibagi menjadi 12 region, 72 provinsi, dan 60 kota inti. Di antaranya adalah Tarlak, Quezon City, Naga, Langaspi, Calbayong, Ormoc, Iloilo, Davao, dan Zamboanga.

Jumlah penduduk di Filipina sekitar 71.654.000 jiwa. Kepadatan penduduknya sekitar 238 jiwa/km<sup>2</sup>. Penduduk asli Filipina, yaitu suku bangsa Negrito. Adapun penduduk yang lain adalah suku bangsa Mestizo. Ini merupakan bangsa keturunan bangsa Spanyol.

Perekonomian Filipina ditunjang dari pertanian dan perindustrian. Filipina dikenal sebagai negara revolusi hijau. Oleh karena mengalami kemajuan yang pesat di bidang pertanian. Pertanian di Filipina, menghasilkan padi, jagung, tembakau, kopi, kopra, rami, dan gula. Industri di Filipina, antara lain industri obat-obatan, industri kertas, dan industri tekstil.

Di bidang pertambangan, Filipina menghasilkan emas, perak, tembaga, batu bara, seng, choirum, kobalt, biji besi, sulfur, dan fosfat.

## Tugas

Diskusikan perbedaan dan persamaan antara kenampakan alam Indonesia dengan kenampakan alam di Filipina. Tuliskan dalam selembar kertas. Selanjutnya, bacakan di depan kelas.

## 6. Thailand



Sumber: [id.wikipedia.org](http://id.wikipedia.org)

Gambar 2.7 Peta negara Thailand

Nama negara	: Thailand
Ibukota negara	: Bangkok
Bentuk negara	: Kerajaan
Kepala negara	: Raja
Kepala pemerintahan	: Perdana Menteri
Lagu kebangsaan	: Pheng Chart Thai
Bahasa resmi	: Thai, Inggris, dan Mandarin
Agama	: Buddha, Islam, dan Kristen
Mata uang	: Bath

### a. Kenampakan Alam

Negara Thailand berada di Semenanjung Malaya. Thailand dikenal juga dengan nama Muangthai. Thailand mempunyai luas wilayah sekitar 512.820 km<sup>2</sup>.

Kenampakan alamnya berupa dataran rendah dan pegunungan. Thailand bagian tengah merupakan dataran rendah. Di daerah itu mengalir Sungai Chao Phraya. Daerah di sekitar aliran Sungai Chao Phraya merupakan daerah yang subur.

Daerah bagian barat dan bagian utara Thailand merupakan daerah pegunungan. Pegunungan yang terkenal, yaitu pegunungan Tanen dengan puncak tertinggi gunung Dointhanon (2.595 m). Pegunungan Bilauktaung dengan puncak tertinggi gunung Di Ngae (1.805 m). Daerah bagian selatan merupakan semenanjung yang dikenal dengan Tanah Genting Kra.



Sumber: photofile.name

Gambar 2.8 Sungai Chao Phraya

### b. Keadaan Ekonomi dan Sosial

Negara Thailand belum pernah dijajah oleh bangsa lain. Thailand mempunyai penduduk berjumlah 60.626.000 jiwa. Kepadatan penduduknya sekitar 118 jiwa/km<sup>2</sup>.

Penduduk asli Thailand adalah suku bangsa Thai, yaitu sekitar 75%. Adapun penduduk lainnya 14% dari bangsa Cina, bangsa Melayu 3%, dan 8% dari suku bangsa lain.

Perekonomian Thailand didukung oleh bidang pertanian, perindustrian, dan pertambangan. Padi merupakan hasil utama pertanian negara Thailand. Thailand menjadi penghasil beras terbesar di Asia Tenggara. Oleh karena itu, Thailand dikenal sebagai lumbung beras Asia Tenggara. Hasil pertanian yang lain, yaitu kelapa, karet, tapioka, jagung, rami, dan gula.

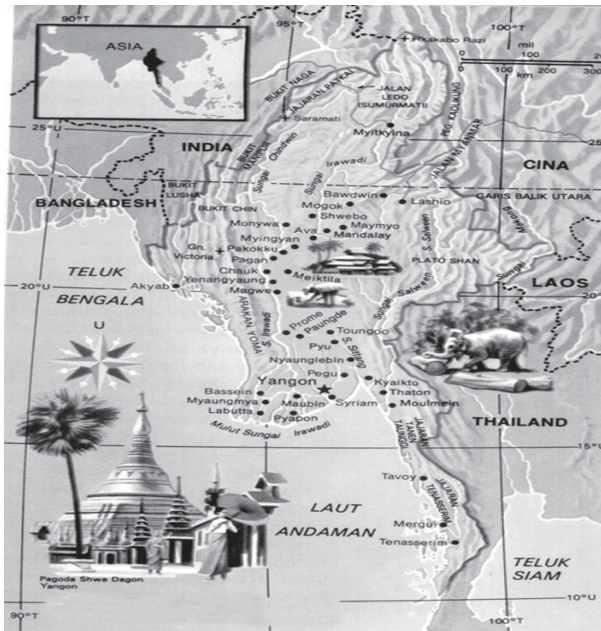
Perindustrian di Thailand, antara lain industri tekstil, industri kayu, industri semen, industri timah, dan industri tungsten. Pertambangan Thailand menghasilkan besi, gas alam, antimoni, mangan, dan timah.



Sumber: www.mir.com.my

Gambar 2.9 Bangunan Pagoda menjadi ciri khas negara Thailand

## 7. Myanmar



Sumber: [id.wikipedia.org](http://id.wikipedia.org)

Gambar 2.10 Peta negara Myanmar

Nama negara	: Myanmar
Ibukota negara	: Npydaw
Bentuk negara	: Republik
Kepala negara	: Presiden
Lagu kebangsaan	: Kaba Makye
Bahasa resmi	: Burma
Agama	: Buddha
Mata uang	: Kyat
Industri	: Tekstil, alas kaki, dan produk kayu
Hari besar	: 4 Januari 1948
Bekas jajahan	: Inggris

### a. Kenampakan Alam

Dahulu Myanmar dikenal dengan nama Burma atau Birma. Myanmar mempunyai luas wilayah sekitar 676.578 m<sup>2</sup>.

Kenampakan alam Myanmar berupa pegunungan dan dataran tinggi. Daerah timur dan utara dikelilingi oleh dataran tinggi. Daerah Myanmar bagian tengah berupa dataran rendah. Daerah tersebut mengalir Sungai Irrawaddy. Sungai Irrawaddy merupakan sungai terpanjang di Myanmar.

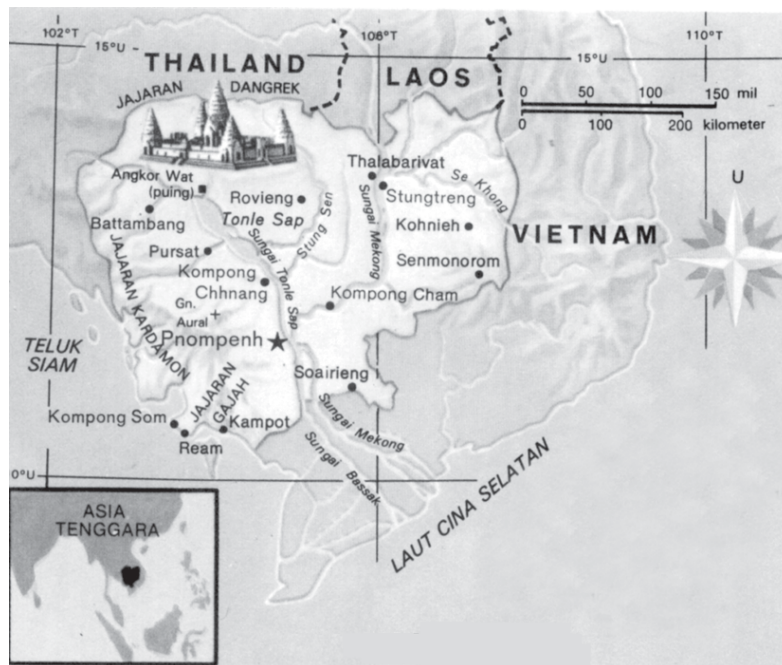
Bagian utara terdapat Pegunungan Kumon dengan puncak tertinggi Gunung Hkakabo Razi (5.881 m). Di bagian barat terdapat Pegunungan Arakan dengan puncak tertinggi Gunung Victoria (3.052 m). Adapun di bagian selatan terdapat Pegunungan Tenasserim. Di Myanmar terdapat dua iklim, yaitu iklim subtropik di Myanmar bagian utara dan iklim tropis di Myanmar bagian selatan.

## b. Keadaan Sosial dan Ekonomi

Penduduk Myanmar berjumlah sekitar 41,5 juta jiwa. Kepadatan penduduk 61 jiwa/km<sup>2</sup>. Kehidupan penduduk Myanmar sangat sederhana. Mereka masih menjunjung tinggi adat istiadat.

Penduduk Myanmar sebagian besar bekerja di bidang pertanian. Hasil utama pertanian Myanmar, yaitu padi. Hasil tani yang lain. Pendukung perekonomian Myanmar yang lain, yaitu perkebunan dan pertambangan. Perkebunan Myanmar menghasilkan tebu, kapas, tembakau, dan kayu jati. Adapun hasil tambangnya adalah minyak bumi, emas, perak, tembaga, dan seng.

## 8. Kamboja



Sumber: id.wikipedia.org

Gambar 2.11 Peta negara Kamboja

Nama negara	: Kamboja
Ibukota negara	: Phnom Penh
Bentuk negara	: Republik
Kepala negara	: Presiden
Kepala pemerintahan	: Perdana Menteri
Lagu kebangsaan	: Nokoreach
Bahasa resmi	: Khmer
Agama	: Buddha Theravade, Animisme, dan Atheisme
Mata uang	: Riel
Industri	: Tekstil, kertas, plywood, dan minyak
Hari besar	: 17 April 1953
Bekas jajahan	: Prancis



## a. Kenampakan Alam

Negara Kamboja berada di semenanjung Indocina. Kamboja mempunyai luas wilayah sekitar 181.300 km<sup>2</sup>. Kenampakan alam negara Kamboja berupa dataran rendah dan pegunungan. Bagian tengah negara Kamboja merupakan dataran rendah. Daerah tersebut dialiri oleh Sungai Mekhong. Sungai ini mengalir dari Kamboja sampai Vietnam. Di sekitar aliran Sungai Mekhong merupakan daerah yang subur.

Di bagian barat terdapat Pegunungan Cardamomes dengan puncak tertinggi, yaitu Gunung Phnom (1.813 m).

Di bagian tengah terdapat Danau Tonle Sap. Danau tersebut merupakan muara dari aliran Sungai Tonle Sap. Iklim di Kamboja adalah iklim tropis musim.

## b. Keadaan Sosial dan Ekonomi

Jumlah penduduk negara Kamboja sekitar 9 juta jiwa. Kepadatan penduduk sekitar 49 jiwa/km<sup>2</sup>. Sebagian besar penduduknya bekerja di bidang pertanian dan perkebunan. Pertanian Kamboja banyak terdapat di sekitar aliran Sungai Mekhong. Oleh karena daerah tersebut tanahnya sangat subur. Hasil utama pertanian Kamboja, yaitu padi. Kamboja merupakan salah satu negara pengekspor beras terbesar di Asia Tenggara. Hasil pertanian lainnya adalah jagung, merica, tembakau, kapas, gula, dan aren. Adapun hasil utama perkebunannya adalah karet. Hasil tambangnya meliputi besi, tembaga, mangaan, dan emas.

## 9. Vietnam



Sumber: [id.wikipedia.org](http://id.wikipedia.org)

Gambar 2.12 Peta negara Vietnam

Nama negara	: Vietnam
Ibukota negara	: Hanoi
Bentuk negara	: Republik Sosialis
Kepala negara	: Presiden
Kepala pemerintahan	: Perdana Menteri
Lagu kebangsaan	: Tien Quen Ca
Bahasa resmi	: Vietnam
Agama	: Buddha, Konghucu, dan Taoisme
Mata uang	: Dong
Industri	: chrome, tekstil, semen, dan pupuk
Hari besar	: 21 Juli 1954
Bekas jajahan	: Prancis, Amerika

### a. Kenampakan Alam

Negara Vietnam berada di Semenanjung Indocina. Vietnam mempunyai luas wilayah sekitar 329.707 km<sup>2</sup>. Kenampakan alam negara Vietnam berupa pegunungan dan delta. Di bagian utara merupakan daerah pegunungan. Puncak tertingginya yaitu Gunung Tsin Ho (3.145 m).

Di bagian tengah terdapat Pegunungan Annam. Pegunungan itu membentang sepanjang 80 km dari utara ke selatan. Di bagian timur merupakan daerah pantai. Daerahnya membentang dari utara hingga ke selatan.

Delta Sungai Merah melalui daerah Pegunungan Utara dan bermuara di teluk Tonkin. Adapun delta Sungai Mekhong terbentuk oleh lumpur Sungai Mekhong saat terjadi banjir.

### b. Keadaan Sosial dan Ekonomi

Pada tahun 1946 hingga 1975 terjadi perang saudara di Vietnam. Perang terjadi antara Vietnam Utara dengan Vietnam Selatan. Akibat peperangan tersebut negara mengalami kerugian. Selanjutnya, muncul kemiskinan di Vietnam. Penduduk Vietnam berjumlah sekitar 69,3 juta jiwa. Kepadatan penduduk sekitar 210 jiwa/km<sup>2</sup>.

Perekonomian Vietnam didukung oleh sektor pertanian, perkebunan, perindustrian, dan pertambangan. Hasil pertanian yang utama Vietnam, yaitu padi. Hasil pertanian yang lain, yaitu jagung, ubi, dan buah-buahan. Sektor perkebunan menghasilkan tembakau, teh, tebu, dan kapas. Industri yang terdapat di Vietnam, antara lain industri pupuk, industri ban, dan industri tekstil. Adapun sektor pertambangan menghasilkan emas, timah, biji besi, seng, fosfat, dan gamping.

## Kilas Sosial

Vietnam tergolong negara berkembang. Pertanian merupakan andalan utama ekonomi Vietnam. Sumber tambang kaya raya dalam aneka jenis, demikian juga sumber hutan, irigasi dan usaha perikanan laut dekat. Vietnam menghasilkan padi, tanaman ekonomi tropis, dan buah-buahan tropis. Area hutan kira-kira seluas 10 juta hektar. Vietnam adalah negara pertanian tradisional. Populasi pertanian merupakan 80% populasi total, nilai produksi pertanian mencapai 30% lebih daripada Produk Domestik (PDB). Area tanah garapan dan lahan hutan seluas 60%. Perindustrian utama terutama terdiri atas batu bara, tenaga listrik, metalurgi, dan tekstil. Vietnam kaya dengan sumber industri pariwisata. Vietnam menjalin hubungan perdagangan dengan 150 negara dan daerah. Selama tahun-tahun terakhir ini, pertumbuhan ekonomi Vietnam tumbuh relatif cepat.

Sumber: *indonesian.cri.cn*

## 10 Laos



Sumber: id.wikipedia.org

Gambar 2.13 Peta negara Laos

Nama negara	: Laos
Ibukota negara	: Vientiane
Bentuk negara	: Republik Demokrat
Kepala negara	: Presiden
Lagu kebangsaan	: Sod Lao Tang Te Deum Mc'Khon Sulu So You Noi Ase
Bahasa resmi	: Laos, Palaung, dan Tai
Agama	: Buddha dan Tribal
Mata uang	: Kip

### a. Kenampakan Alam

Negara Laos berada di bagian tengah semenanjung Indocina. Luas wilayah negara Laos sekitar 236.804 km<sup>2</sup>.

Bagian utara negara Laos merupakan daerah pegunungan. Puncak tertinggi Gunung Bia (2.820 m). Gunung-gunung lainnya, yaitu Gunung Sao (2.590 m), Gunung Pousan (2.218 m), Gunung Houi Moc (1.538 m), dan Gunung Taloung San (1.743 m).

Bagian selatan merupakan daerah dataran rendah. Banyak ditumbuhi oleh hutan yang lebat, Sungai Mekhong mengalir dari utara hingga selatan. Sungai Mekhong dijadikan jalur transportasi oleh penduduk Laos. Di bagian tengah terdapat Danau Ngum.



Sumber: www.tropicalisland.de

Gambar 2.14 Sungai Mekhong dimanfaatkan sebagai jalur transportasi oleh penduduk Laos

## b. Keadaan Sosial dan Ekonomi

Jumlah penduduk negara Laos sekitar 4,4 juta jiwa. Kepadatan penduduk sekitar 18 juta/km<sup>2</sup>. Perekonomian negara Laos didukung oleh sektor pertanian, perkebunan, dan peternakan. Sektor pertanian menghasilkan padi, jagung, sayur-sayuran, dan buah-buahan. Pertanian Laos terdapat di sekitar aliran Sungai Mekhong. Sektor perkebunan menghasilkan kelapa. Sektor peternakan menghasilkan lembu, babi, kerbau, dan unggas.

## 11. Timor Leste



Sumber: [www.wikipedia.org](http://www.wikipedia.org)

Gambar 2.15 Peta negara Timor Leste

Nama negara	: Republik Demokratik
Ibukota negara	: Dili
Bentuk negara	: Republik
Kepala negara	: Presiden
Bahasa resmi	: Tetun dan Portugis
Mata uang	: Dolar AS

Negara Timor Leste memiliki luas wilayah 15.410 km<sup>2</sup>. Kepadatan penduduknya mencapai 69 jiwa/km<sup>2</sup>. Wilayah Timor dahulu adalah wilayah kesatuan NKRI. Saat ini, Timor Timur resmi merdeka dan menjadi sebuah negara berdaulat pada tanggal 20 Mei 2002. Sejak saat itu namanya diubah menjadi Timor Leste.

Pada tahun 2005 penduduk Timor Leste diperkirakan berjumlah 1.040.000. Penduduk Timor Leste merupakan campuran suku bangsa Melayu dan Papua. Mayoritas penduduk beragama Katolik (90%), Protestan (5%), Islam (3%), dan sisanya Buddha, Hindu, dan aliran kepercayaan (2%).

Walaupun telah merdeka, Timor Leste masih sangat bergantung dengan Indonesia. Terutama dalam hal pasokan barang-barang. Mulai dari sembako sampai bahan bakar minyak.

## B. Membandingkan Kenampakan Alam Indonesia dengan Kenampakan Alam Negara-negara Lain di Asia Tenggara



Asia Tenggara termasuk ke dalam wilayah Benua Asia. Negara-negara yang berada di wilayah Asia Tenggara, yaitu Indonesia, Malaysia, Singapura, Brunei Darussalam, Filipina, Thailand, Myanmar, Kamboja, Vietnam, Laos, dan Timor Leste.

Kenampakan alam negara-negara di wilayah Asia Tenggara hampir sama. Kenampakan alam negara-negara di Asia Tenggara terdiri atas kenampakan alam daratan dan perairan. Kenampakan alam daratan, antara lain gunung, pegunungan, dataran rendah, dan semenanjung. Hampir semua negara di Asia Tenggara kenampakan alamnya berupa pegunungan. Hanya negara Singapura dan Brunei Darussalam yang tidak mempunyai gunung.

Kenampakan alam perairan, antara lain laut, teluk, selat, danau, dan sungai. Hampir semua negara di Asia Tenggara mempunyai laut, danau, dan waduk. Di setiap negara juga dialiri sungai-sungai. Di Asia Tenggara hanya satu negara yang tidak mempunyai laut, yaitu negara Laos. Oleh karena negaranya dikelilingi oleh negara Myanmar, Thailand, Kamboja, dan Vietnam.

Indonesia merupakan negara yang paling banyak terdapat pegunungan, gunung, selat, laut, sungai, danau, dan pulau. Negara Indonesia adalah negara kepulauan terbesar di Asia Tenggara. Indonesia merupakan negara kepulauan terbesar di dunia.

Filipina memiliki kenampakan alam hampir sama dengan Indonesia. Kenampakan alamnya berupa pegunungan, gunung-gunung berapi yang masih aktif, laut, selat, teluk, semenanjung, dan pulau-pulau. Filipina merupakan negara kepulauan terbesar kedua di Asia Tenggara. Filipina mempunyai pulau yang jumlahnya  $\pm 7.100$  pulau.

### Kilas Sosial

Nama Asia Tenggara pertama kali diciptakan pada abad ke-20. Sebelumnya, Asia Tenggara dikenal dengan nama **India Jauh** (jika dibandingkan dengan anak benua India). Subkawasan Asia Tenggara terdiri dari sebelas negara, beberapa di antaranya di daratan utama (*mainland*), yang juga dikenal sebagai Asia Tenggara Daratan (*Indochina*) dan sebagian lagi seluruhnya di kepulauan (*archipelago*).

Sumber: wikipedia

## Tugas

Buatlah tabel yang berisi mengenai perbedaan kenampakan alam negara-negara lain di Asia Tenggara dengan kenampakan alam Indonesia. Contoh tabel yang bisa kamu buat adalah seperti di bawah ini.

No.	Negara	Perbedaan Kenampakan Alam dengan Indonesia
1.	Singapura	
2.	Malaysia	
3.	Brunei Darussalam	
4.	Filipina	
5.	Thailand	
6.	Myanmar	
7.	Kamboja	
8.	Vietnam	
9.	Laos	

Salinlah di buku latihanmu. Selanjutnya, serahkan kepada gurumu untuk diperiksa.

## C. Membandingkan Keadaan Sosial Negara Indonesia dengan Keadaan Sosial Negara-negara di Asia Tenggara



### 1. Keadaan Sosial Negara-negara di Asia Tenggara

Keadaan sosial Indonesia tidak jauh berbeda dengan keadaan sosial di negara-negara lain di Asia Tenggara. Penduduk Asia Tenggara, termasuk Indonesia merupakan ras Melayu Mongoloid atau Melayu Mongol. Penduduk di negara-negara Asia Tenggara sebagian besar bekerja sebagai petani, karena tanah di Asia Tenggara sangat subur.

Hampir semua negara di Asia Tenggara pernah mengalami penjajahan bangsa Eropa. Satu-satunya negara yang tidak pernah dijajah mengalami penjajahan, yaitu negara Thailand. Negara Indonesia pernah dijajah bangsa Belanda dan Jepang. Sementara negara-negara lain, seperti Malaysia, Brunei Darussalam, dan Singapura merupakan bekas daerah jajahan Inggris. Adapun negara Filipina adalah bekas jajahan Spanyol dan Amerika Serikat.

Berdasarkan persamaan tersebut, negara-negara di Asia Tenggara membentuk suatu kerja sama di bidang ekonomi, sosial, dan budaya, yaitu ASEAN (*Association of South East Asian Nation*) atau Perhimpunan Negara-negara Asia Tenggara (PERBARA). ASEAN berdiri pada tanggal 8 Agustus 1967.

Pada saat berdiri, anggota ASEAN hanya terdiri atas lima negara, yaitu Indonesia, Malaysia, Singapura, Thailand, dan Filipina. Kemudian mulai tahun 1984 anggota ASEAN bertambah lagi, yaitu Brunei Darussalam (7 Januari 1984), Vietnam (28 Juli 1995), Myanmar (23 Juli 1997), Laos (23 Juli 1997), dan Kamboja (16 Desember 1998).



Sumber: geoname.de

Gambar 2.16 Lambang ASEAN

## 2. Gejala-gejala Sosial di Negara-negara di Asia Tenggara

Gejala sosial yaitu masalah yang muncul di dalam kehidupan sosial. Gejala sosial, antara lain kemiskinan, kependudukan, dan kejahatan.

Kemiskinan masih terjadi di Indonesia, Vietnam, Filipina, Kamboja, dan Laos. Kemiskinan yang terjadi di Vietnam merupakan akibat dari perang saudara yang berlangsung hampir 30 tahun, yaitu mulai dari tahun 1946 hingga tahun 1975. Kemiskinan memberikan dampak buruk terhadap kesenjangan sosial, yaitu menimbulkan kesenjangan sosial di dalam masyarakat.

Gejala sosial di bidang kependudukan, yaitu mengenai kepadatan penduduk. Negara di Asia Tenggara yang kepadatan penduduknya tinggi adalah negara Singapura. Kepadatan penduduk yang tidak diimbangi dengan tingkat pendidikan yang baik akan mengakibatkan kualitas penduduk yang rendah. Kualitas penduduk yang rendah akan menimbulkan masalah sosial yang baru dalam kehidupan masyarakat, salah satunya adalah pengangguran.

Kejahatan terjadi di mana-mana, tidak hanya di Indonesia saja. Kejahatan bahkan terjadi di berbagai negara di dunia ini. Kejahatan yang sering terjadi, antara lain perampokan, pencurian, pembunuhan, dan lain-lain. Kejahatan bisa terjadi lintas negara atau internasional, misalnya perdagangan narkoba dan terorisme. Untuk mengatasi kejahatan yang terjadi secara lintas negara dibutuhkan kerja sama dengan negara lain.

Gejala sosial yang terjadi di dalam setiap negara menjadi tanggung jawab pemerintah bersama dengan rakyat untuk mengatasinya.

### Tugas

#### A. Perorangan

Jelaskan perbedaan keadaan sosial dan ekonomi Indonesia dengan negara-negara lain di Asia Tenggara.

#### B. Kelompok

Bersama kelompokmu, carilah berita-berita di surat kabar mengenai kenampakan alam dan gejala sosial yang terjadi di negara di Asia Tenggara. Selanjutnya, buatlah menjadi sebuah klipings.

## Refleksi

Dapatkah kamu menyebutkan negara-negara di kawasan Asia Tenggara? Pesona negara manakah yang menarik minatmu? Bagian mana dari bab ini yang sulit kamu pahami?

## Rangkuman



Negara-negara yang berbeda dalam wilayah Asia Tenggara, yaitu Indonesia, Malaysia, Singapura, Brunei Darussalam, Filipina, Thailand, Myanmar, Kamboja, Vietnam, Laos, dan Timor Leste.

Kenampakan alam negara-negara di Asia Tenggara hampir sama antara negara yang satu dengan yang lain. Kenampakan alamnya terdiri atas pegunungan, gunung, dataran rendah, semenanjung, laut, selat, sungai, dan teluk. Di antara negara-negara di Asia Tenggara, Filipina adalah satu-satunya negara yang kenampakan alamnya hampir sama dengan Indonesia, yaitu berupa kepulauan, laut, selat, teluk, pegunungan, dan gunung berapi yang masih aktif.

Penduduk Asia Tenggara sebagian besar merupakan ras Melayu Mongoloid. Sebagian besar penduduk negara di Asia Tenggara bekerja sebagai petani. Perekonomian negara-negara di Asia Tenggara didukung oleh sektor pertanian, perindustrian, dan pertambangan.

Gejala-gejala sosial yang terjadi di negara-negara di Asia Tenggara, antara lain kemiskinan, kepadatan penduduk, dan kejahatan.

## Evaluasi



### Kerjakan di buku latihanmu!

#### A. Pilihlah jawaban yang paling benar.

- Berikut ini negara-negara yang dialiri oleh Sungai Mekhong, yaitu ....
  - Filipina
  - Kamboja
  - Indonesia
  - Singapura
- Gunung tertinggi di Malaysia, yaitu gunung ....
  - Tahan
  - Noring
  - Kinabalu
  - Mulu
- Berikut ini negara bagian di Malaysia wilayah timur, yaitu ....
  - Selangor
  - Sabah
  - Johor
  - Negeri Sembilan



4. Lumbung beras Asia Tenggara adalah negara ....
  - a. Vietnam
  - b. Kamboja
  - c. Thailand
  - d. Indonesia
5. Negara di Asia Tenggara yang tidak mempunyai laut adalah....
  - a. Singapura
  - b. Laos
  - c. Vietnam
  - d. Myanmar
6. Negara di Asia Tenggara yang belum pernah mengalami penjajahan, yaitu ....
  - a. Thailand
  - b. Malaysia
  - c. Brunei Darussalam
  - d. Singapura
7. Berikut ini waduk yang terdapat di Singapura, yaitu ....
  - a. Pierce
  - b. Cogak Wong
  - c. Jatiluhur
  - d. Tonte Sap
8. Negrito adalah penduduk asli negara ....
  - a. Thailand
  - b. Kamboja
  - c. Filipina
  - d. Myanmar
9. Hasil utama dari pertanian negara Myanmar, yaitu ....
  - a. jagung
  - b. buah-buahan
  - c. kelapa
  - d. padi
10. Berikut ini pegunungan di negara Kamboja, yaitu ....
  - a. Pegunungan Tenasserim
  - b. Pegunungan Cardamomes
  - c. Pegunungan Annam
  - d. Pegunungan Muler
11. Gunung tertinggi di Laos, yaitu Gunung ....
  - a. Bia
  - b. Pousan
  - c. Sao
  - d. Taloung San
12. Pegunungan Annam terdapat di negara ....
  - a. Thailand
  - b. Myanmar
  - c. Vietnam
  - d. Laos
13. Negara penghasil timah terbesar di dunia adalah ....
  - a. Singapura
  - b. Thailand
  - c. Malaysia
  - d. Brunei Darussalam
14. Hanoi adalah ibukota negara ....
  - a. Laos
  - b. Myanmar
  - c. Kamboja
  - d. Vietnam
15. Negara yang terakhir masuk menjadi anggota ASEAN adalah....
  - a. Malaysia
  - b. Brunei Darussalam
  - c. Vietnam
  - d. Kamboja

**B. Isilah titik-titik dengan jawaban yang benar.**

1. Pegunungan di negara Malaysia adalah pegunungan ....
2. Penduduk Singapura sebagian besar adalah suku bangsa ....
3. Wilayah timur Brunei Darussalam kenampakan alamnya berupa ....
4. Gunung tertinggi di Filipina adalah ....
5. Sungai terkenal di Thailand adalah sungai ....
6. Semenanjung bagian selatan Thailand disebut ....
7. Sungai terpanjang di Myanmar adalah sungai ....
8. Pertanian Kamboja banyak dilakukan di ....
9. Perekonomian negara Laos didukung oleh sektor ... dan ....
10. Pegunungan di Vietnam adalah pegunungan ....

**C. Jawablah pertanyaan-pertanyaan berikut dengan benar.**

1. Jelaskan dengan singkat kenampakan alam negara Brunei Darussalam.
2. Sebutkan waduk yang ada di Singapura.
3. Jelaskan dengan singkat kenampakan alam negara Thailand.
4. Jelaskan persamaan kenampakan alam Indonesia dengan Filipina.
5. Sebutkan pegunungan yang berada di negara Myanmar.





# KENAMPAKAN ALAM DAN KEADAAN SOSIAL NEGARA NEGARA DI DUNIA

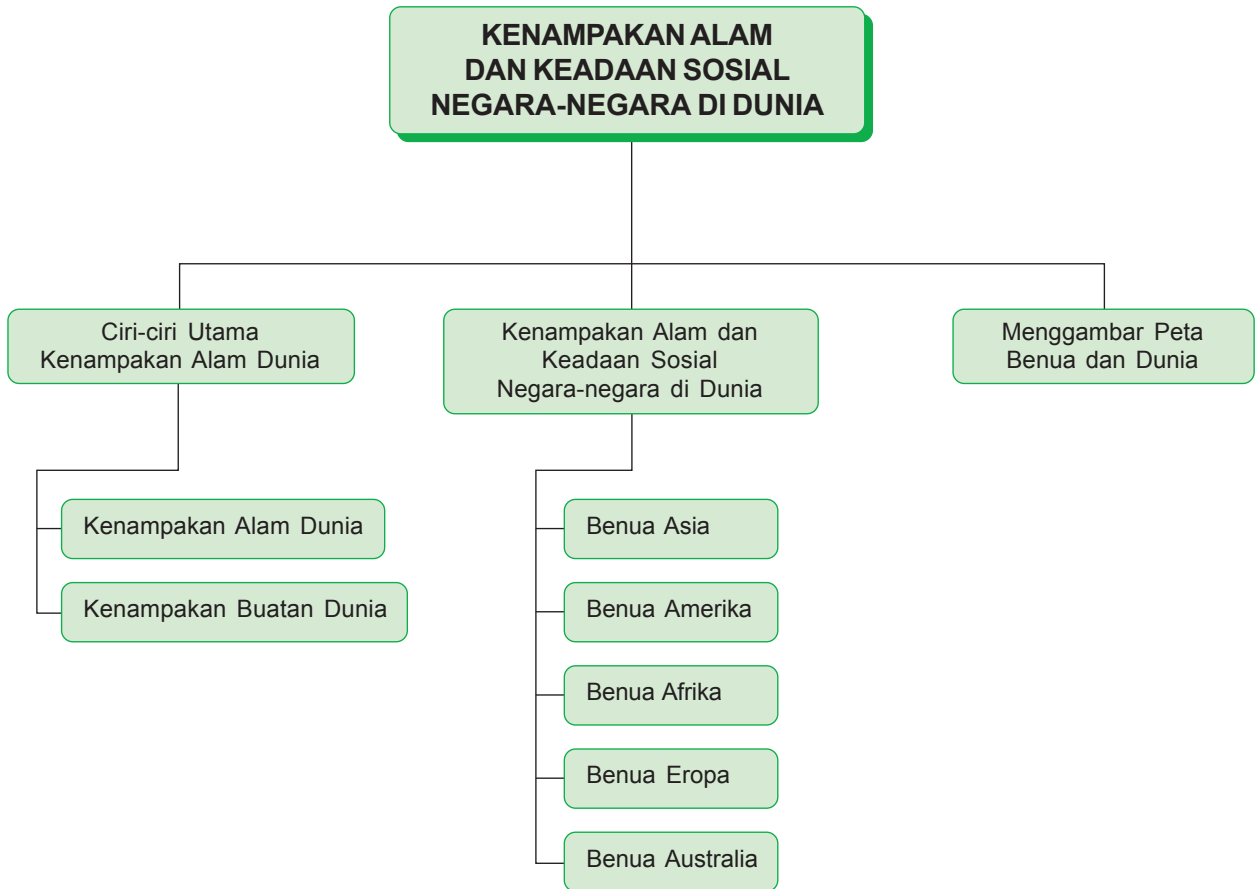
## Kata Kunci

◆ kenampakan alam dunia ◆ peta dunia



Sumber: [www.nationsonline.org](http://www.nationsonline.org)

Benua dan Samudra tersebar di seluruh belahan dunia



Bumi yang kita tempati ini terbagi menjadi lima benua, yaitu Benua Asia, Amerika, Afrika, Eropa, dan Australia. Adapun wilayah perairan terdiri atas empat samudra, yaitu Samudra Pasifik, Samudra Hindia, Samudra Atlantik, dan Samudra Arktik. Bagaimana ciri kenampakan alam dunia tersebut? Pelajari bab ini dengan saksama.



## A. Ciri-ciri Utama Kenampakan Alam Dunia

### 1. Kenampakan Alam Dunia

Kenampakan alam merupakan permukaan bumi yang terletak secara alami. Secara umum, kenampakan alam terbagi menjadi dua, yaitu kenampakan alam daratan dan kenampakan alam perairan. Kenampakan alam daratan dunia, antara lain benua, gunung, gurun, pulau, dan kepulauan. Adapun kenampakan alam perairan dunia, antara lain samudra, laut, danau, sungai, selat, teluk, dan air terjun.

#### a. Kenampakan Alam Daratan Dunia

Benua adalah daratan yang sangat luas dan dikelilingi oleh lautan. Benua Asia merupakan benua terluas di dunia. Adapun benua terkecil, yaitu Benua Australia.

Berikut ini adalah tabel tentang kenampakan alam daratan dunia.

**Tabel 3.1** Benua di Dunia

No.	Nama Benua	Luas Benua
1.	Asia	44.614.000 km <sup>2</sup>
2.	Amerika	45.050.000 km <sup>2</sup>
3.	Afrika	30.224.050 km <sup>2</sup>
4.	Eropa	10.600.000 km <sup>2</sup>
5.	Australia	8.560.000 km <sup>2</sup>

**Tabel 3.2** Pegunungan Terpanjang di Dunia

No.	Nama Pegunungan	Panjang	Puncak Tertinggi
1.	Andes	8.850 km	Gunung Aconcagua (6.960 m)
2.	Rocky	5.100 km	Gunung Elbert (4.399 m)
3.	Himalaya	2.500 km	Puncak Everest (8.848 m)
4.	Alpen	1.000 km	Mountain Blanc (4.807 m)

**Tabel 3.3** Gunung Berapi Tertinggi di Dunia

No.	Nama Gunung	Tinggi Gunung	Letak
1.	Kimanjaro	6.010 m	Tanzania
2.	Gualtiri	5.965 m	Chili
3.	Lascar	5.896 m	Chili
4.	Cotopaxi	5.804 m	Ecuador
5.	El Misti	5.729 m	Peru

**Tabel 3.4** Gunung Tertinggi di Dunia

No.	Nama Gunung	Tinggi Gunung	Letak
1.	Everest	8.848 m	Asia
2.	Godwin Austen	8.611 m	Asia
3.	Kangchenjunga	8.586 m	Asia
4.	Lhotse I	8.516 m	Asia
5.	Makalu I	8.463 m	Asia

**Tabel 3.5** Pulau Terluas di Dunia

No.	Nama Pulau	Luas Pulau	Letak
1.	Greenland	2.175,600 km <sup>2</sup>	Denmark
2.	Papua (Indonesia, Papua Nugini)	890.000 km <sup>2</sup>	Asia
3.	Kalimantan (Indonesia, Malaysia, Brunei Darussalam)	743.330 km <sup>2</sup>	Asia
4.	Madagaskar	587.041 km <sup>2</sup>	Madagaskar
5.	Baffin	507.451 km <sup>2</sup>	Kanada

Kenampakan alam yang lain adalah gurun dan kepulauan. Gurun terluas di dunia adalah Gurun Sahara. Gurun Sahara berada di benua Afrika dengan luas sekitar 8.400.000 km<sup>2</sup>. Adapun gurun terluas kedua di dunia adalah Gurun Gobi di Benua Asia dengan luas sekitar 1.300.000 km<sup>2</sup>.

Kepulauan terbesar di dunia adalah Indonesia. Indonesia terdiri atas pulau-pulau yang jumlahnya sekitar 18.000 pulau.



Sumber: [www.thegeminiweb.com](http://www.thegeminiweb.com)

**Gambar 3.1** Everest merupakan puncak tertinggi di dunia



Sumber: [www.twip.org](http://www.twip.org)

**Gambar 3.2** Gurun Sahara merupakan gurun terluas di dunia

## b. Kenampakan Alam Perairan Dunia

Berikut ini adalah tabel-tabel kenampakan alam perairan yang ada di dunia.

**Tabel 3.6** Samudra di Dunia

No.	Nama Samudra	Luas	Terdalam
1.	Pasifik	165.300.000 km <sup>2</sup>	Palung Mariana (11.033 m)
2.	Atlantik	82.200.000 km <sup>2</sup>	8.738 m
3.	Hindia	75.500.000 km <sup>2</sup>	Palung Diamantina (8.047 m)
4.	Arktik	14.055.930 km <sup>2</sup>	5.499 m

**Tabel 3.7** Laut Terluas di Dunia

No.	Nama Laut	Luas
1.	Laut Cina Selatan	2.974.615 km <sup>2</sup>
2.	Laut Karibia	2.515.926 km <sup>2</sup>
3.	Laut Tengah	2.509.969 km <sup>2</sup>
4.	Laut Bering	2.261.070 km <sup>2</sup>
5.	Laut Okhotsk	1.392.125 km <sup>2</sup>

**Tabel 3.8** Danau Terluas di Dunia

No.	Nama Danau	Luas	Letak
1.	Danau Kaspia	394.299 km <sup>2</sup>	Asia – Eropa
2.	Danau Superior	82.414 km <sup>2</sup>	Amerika Utara
3.	Danau Victoria	69.485 km <sup>2</sup>	Afrika
4.	Danau Aral	66.456 km <sup>2</sup>	Asia
5.	Danau Huron	59.596 km <sup>2</sup>	Amerika Utara

**Tabel 3.9** Sungai Terpanjang di Dunia

No.	Nama Sungai	Panjang Sungai	Letak
1.	Nil	6.690 km	Afrika
2.	Amazon	6.300 km	Amerika Selatan
3.	Missisipi	6.210 km	Amerika Utara
4.	Hyang Tse Kiang	5.330 km	Asia
5.	Ob	5.200 km	Asia

**Tabel 3.10** Air Terjun Tertinggi di Dunia

No.	Nama Sungai	Ketinggian	Letak
1.	Salto Angel (Angel)	979 m	Venezuela
2.	Tugela	850 m	Afrika Selatan
3.	Utigord	800 m	Norwegia
4.	Monge	774 m	Norwegia
5.	Mutarazi	762 m	Zimbabwe



**Tabel 3.11** Air Terjun Terbesar di Dunia

No.	Nama Air Terjun	Debit Air	Letak
1.	Guaira	13.310 m <sup>3</sup> /detik	Paraguay
2.	Niagara	6.009 m <sup>3</sup> /detik	Kanada
3.	Paulo Afonco	2.832 m <sup>3</sup> /detik	Brazilia
4.	Urubupunga	2.742 m <sup>3</sup> /detik	Brazilisa
5.	Igauzu	1.744 m <sup>3</sup> /detik	Argentina

## 2. Kenampakan Buatan Dunia

Kenampakan buatan adalah kenampakan yang sengaja dibuat oleh manusia. Kenampakan buatan yang terkenal di dunia, antara lain

- Candi Borobudur, di Indonesia
- Menara Pisa, di Italia
- Menara Eiffel, di Perancis
- Piramida, di Mesir
- Tembok Besar Cina, di Republik Rakyat Cina (RRC)
- Patung Liberty, di Amerika
- Taj Mahal, di India



Sumber: [www.artlex.com](http://www.artlex.com)

**Gambar 3.3** Candi Borobudur di Indonesia



Sumber: [www.freefoto.com](http://www.freefoto.com)

**Gambar 3.4** Patung Liberty di Amerika

### Tugas

Sebutkan kenampakan buatan terkenal di dunia selain yang tersebut di atas. Sebutkan pula negara tempat kenampakan alam itu berada. Tulislah dalam selembar kertas. Selanjutnya, serahkan kepada gurumu.

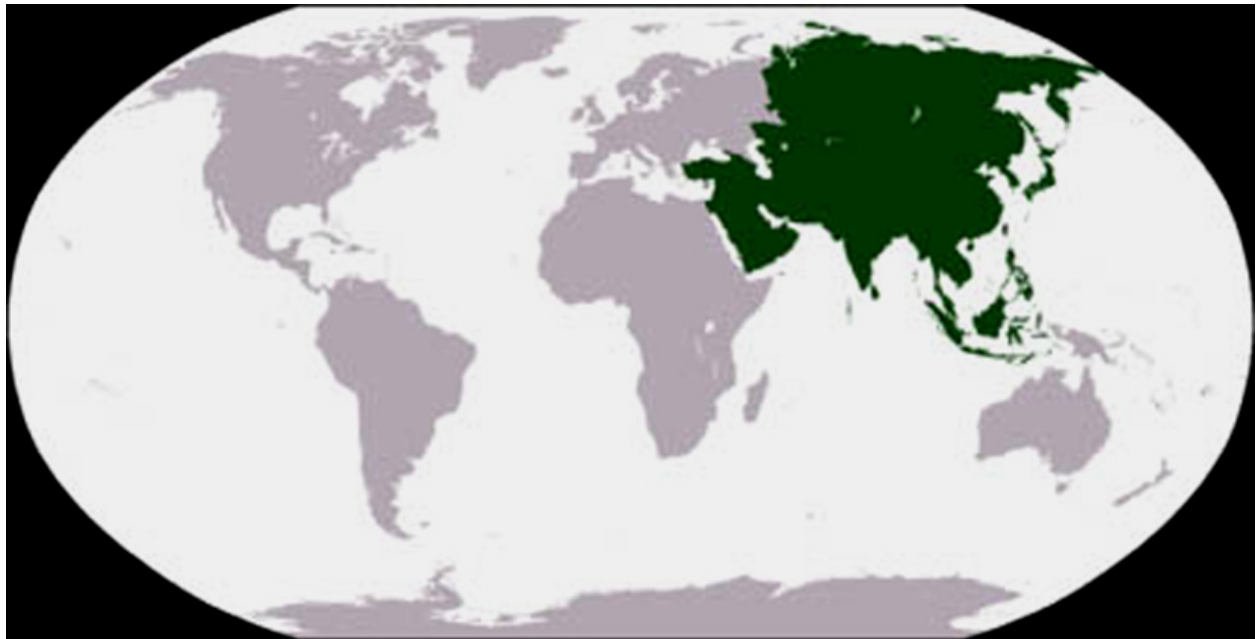
## B. Kenampakan Alam dan Keadaan Sosial Negara-negara di Dunia



### 1. Benua Asia

Benua Asia merupakan benua terluas di dunia. Luas wilayahnya mencapai 44.614 km<sup>2</sup>. Wilayah benua Asia terbagi menjadi lima bagian, yaitu Asia Tenggara, Asia Timur, Asia Selatan, Asia Barat, dan Asia Tengah.

Perhatikan peta benua Asia berikut ini.



Sumber: [upload.wikimedia.org](https://upload.wikimedia.org)

Gambar 3.5 Peta Benua Asia

Perhatikan peta tersebut. Benua Asia dan Benua Eropa berada dalam satu wilayah yang disebut *Eurasia*. Wilayah Benua Asia dengan Benua Eropa dipisahkan oleh Danau (Laut) Kaspia, Pegunungan Ural, dan Pegunungan Yablonovy.

Berikut ini tabel nama-nama negara termasuk ke dalam wilayah benua Asia.

**Tabel 3.12** Negara-negara di Benua Asia

Wilayah Benua	Nama Negara	Ibukota	Luas Wilayah (km <sup>2</sup> )
Asia Timur	Republik Rakyat Cina (RRC)	Beijing	9.596.961
	Jepang	Tokyo	377.643
	Korea Utara	Pyongyang	120.540
	Korea Selatan	Seoul	99.143
	Taiwan	Taipei	32.260
Asia Selatan	India	New Delhi	3.287.590
	Pakistan	Islamabad	804.940
	Bangladesh	Dakta	143.998
	Nepal	Katmandu	141.400
	Sri Langka	Colombo	65.610
	Bhutan	Thimphu	46.600
	Maladewa	Male	298
Asia Barat	Arab Saudi	Riyadh	2.240.000
	Iran	Teheran	1.647.240
	Turki	Ankara	766.640
	Afganistan	Kabul	647.500
	Yaman	Sariaq	527.968
	Irak	Bagdad	445.480
	Oman	Muskat	212.380
	Suriah	Damaskus	186.480
	Yordania	Amman	96.089
	Azerbaijan	Baku	86.600
	Uni Emirat Arab	Abu Dhabi	82.800
	Georgia	Tbilisi	67.700
	Armenia	Yerevan	29.800
	Israel	Yerusalem	20.720
	Kuwait	Kuwait	16.058
	Qatar	Doha	11.437
	Libanon	Beirut	10.320
Siprus	Nikosia	9.251	
Bahrain	Al-Manamah	659	
Asia Tengah	Kazakhstan	Astana	2.717.300
	Mongolia	Ulan Bator	1.564.610
	Turkmenisten	Ashgabat	488.100
	Uzbekistan	Tashkent	447.400
	Kirgiztan	Bischkek	198.500
	Tajikistan	Dushanbe	143.100

Masih ingatkah kamu negara-negara mana saja yang termasuk ke dalam wilayah Asia Tenggara?

Berikut akan dijelaskan mengenai kenampakan alam dan keadaan sosial beberapa negara di Benua Asia.

### a. Republik Rakyat Cina (RRC)



Sumber: [www.wordtravels.com](http://www.wordtravels.com)

Gambar 3.6 Peta Republik Rakyat Cina (RRC)

Nama negara	: Cina
Ibukota negara	: Beijing
Bentuk negara	: Republik
Kepala negara	: Presiden
Kepala pemerintahan	: Perdana Menteri
Lagu kebangsaan	: Yiyongjun Jin Xingqu
Bahasa Nasional	: Mandarin
Agama	: Konghucu, Buddha, Kristen, Islam, dan sebagainya
Mata uang	: Yuan

#### 1) Kenampakan Alam

Republik Rakyat Cina (RRC) mempunyai luas wilayah sekitar 9.596.961 km<sup>2</sup>. Kenampakan alam RRC berupa pegunungan, dataran tinggi, dataran rendah, dan gurun.

Di RRC terdapat beberapa pegunungan, yaitu pegunungan Tien Syan di bagian barat, dan pegunungan Himalaya di bagian barat daya. Di bagian tengah terdapat pegunungan Kunlun, pegunungan Tanghlo, pegunungan Dungebare, pegunungan Altyn Tagh, pegunungan Bayankhara, pegunungan Tsin Ling, dan pegunungan Tapa. Di bagian timur laut terdapat pegunungan Khingan Besar dan pegunungan Khingan Kecil.

Di bagian selatan terdapat Dataran Tinggi Tibet dan Dataran Tinggi Yunnan. Di bagian utara terdapat Gurun Gobi dan Gurun Taklamakan. Gurun Gobi merupakan gurun terluas kedua di dunia dengan luas. 1.300.000 km<sup>2</sup>.

Di bagian timur berupa dataran rendah yang subur. Di daerah tersebut mengalir Sungai Hwang Ho. Sungai terpanjang di Cina adalah Sungai Hyang Tse Kiang. Panjangnya mencapai 5.330 km. Danau yang terdapat di Cina, antara lain Danau Tshing Hai, danau Tung Ting, Danau Poyang, Danau Hangze, Danau Tai, dan Danau Sungari.

Di Cina terdapat tiga iklim, yaitu iklim tropis di bagian selatan, iklim subtropis di bagian utara, dan iklim muson di bagian timur atau daerah pantai.



Sumber: [www.e-dukasi.net](http://www.e-dukasi.net)

**Gambar 3.7** Gurun Gobi merupakan gurun terluas kedua di dunia



Sumber: [www.destination360.com](http://www.destination360.com)

**Gambar 3.8** Tembok raksasa di Cina merupakan salah satu keajaiban dunia

## 2) Keadaan Sosial dan Ekonomi

Berdasarkan hasil sensus tahun 2000, penduduk Cina berjumlah sekitar 1,3 juta jiwa. Kepadatan penduduknya sekitar 140 jiwa/km<sup>2</sup>. Cina menjadi negara dengan kepadatan penduduk terbesar kedua di dunia setelah India. Oleh karena itu, pemerintah Cina menerapkan program keluarga berencana secara ketat.

Sebagian besar penduduk Cina merupakan suku bangsa Han (94%). Adapun suku bangsa yang lain Mongol, Manchu, Zhuang, Tibet, dan Uygur. Sebagian besar (95%) penduduknya memeluk agama Konghucu, Buddha, dan Tao. Adapun yang lain memeluk agama Islam.

Perekonomian RRC didukung oleh sektor pertanian, perindustrian, dan pertambangan. Pertanian RRC terdapat di sekitar daerah aliran Sungai Hwang Ho dan lembah Sungai Hyang Tse Kiang. Sektor pertanian Cina menghasilkan padi, jagung, kedelai, kacang, teh, gula, rami, dan kapas.

Perindustrian Cina, antara lain industri tekstil, otomotif, kimia, baja, plastik, dan semen. Hasil tambangnya, antara lain minyak bumi, batu bara, tungsten, timah, merkuri, dan mangan.

## b. Jepang



Sumber: [www.wordtravels.com](http://www.wordtravels.com)

Gambar 3.9 Peta negara Jepang

Nama negara	: Jepang
Ibukota negara	: Tokyo
Bentuk negara	: Kerajaan
Kepala negara	: Kaisar
Kepala pemerintahan	: Perdana Menteri
Lagu kebangsaan	: Kimi Ga Yo
Bahasa Nasional	: Jepang
Agama	: Shinto
Mata uang	: Yen

### 1) Kenampakan Alam

Jepang merupakan negara kepulauan yang terletak di sebelah timur negara RRC. Jepang mempunyai luas wilayah sekitar 377.643 km<sup>2</sup>. Wilayah Jepang meliputi pulau-pulau besar, yaitu Pulau Honshu, Kyusu, Shikoku, dan Hokaido, serta pulau-pulau kecil di sekitarnya.

Kenampakan alam Jepang berupa dataran rendah dan pegunungan. Pegunungan yang terdapat di Jepang adalah sebagai berikut.

- Pegunungan Kitamani dan Pegunungan Hidaka di Pulau Hokkaido.
- Pegunungan Kyuryo dengan puncak tertinggi Gunung Iwate (2.041 m) di Pulau Honshu.
- Pegunungan Kitami dengan puncak tertinggi Gunung Hoyachine (1.914 m) di Pulau Honshu.
- Pegunungan Hido dengan puncaknya Gunung Norikura (3.260 m) di Pulau Honshu.
- Pegunungan Kiso dengan puncaknya Gunung Fuji (3.776 m) di Pulau Honsu.

- Pegunungan Chugoku, dengan Puncaknya Gunung Dai (1.712 m) di Pulau Honshu.
- Pegunungan Shikoku, dengan puncaknya Gunung Ishizuechi (1.981 m) di Pulau Shikoku.
- Pegunungan Tsukusi, dengan puncaknya Gunung Kuju (1.787 m) di Pulau Kyusu.



Sumber: [www.acc.umu.se](http://www.acc.umu.se)

**Gambar 3.10** Gunung Fuji dianggap suci oleh penduduk Jepang

Gunung Fuji di Pulau Honshu merupakan gunung tertinggi di Jepang. Gunung Fuji dianggap suci oleh penduduk Jepang. Danau yang terdapat di Jepang, antara lain Danau Shinji Ko, Danau Biwa Ko, Danau Karumiga, dan Danau Inawasiro Ko.

Sungai yang mengalir di Jepang sebagian besar sungai-sungai pendek. Sungai di Jepang, antara lain Sungai Kiso, Sungai Yoshino, Sungai Asashi, dan Sungai Shira.

## 2) Keadaan Sosial dan Ekonomi

Berdasarkan hasil sensus tahun 2004, penduduk Jepang berjumlah 127 juta jiwa. Kepadatan penduduk sekitar 336 jiwa/km<sup>2</sup>. Suku Ainu adalah penduduk asli Jepang. Sebagian besar penduduk Jepang beragama Shinto, yaitu agama asli Jepang.

Perekonomian Jepang sebagian besar didukung oleh sektor perindustrian. Perindustrian Jepang, antara lain industri elektronik, kendaraan bermotor, mobil, kapal, kimia, farmasi, tekstil, dan makanan. Selain perindustrian, perekonomian Jepang juga didukung oleh sektor pertanian dan peternakan. Hasil pertanian Jepang, yaitu padi, kentang, jagung, gandum, kacang, sayuran, dan buah-buahan. Peternakan yang ada di Jepang, antara lain peternakan sapi, babi, dan ayam.

### Tugas

Coba jelaskan persamaan dan perbedaan kenampakan alam serta keadaan sosial antara negara Cina dengan Jepang. Tuliskan ke dalam tabel seperti berikut.

Persamaan	Perbedaan	
	RRC	Jepang

Salinlah pada buku tugasmu. Selanjutnya, serahkan kepada gurumu untuk diperiksa.

### c. India



Sumber: [www.wordtravels.com](http://www.wordtravels.com)

Gambar 3.11 Peta negara India

Nama negara	: India
Ibukota negara	: New Delhi
Bentuk negara	: Republik
Kepala negara	: Presiden
Kepala pemerintahan	: Perdana Menteri
Lagu kebangsaan	: Jana – Gana – Mana
Bahasa Nasional	: Hindi, Inggris
Agama	: Hindu, Islam, dan sebagainya
Mata uang	: Rupee


#### 1) Kenampakan Alam

Negara India mempunyai luas wilayah sekitar 3.287.590 km<sup>2</sup>. Kenampakan alamnya berupa pegunungan, dataran tinggi, dataran rendah, dan gurun.

- Bagian utara terdapat Pegunungan Himalaya yang wilayah India dengan Cina. Di bagian utara juga terdapat gunung tertinggi kedua setelah Everest, yaitu Gunung Godwin Austen (8.611 m).
- Bagian selatan terdapat pegunungan, yaitu Pegunungan Ghats Barat dan Pegunungan Ghats Timur. Selain itu, di bagian selatan juga terdapat Dataran Tinggi Dekan.
- Bagian barat terdapat Gurun Thar yang memisahkan wilayah India dengan Pakistan.
- Dataran rendah terdapat di bagian timur. Daerah tersebut dialiri oleh Sungai Gangga. Sungai Gangga merupakan sungai terbesar di India. Sungai ini dianggap suci oleh masyarakat India. Sungai besar lainnya, yaitu Sungai Brahmaputra. Sungai Brahmaputra merupakan anak Sungai Gangga.



Di India terdapat bangunan terkenal yang menjadi salah satu keajaiban dunia, yaitu Taj Mahal. Bangunan Taj Mahal berada di kota Agra.



Sumber: [www.mapsafworld.com](http://www.mapsafworld.com)

Gambar 3.12 Taj Mahal di India

## 2) Keadaan Sosial dan Ekonomi

Berdasarkan sensus tahun 2005, penduduk India berjumlah 1.080.264.388 jiwa. Kepadatan penduduk sekitar 329 jiwa/km<sup>2</sup>. India merupakan negara terpadat penduduknya di dunia. Penduduk asli India, yaitu suku bangsa Indo Arya dan suku bangsa Dravida. Suku Indo Arya menempati wilayah utara dan selatan India. Adapun suku Dravida menempati wilayah selatan India. Sebagian besar penduduk India beragama Hindu (84%) dan yang lain beragama Buddha, Islam, dan Kristen.

India merupakan penghasil beras terbesar kedua di dunia. Selain itu, sebagai penghasil kacang tanah terbesar pertama di dunia. India juga penghasil kayu terbesar ketiga di dunia.

Di sektor pertambangan, India penghasil tembaga terbesar ketiga di dunia. Hasil tambang India yang lain meliputi batu bara, bauksit, mangan, besi, chrom, mika, dan gip. Perindustrian India, antara lain industri kendaraan bermotor, pupuk, karung goni, baja, tekstil, semen, dan kimia.

#### d. Pakistan



Sumber: [www.mapsafworld.com](http://www.mapsafworld.com)

Gambar 3.13 Peta negara Pakistan

Nama negara	: Pakistan
Ibukota negara	: Islamabad
Bentuk negara	: Republik Islam
Kepala negara	: Presiden
Kepala pemerintahan	: Perdana Menteri
Lagu kebangsaan	: Pak Sarzamin Shad Bad
Bahasa Nasional	: Bahasa Urdu dan Inggris
Agama	: Islam
Mata uang	: Rupee

#### 1) Kenampakan Alam

Negara Pakistan berada di sebelah barat negara India. Luas wilayah negara Pakistan, yaitu 803.940 km<sup>2</sup>.

Bagian timur wilayah Pakistan berupa dataran rendah yang subur. Daerah tersebut merupakan lembah sungai Indus (Sindu).

Di bagian utara terdapat Padang Pasir Kalahari. Di bagian barat terdapat Pegunungan Sulaiman. Pegunungan itu memisahkan wilayah Pakistan dengan Afghanistan.

#### 2) Keadaan Sosial dan Ekonomi

Pakistan mempunyai penduduk dengan jumlah sekitar 110 juta jiwa. Kepadatan penduduknya sekitar 130 jiwa/km<sup>2</sup>. Sebagian besar penduduk Pakistan adalah suku bangsa Punjab (68%). Adapun suku yang lain adalah suku Urdu (17,6%), Sindi (13%), Iran (8,5%), dan suku Baluci (2,5%). Sebagian besar penduduknya beragama Islam (93%), dan yang lain beragama Kristen.

Penduduk Pakistan bekerja sebagai petani. Pertanian penduduk Pakistan terdapat di sekitar lembah Sungai Indus. Hasil pertaniannya, yaitu padi, gandum, tembakau, dan gula.

Selain sektor pertanian, perekonomian Pakistan juga didukung oleh sektor pertambangan dan perindustrian. Hasil tambangnya, antara lain minyak bumi, gas, sulfur, chromit, sulfur, gip, asbestos, dan antimon. Perindustrian di Pakistan, antara lain industri semen, tekstil, kimia, dan kulit.

## Tugas

Gambarlah peta wilayah negara India dan Pakistan. Salinlah ke dalam buku latihanmu. Perhatikan skala pada peta yang kamu buat.

### e. Arab Saudi



Sumber: wikipedia.org

Gambar 3.14 Peta negara Arab Saudi

Nama negara	: Arab Saudi
Ibukota negara	: New Riyadh
Bentuk negara	: Kerajaan
Kepala negara	: Raja
Lagu kebangsaan	: An-Nash eed Al-Wattani As-Saudi
Bahasa Nasional	: Arab
Agama	: Islam
Mata uang	: Riyal

## 1) Kenampakan Alam

Negara Arab Saudi berada di Semenanjung Arabia. Luas wilayah Arab Saudi adalah 2.240.000 km<sup>2</sup>.

Sebagian besar wilayahnya berupa gurun pasir. Di bagian utara terdapat Gurun An-Nafud dan Gurun Syria. Di bagian tenggara terdapat Gurun Arab Besar (Rub Al-Khali). Dataran rendah berada di bagian barat dan timur. Di bagian barat terdapat dataran rendah Tihamah. Adapun sebelah timur terdapat Dataran Hejar.

Negara Arab Saudi tidak terdapat aliran sungai. Di sana hanya terdapat wadi dan oase. Wadi merupakan lembah sungai kering yang terdapat air pada waktu hujan saja. Adapun oase adalah mata air yang terdapat di padang pasir. Pohon kurma banyak tumbuh di sekitar oase. Iklim yang terdapat di Arab Saudi adalah iklim tropika gurun.

Kota-kota besar di Arab Saudi, yaitu Madinah, Mekkah, dan Jeddah. Kota Madinah dan Mekkah merupakan kota suci bagi umat Islam. Di kota Mekkah terdapat bangunan suci bagi umat Islam, yaitu Ka'bah. Bangunan Ka'bah merupakan salah satu bangunan keajaiban dunia.



Sumber: [www.phys.uu.nl](http://www.phys.uu.nl)

Gambar 3.15 Kabah

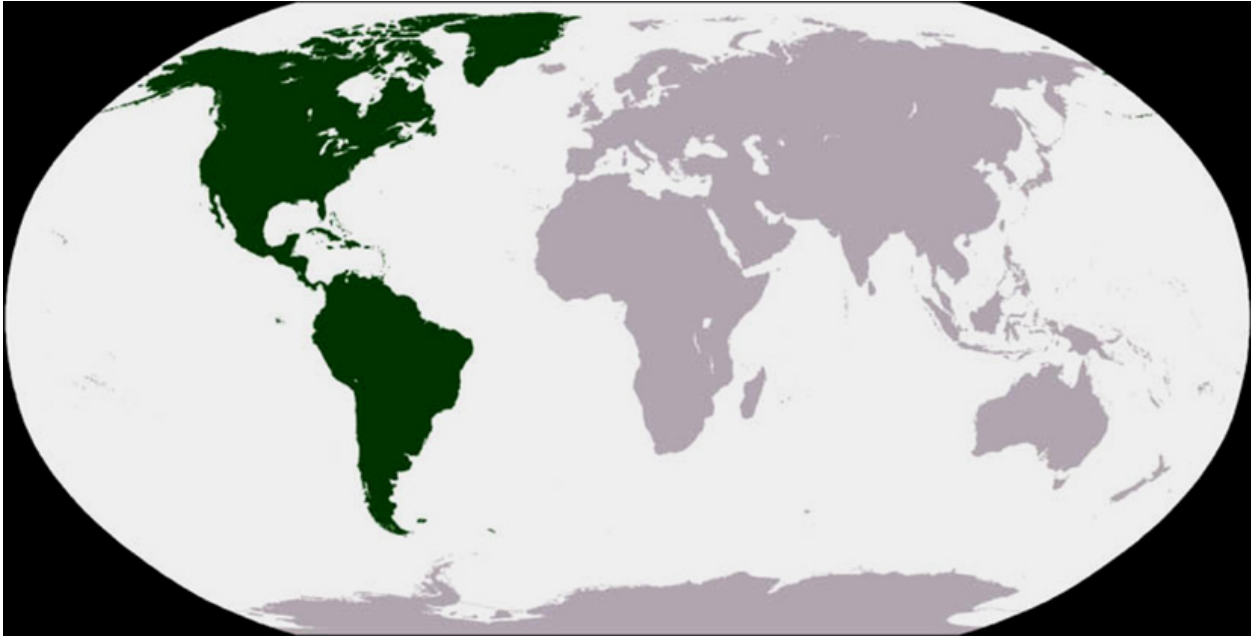
## 2) Keadaan Sosial dan Ekonomi

Jumlah penduduk Arab Saudi pada tahun 2004 sekitar 25.100.430 jiwa. Kepadatan penduduknya sekitar 11 jiwa/km<sup>2</sup>. Sebagian besar beragama Islam.

Mata pencaharian penduduk Arab Saudi sebagai petani dan peternak. Hasil pertanian, antara lain kurma, sayuran, dan gandum. Peternakan penduduk Arab Saudi, yaitu unta, biri-biri, kuda, dan kambing.

Perekonomian Arab Saudi sebagian besar didukung oleh sektor pertambangan. Hasil tambang Arab Saudi adalah minyak bumi. Arab Saudi merupakan pengekspor minyak bumi terbesar di dunia. Selain itu, Arab juga mengekspor kurma, wool, dan kulit hewan.

## 2. Benua Amerika



Sumber: [id.wikipedia.org](http://id.wikipedia.org)

Gambar 3.16 Peta benua Amerika

Benua Amerika ditemukan pada tahun 1492 oleh Christopher Columbus. Christopher Columbus bersama dengan Amerigo Vespucci pertama kali mendarat di kepulauan Bahama. Setelah itu bangsa Eropa, seperti Belanda, Spanyol, Inggris, Portugal, dan Prancis mulai berdatangan ke Amerika.

Benua Amerika mempunyai luas wilayah 42.050.000 km<sup>2</sup>. Wilayahnya terbagi menjadi tiga, yaitu Amerika Utara, Amerika Tengah, dan Amerika Selatan.

Amerika Utara meliputi negara Kanada, Amerika Serikat, dan Meksiko. Di Amerika Utara terdapat pegunungan Rocky yang membentang dari Kanada hingga Meksiko. Amerika Tengah berupa kepulauan yang wilayahnya meliputi kepulauan Bahama, kepulauan Antilla Besar, dan Antilla Kecil. Di Amerika Selatan membentang pegunungan Andes sepanjang 8.850 km dari Kolombia hingga Argentina. Pegunungan Andes merupakan pegunungan terpanjang di dunia. Puncak tertingginya adalah gunung Aconcagua (6.960 m) di Argentina. Di Amerika Selatan juga mengalir sungai terpanjang kedua di dunia, yaitu sungai Amazon.

Berikut ini adalah nama-nama negara yang termasuk ke dalam wilayah benua Amerika.

Tabel 3.13 Negara-negara di Amerika Utara

No.	Nama Negara	Ibukota	Luas Wilayah (km <sup>2</sup> )
1.	Kanada	Ottawa	9.976.140
2.	Amerika Serikat	Washington DC	9.372.610
3.	Meksiko	Meksiko	1.972.550



Sumber: [www.world-atlas.us](http://www.world-atlas.us)

Gambar 3.17 Peta Amerika Utara

Tabel 3.14 Negara-negara di Amerika Tengah

No.	Nama Negara	Ibukota	Luas Wilayah (km <sup>2</sup> )
1.	Nikaragua	Managua	130.000
2.	Honduras	Tegucigalpa	112.090
3.	Kuba	Havana	110.000
4.	Guatemala	Guatemala	108.890
5.	Panama	Panama	77.080
6.	Kosta Rika	San Jose	50.700
7.	Haiti	Port Au Prince	27.750
8.	Belize	Belmopen	22.960
9.	El Savador	San Salvador	21.040
10.	Kepulauan Bahama	Nassau	13.940
11.	Jamaika	Kingston	10.900
12.	Puerto Riko	San Yuan	8.860
13.	Trinidad & Tobago	Port of Span	5.130
14.	Dominika	Santo Domingo	750
15.	Antiqua	St. John's	440
16.	Barbados	Bridgetown	430
17.	Grenada	St. George's	340
18.	Guadeloupe	Basseterre	269



Sumber: [www.destination360.com.jpg](http://www.destination360.com.jpg)

Gambar 3.18 Peta Amerika Tengah

**Tabel 3.15** Negara-negara di Amerika Selatan

No.	Nama Negara	Ibukota	Luas Wilayah (km <sup>2</sup> )
1.	Brasil	Brasillia	8.511.597
2.	Argentina	Boenos Aires	2.771.300
3.	Peru	Lima	1.284.640
4.	Kolumbia	Bogota	1.139.600
5.	Bolivia	Lapaz	1.098.581
6.	Venezuela	Caracas	912.050
7.	Chili	Santiago	756.950
8.	Paraguay	Asuncion	406.630
9.	Ecuador	Quito	274.540
10.	Guyana	Georgetown	214.970
11.	Uruguay	Montevideo	186.998
12.	Suriname	Paramaribo	142.709
13.	Guyana Perancis	Cayenne	88.000



Sumber: [www.map-of-south-america.us](http://www.map-of-south-america.us)

**Gambar 3.19** Peta Amerika Selatan

## Kilas Sosial

Di Amerika Selatan, perbedaan antara yang kaya dan miskin sangat besar. Di Venezuela, Paraguay, Brasil, dan banyak negara Amerika Selatan lainnya, orang-orang 20 persen yang terkaya dapat memiliki lebih dari 60% kekayaan negara. Sementara 20 persen termiskin hanya memiliki kurang dari 5%. Perbedaan ini dapat dilihat di banyak kota-kota besar Amerika Selatan yang memiliki rumah kumuh dan gubuk dekat dengan pencakar langit dan apartemen mewah kelas atas.

Sumber: wikipedia

Berikut ini penjelasan kenampakan alam dan keadaan sosial beberapa negara besar di benua Amerika.

## Kilas Sosial

Pegunungan Andes di Amerika bagian selatan merupakan pegunungan terpanjang di Amerika. Pegunungan tersebut membentang sejauh 5.100 mil.

### a. Kanada



Sumber: [www.map-of-canada.org](http://www.map-of-canada.org)

Gambar 3.20 Peta negara Kanada

Nama negara	: Kanada
Ibukota negara	: Ottawa
Bentuk negara	: Persemakmuran (Dominion)
Kepala negara	: Ratu
Kepala pemerintahan	: Perdana Menteri
Lagu kebangsaan	: O Kanada
Bahasa Nasional	: Inggris dan Perancis
Agama	: Kristen
Mata uang	: Dolar Kanada

### 1. Kenampakan Alam

Kanada adalah negara persemakmuran Inggris. Kanada berada di sebelah utara Amerika Serikat. Kanada merupakan negara kepulauan yang wilayahnya meliputi kepulauan Queen Elizabeth, kepulauan Sverdrup, kepulauan Belcher, dan Greenland. Greenland merupakan pulau terbesar di dunia. Luas wilayah Kanada, yaitu 9.976.140 km<sup>2</sup>.



Di bagian barat terdapat Pegunungan Rocky, Pegunungan Mackenzie, dan Pegunungan Pantai. Di Kanada terdapat beberapa danau besar, yaitu Danau Great Bear, Danau Great Slave, Danau Superior, Danau Huron, Danau Eire, Danau Ontario, dan beberapa danau kecil lainnya. Danau Superior merupakan danau terbesar kedua di dunia setelah Danau Kaspia. Danau Superior, Danau Huron, dan Danau Erie memisahkan wilayah Kanada dengan Amerika Serikat.

Di Kanada terdapat air terjun terbesar kedua, yaitu Air Terjun Niagara. Air terjun Niagara berada diantara Danau Eire dan Danau Ontario.



Sumber: [gajahsora.net](http://gajahsora.net)

**Gambar 3.21** Niagara merupakan air terjun terbesar kedua di dunia

## 2. Keadaan Sosial dan Ekonomi

Jumlah penduduk Kanada pada tahun 2001 adalah 30.007.094 jiwa. Kepadatan penduduk sekitar 3 juta jiwa/km<sup>2</sup>. Penduduknya sebagian besar berasal dari Inggris dan Prancis. Penduduk asli Kanada, yaitu Suku Indian dan Eskimo. Penduduk Kanada menganut agama Katolik, Protestan, dan Yahudi.

Gandum merupakan hasil utama dari pertanian Kanada. Hasil pertaniannya adalah jagung, sayuran, dan kentang. Selain pertanian, perekonomian Kanada juga didukung oleh sektor perindustrian dan pertambangan. Perindustrian di Kanada, yaitu industri kayu, kertas, mesin, pengolahan daging, tekstil dan semen.

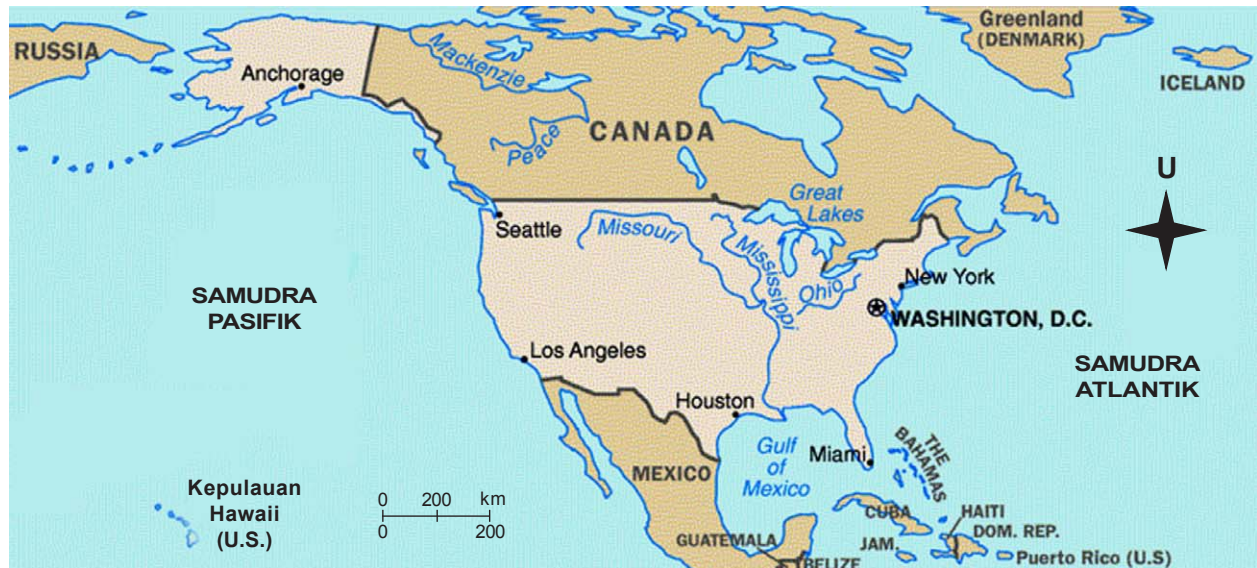
Sektor pertambangan menghasilkan minyak dan gas bumi, bijih besi, tembaga, nikel, seng, batu bara, asbes, alumunium, dan timah. Kanada mengeksport gandum, alumunium dan kertas. Adapun barang-barang impornya adalah kendaraan bermotor, kapal terbang, dan alat-alat listrik.

### Kilas Sosial

Sektor utama investasi langsung Kanada di Indonesia adalah di dalam bidang pertambangan, minyak dan gas, keuangan, jasa, lingkungan, dan *agrifood*. Bahkan investasi tunggal Kanada di Asia berada di Indonesia, yaitu perusahaan tambang PT INCO di Soroako, Sulawesi Selatan dengan nilai investasi sekitar Can\$ 3,5–4 milyar (US\$ 2,5–US\$ 2,9).

Sumber: [www.indonesia-ottawa.org](http://www.indonesia-ottawa.org)

## b. Amerika Serikat



Sumber: [www.worldlanguage.com](http://www.worldlanguage.com)

Gambar 3.22 Peta Negara Amerika Serikat

Nama negara	: Amerika Serikat
Ibukota negara	: Washington DC
Bentuk negara	: Negara Bagian (Federal)
Kepala negara	: Presiden
Lagu kebangsaan	: The Star Spangled Banner
Bahasa Nasional	: Inggris
Agama	: Protestan, Katolik, Yahudi, Islam, dan sebagainya
Mata uang	: Dolar Amerika

### 1. Kenampakan Alam

Amerika Serikat berbentuk negara bagian (Federal). Wilayahnya terdiri atas 50 negara bagian. Negara bagian yang wilayahnya terpisah, yaitu Alaska dan Hawaii. Alaska berada di sebelah barat Laut Kanada. Adapun Hawaii berada di Samudra Pasifik. Luas wilayah Amerika Serikat mencapai 9.529.063 km<sup>2</sup>.

Bagian barat Amerika Serikat membentang Pegunungan Rocky. Puncak tertingginya, yaitu Gunung Whitney (4.418 m). Di bagian tengah berupa dataran rendah. Di daerah tersebut mengalir Sungai Mississippi merupakan sungai terpanjang ketiga di dunia. Di bagian timur terdapat Pegunungan Appalachian. Gunung-gunung lain yang terdapat di Amerika Serikat, yaitu Gunung Elbert (4.390 m), Gunung Pikes Peak (4.303 m), Gunung Shasta (4.374 m), dan Gunung Haggin (3.233 m).

Di bagian utara terdapat danau besar, yaitu Danau Superior, Danau Huron, dan Danau Eire. Danau-danau tersebut memisahkan wilayah Amerika Serikat dengan Kanada.

Di negara bagian Alaska terdapat Pegunungan Alaska dengan puncak tertinggi, yaitu Gunung Mc.Kinley (6.187 m). Selain itu, juga terdapat Pegunungan Brooks.



Sumber: Encarta, 2006

Gambar 3.23 Pegunungan Rocky


## 2. Keadaan Sosial dan Ekonomi

Penduduk Amerika Serikat pada tahun 2004 mencapai 293.027.570 jiwa. Penduduk asli Amerika Serikat, yaitu suku Indian. Adapun penduduk yang lain merupakan keturunan bangsa Eropa, bangsa Negro dari Afrika, dan Asia. Agama yang terdapat di Amerika Serikat, yaitu Protestan, Katolik, dan Yahudi.

Hasil pertanian Amerika Serikat, antara lain gandum, kedelai, jagung, kapas, tembakau, sayuran, dan buah-buahan. Peternakan terbesar di Amerika Serikat, yaitu peternakan sapi.

Sektor pertambangannya menghasilkan minyak bumi, emas, batu bara, uranium, tembaga, bijih besi, fosfat, nikel, bauksit, magnesium, dan perak.

Amerika merupakan salah satu negara maju di bidang industri. Perindustrian Amerika, yaitu industri kapal terbang, kapal laut, mobil, elektronik, obat-obatan, tekstil, dan industri makanan.



Sumber: [www.freefoto.com](http://www.freefoto.com)

Gambar 3.24 Patung Liberty di Amerika Serikat

### c. Brazil



Sumber: [www.destination360.com](http://www.destination360.com)

Gambar 3.25 Peta Negara Brazil

Nama negara	: Brazil
Ibukota negara	: Brasilia
Bentuk negara	: Republik
Kepala negara	: Presiden
Lagu kebangsaan	: Hino Nasional Brasileiro
Bahasa Nasional	: Portugis
Agama	: Katolik
Mata uang	: Real Brazil

#### 1. Kenampakan Alam

Negara Brazil berada di Benua Amerika bagian selatan. Luas wilayahnya mencapai 8.511.957 km<sup>2</sup>. Daerahnya sebagian besar berupa dataran rendah yang subur. Di Brazil mengalir Sungai Amazon, Sungai Rio Grande, Sungai Tapajos, dan sungai kecil lainnya. Sungai Amazon merupakan sungai terpanjang kedua di dunia.

Di Brazil terdapat Dataran Tinggi Brazil dan Dataran Tinggi Mato Grosso. Di bagian tenggara terdapat Pegunungan Espinhaco.

#### 2. Keadaan Sosial dan Ekonomi

Jumlah penduduk Brazil pada tahun 2005 mencapai 186.112.794 jiwa. Penduduk Brazil merupakan bangsa Spanyol, Portugis, dan Italia. Penduduknya sebagian besar beragama Katolik.

Pertanian Brazil menghasilkan kopi, jagung, tebu, tembakau, dan kedelai. Brazil merupakan penghasil kopi terbesar nomor satu di dunia. Selain itu, sebagai penghasil jagung terbesar kedua dunia. Brazil merupakan penghasil sapi terbesar keempat dunia.

Hasil pertambangan Brazil, antara lain batu permata, biji besi, bauksit, timah hitam, pasir kuarsa, dan grafit. Perindustrian di Brazil meliputi industri kimia, alat listrik, tekstil, barang logam, dan industri makanan.

Barang-barang ekspornya meliputi kopi, gula, kapas, coklat, dan kayu, bijih besi, bahan kimia, dan mangan. Adapun barang-barang impornya, yaitu mesin, minyak bumi, gandum, dan alat transportasi.

#### d. Argentina



Sumber: worldincentivenexus.com

Gambar 3.26 Peta Negara Argentina

Nama negara	: Argentina
Ibukota negara	: Buenos Aires
Bentuk negara	: Republik
Kepala negara	: Presiden
Lagu kebangsaan	: Oid Mortales
Bahasa Nasional	: Spanyol
Agama	: Katolik
Mata uang	: Peso

## 1. Kenampakan Alam

Argentina mempunyai luas wilayah 2.771.300 km<sup>2</sup>. Daerahnya berupa dataran rendah dan pegunungan.

Di bagian barat membentang Pegunungan Andes. Puncak tertinggi di Argentina adalah Gunung Aconcagua (6.959 m). Gunung-gunung lain di Argentina, yaitu Gunung Las Tortolas (6.323 m). Di bagian timur berupa dataran rendah yang dialiri beberapa Sungai Salado, Sungai Parana, dan Sungai Colorado.

## 2. Keadaan Sosial dan Ekonomi

Penduduk Argentina berjumlah 39.537.943 jiwa (tahun 2005). Penduduknya sebagian besar keturunan bangsa Spanyol dan Italia. Sisanya merupakan keturunan bangsa Arab, Negro, dan Indian. Penduduk Argentina sebagian beragama Katolik Roma.

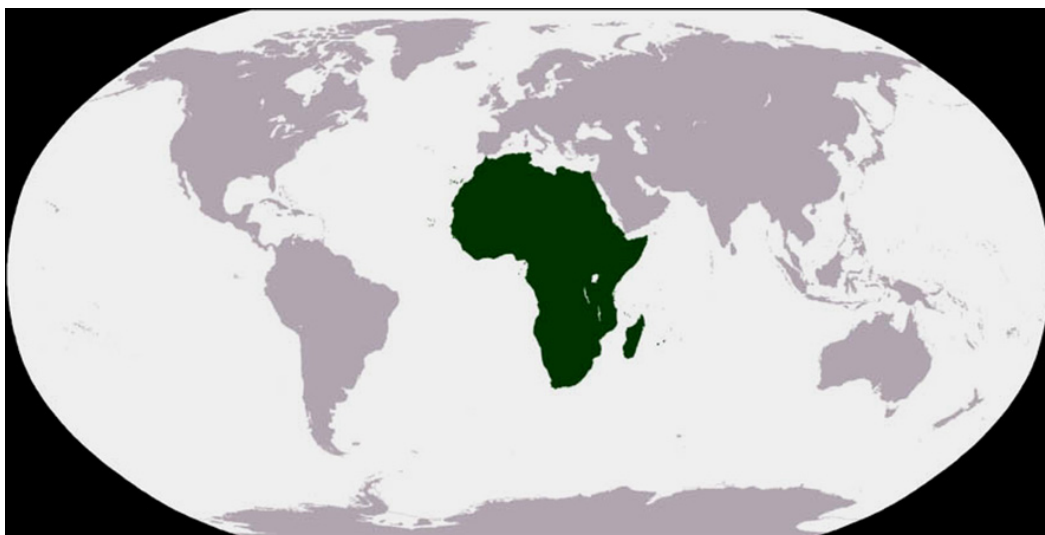
Hasil dari pertanian Argentina, antara lain jagung, padi, gandum, kedelai, kapas, dan tebu. Peternakannya, antara lain sapi, kuda, dan biri-biri. Hasil tambangnya, yaitu minyak bumi dan logam.

### Tugas

Bukalah Atlas Indonesia dan Dunia, kemudian sebutkan batas-batas dari:

1. Benua Amerika
  2. Negara Kanada, Amerika Serikat, Brasil, dan Argentina
- Tuliskan dalam selembar kertas. Selanjutnya, serahkan kepada gurumu.

## 3. Benua Afrika




Sumber: [id.wikipedia.org](http://id.wikipedia.org)

Gambar 3.27 Peta Benua Afrika

Benua Afrika mempunyai luas wilayah sekitar 30.224.050 km<sup>2</sup>. Kenampakan alam Benua Afrika sebagian besar berupa pegunungan, dataran tinggi, dan gurun. Di Benua Afrika terdapat gunung api tertinggi di dunia, yaitu Gunung Kalimanjaro (6.010 m) di Tanzania.

Di bagian utara terdapat Gurun Sahara dan Gurun Libya. Di bagian selatan terdapat Gurun Kalahari. Gurun Sahara merupakan gurun terluas di dunia. Di Benua Afrika mengalir Sungai Nil, Sungai Kongo, Sungai Niger, dan Sungai Zambesi. Sungai Nil merupakan sungai terpanjang di dunia. Sungai Nil mengalir di sepanjang Benua Afrika.



Sumber: [www.egyptmyway.com](http://www.egyptmyway.com)

Gambar 3.28 Sungai Nil di Afrika

Penduduk asli Benua Afrika adalah suku bangsa Negro, seperti Negro Pigmes, Negro Niger, Negro Bantu, dan Negro Sudan. Adapun penduduk pendatang berasal dari bangsa Arab, Melayu, Perancis, Belanda, Inggris, Portugal, dan Belgia.

Benua Afrika terbagi menjadi empat bagian, yaitu Afrika Utara, Afrika Tengah, Afrika Barat, dan Afrika Selatan. Berikut ini negara-negara yang berada di wilayah Benua Afrika.

Tabel 3.16 Negara-Negara di Benua Afrika

Wilayah Benua	Nama Negara	Ibukota	Luas Wilayah (km <sup>2</sup> )
Afrika Utara	Mesir	Kairo	997.739
	Libya	Tripoli	1.578.610
	Aljazair	Algiers	2.381.741
	Tunisia	Tunis	164.206
	Maroko	Rabat	409.200
	Sahara Barat	Al Aaium	226.770
	Mauritania	Nuakchott	1.030.700
	Mali	Bamako	1.204.350
	Niger	Niamey	1.266.510
	Chad	Nojamena	1.284.640
	Sudah	Khartoum	2.505.813
	Eritrea	Asmara	117.600
	Ethiopia	Addis Abeba	1.178.450

Wilayah Benua	Nama Negara	Ibukota	Luas Wilayah (km <sup>2</sup> )
Afrika Tengah	Afrika Tengah	Bangui	625.000
	Zaire	Kinshasa	2.342.950
	Uganda	Kampala	236.036
	Kenya	Nairobi	582.646
	Somalia	Mogadhisu	637.140
	Ruwanda	Kigali	25.900
	Burundi	Bujumbura	28.490
	Tanzania	Dar Er Salam	939.652
	Anggola	Luanda	1.245.790
	Kongo	Brazzaville	349.650
	Gabon	Libreville	264.180
	Guinea Equator	Malabo	27.972
	Kamerun	Younde	475.700
	Nigeria	Lagos	924.630
Afrika Barat	Benin	Porto Navo	115.773
	Togo	Lome	56.900
	Ghana	Accra	238.280
	Burkina Faso	Quagadougou	274.200
	Pantai Gading	Abijan	723.750
	Liberia	Monrovia	111.370
	Sierra Leone	Free Town	72.261
	Guinea	Konakry	246.050
	Guinea Bissau	Bissau	36.260
	Gambia	Banjul	10.360
Senegal	Dakkar	196.840	
Afrika Selatan	Malawi	Lilongwe	95.053
	Zambia	Lusaka	745.920
	Zimbabwe	Harare	391.090
	Mozambik	Maputo	786.762
	Namibia	Whindoek	824.292
	Botswana	Gaborone	576.000
	Zwaziland	Mbabane	17.364
	Afrika Selatan	Pretoria	1.219.100
	Lesotho	Maseru	30.303
	Komoro	Moroni	2.170
	Malagasi (Madagaskar)	Antananarivo	587.041

## Tugas

Buatlah sebuah kelompok kecil. Carilah berita atau artikel mengenai kenampakan alam dan sumber daya benua Afrika. Tuliskan dalam selembar kertas. Selanjutnya, bacakan di depan kelas simpulannya.



Selanjutnya akan dijelaskan kenampakan alam dan keadaan sosial beberapa negara di Benua Afrika.

### a. Mesir



Sumber: [www.worldlanguage.com](http://www.worldlanguage.com)

Gambar 3.29 Peta Negara Mesir

Nama negara	: Mesir
Ibukota negara	: Kairo
Bentuk negara	: Republik
Kepala negara	: Presiden
Kepala Pemerintahan	: Perdana Menteri
Lagu kebangsaan	: Biladi, Biladi, Biladi
Bahasa Nasional	: Arab
Agama	: Islam, Kristen
Mata uang	: Pound Mesir

### 1. Kenampakan Alam

Negara Mesir mempunyai luas wilayah 997.739 km<sup>2</sup>. Wilayahnya meliputi Semenanjung Sinai di Benua Asia. Daerah Mesir di Benua Afrika dan Semenanjung Sinai dipisahkan oleh Terusan Suez.

Terusan Suez menghubungkan Laut Tengah dengan Laut Merah. Terusan Suez dibangun pada tahun 1870 oleh Ferdinand de Lesseps.

Mesir merupakan salah satu negara di Benua Afrika yang dialiri oleh Sungai Nil. Di Sungai Nil dibangun sebuah bendungan besar, yaitu Bendungan Aswan. Air di bendungan Aswan dimanfaatkan sebagai pembangkit listrik dan pengairan.

Kenampakan alam Mesir, antara lain sebagai berikut.

- Di bagian utara terdapat dataran tinggi Libya.
- Di bagian barat terdapat Gurun Al-Gharbiyah.
- Di bagian tengah terdapat bukit pasir Abu Muharrik.
- Di bagian timur terdapat Gurun Timur.
- Di bagian barat daya terdapat Gurun Libya.

Di Mesir terdapat peninggalan sejarah kuno, yaitu Piramida dan Spinx. Piramida merupakan sebuah bangunan tempat pemakaman raja-raja Mesir pada zaman dahulu.

Spinx merupakan sebuah patung singa berkepala manusia, patung tersebut melambangkan kekuatan Raja Firaun.

## 2. Keadaan Sosial dan Ekonomi

Penduduk Mesir pada tahun 2004 berjumlah 76.117.420. Kepadatan penduduknya mencapai 77 jiwa/km<sup>2</sup>. Sebagian besar penduduknya tinggal di sekitar lembah Sungai Nil. Penduduk Mesir sebagian besar bekerja sebagai petani.

Hasil pertanian Mesir meliputi gandum, padi, jagung, kacang tanah, bawang, kapas, dan buah-buahan. Peternakan di Mesir menghasilkan unta dan domba. Hasil pertambangan Mesir, antara lain minyak bumi, fosfat, mangan, dan baja. Perindustrian yang terdapat di Mesir, antara lain industri pupuk, semen, dan kacang tanah. Adapun barang-barang impornya, adalah mesin mobil.

### b. Aljazair



Sumber: [www.worldlanguage.com](http://www.worldlanguage.com)

Gambar 3.30 Peta Negara Aljazair

Nama negara	: Aljazair
Ibukota negara	: Algiers
Bentuk negara	: Republik
Kepala negara	: Presiden
Kepala Pemerintahan	: Perdana Menteri
Bahasa Nasional	: Arab, Prancis
Agama	: Islam
Mata uang	: Dinas Aljazair

## 1. Kenampakan Alam

Luas wilayah Aljazair adalah 2.381.741 km<sup>2</sup>. Kenampakan alam Aljazair sebagian besar berupa pegunungan dan gurun. Di sebelah utara terdapat Pegunungan Atlas. Adapun di bagian selatan berupa daerah gurun, yaitu Gurun Sahara. Puncak tertinggi di Aljazair adalah Gunung Tahat (3.003 m).

## 2. Keadaan Sosial dan Ekonomi

Jumlah penduduk Aljazair pada tahun 2005 sekitar 32.930.091 jiwa. Kepadatan penduduknya sekitar 14 jiwa/ km<sup>2</sup>. Penduduknya sebagian besar beragama Islam.

Penduduk Aljazair sebagian besar bekerja sebagai petani. Hasil pertaniannya, antara lain gandum, kurma, sayur-sayuran, kapas, dan buah-buahan. Penduduk Aljazair juga beternak kambing dan biri-biri. Hasil ternak menghasilkan wol.

Perindustrian Aljazair, antara lain industri pupuk dan tekstil. Hasil tambangnya meliputi minyak bumi, besi, gas, dan fosfat. Barang-barang yang diekspor oleh Aljazair, antara lain minyak bumi, besi, dan buah-buahan. Adapun barang-barang yang diimpor adalah barang elektronik, mobil, dan bahan kimia

## c. Nigeria



Sumber: media.map.com

Gambar 3.31 Peta Nigeria

Nama negara	: Nigeria
Ibukota negara	: Lagos
Bentuk negara	: Republik
Kepala negara	: Presiden
Bahasa Nasional	: Inggris
Agama	: Islam
Mata uang	: Naira

## 1. Kenampakan Alam

Nigeria berada di wilayah Afrika Tengah. Luas wilayah Nigeria sekitar 924.630 km<sup>2</sup>. Daerahnya sebagian besar berupa dataran rendah. Di Nigeria mengalir Sungai Niger yang bermuara di Teluk Guinea. Kota Lagos dan Port Harcourt merupakan kota pelabuhan penting di Nigeria.

## 2. Keadaan Sosial dan Ekonomi

Jumlah penduduk Nigeria sekitar 1.250.000 jiwa. Penduduk asli Nigeria, yaitu suku Hansa, Juruta, Ibo, dan Fulbe. Sebagian besar penduduknya bekerja sebagai petani. Hasil pertaniannya meliputi kelapa, cokelat, kacang tanah, dan karet.

Hasil tambangnya berupa minyak bumi, batu bara, gas alam dan timah. Hasil tambang tersebut diekspor ke luar negeri.

## d. Afrika Selatan



Sumber: [www.worldlanguage.com](http://www.worldlanguage.com)

Gambar 3.32 Peta Negara Afrika Selatan

Nama negara	: Afrika Selatan
Ibukota negara	: Pretoria
Bentuk negara	: Republik
Kepala negara	: Presiden
Kepala Pemerintahan	: Perdana Menteri
Lagu kebangsaan	: Nkosi Sikelel I Afrika/Die Stem Suid Afrika
Bahasa Nasional	: Inggris
Agama	: Katolik, Protestan, Islam, dan sebagainya
Mata uang	: Rand

## 1. Kenampakan Alam

Negara Afrika Selatan berada di Benua Afrika paling Selatan. Luas wilayahnya sekitar 1.219.100 km<sup>2</sup>.

Kenampakan alam Afrika Selatan berupa daerah pegunungan. Selain itu, terdapat lembah-lembah yang curam. Gunung yang terdapat di Afrika Selatan, antara lain Gunung Giant's Castle (3.820 m), Gunung Canthikin Peak (3.650 m) dan Mount Aux Sources (3.299 m). Sungai yang mengalir di Afrika Selatan adalah Sungai Orange. Kota Cape Town merupakan pelabuhan terkenal di Afrika Selatan. Cape Town merupakan pusat perdagangan dan pariwisata di Afrika Selatan.

## 2. Keadaan Sosial dan Ekonomi

Pada tahun 2005, jumlah penduduk Afrika Selatan mencapai 44.344.136 jiwa. Kepadatan penduduknya mencapai 36 jiwa/km<sup>2</sup>. Sebagian besar penduduknya adalah bangsa berkulit putih. Penduduknya berasal dari Prancis dan Belanda.

Pertambangan Afrika Selatan menghasilkan emas, perak, kroom, dan uranium. Afrika Selatan merupakan negara penghasil emas terbesar di dunia. Tambang emas Afrika Selatan berada di kota Kimberley.

### Tugas

Bukalah Atlas Indonesia dan Dunia, kemudian perhatikanlah peta Benua Afrika! Sebutkan batas-batas:

1. Benua Afrika
2. Negara Mesir, Aljazair, Nigeria, dan Afrika Selatan.

Tulislah dalam selembar kertas. Selanjutnya, kumpulkan hasilnya kepada gurumu!

## 4. Benua Eropa

Benua Eropa mempunyai luas wilayah 10.600.000 km<sup>2</sup>. Kenampakan alam Benua Eropa berupa pegunungan dan dataran rendah. Daerah pegunungan berada di bagian selatan, membentang dari barat ke timur. Di bagian timur terdapat Pegunungan Ural yang memisahkan antara Benua Asia dan Benua Eropa.



Sumber: [www.twip.org](http://www.twip.org)

Gambar 3.33 Peta Benua Eropa

Benua Eropa dibagi menjadi lima wilayah, yaitu Eropa Timur, Eropa Tengah, Eropa Selatan, Eropa Barat, dan Eropa Utara. Berikut ini nama-nama negara yang berada di dalam wilayah Benua Eropa.

### Kilas Sosial

Selama ini, Eropa dikenal sebagai negara-negara yang paling sadar akan internet di dunia. Namun ternyata, sebuah data dari Komisi Eropa mengungkap fakta yang cukup mengejutkan. Banyak warga di negara Uni Eropa yang masih belum tersentuh internet.

International Herald Tribune, Senin (21/4/2008), sebanyak 40 persen warga Uni Eropa dikatakan belum pernah sama sekali menyentuh dunia internet. Negara asalnya pun bermacam-macam.

Sekitar dua per tiga warga Rumania, Bulgaria dan Yunani dilaporkan sama sekali asing dengan dunia online. Sementara di sisi lain, internet telah menjadi "makanan sehari-hari" warga Denmark dan Belanda. Tarif internet di negara-negara Eropa memang sangat beragam. Khusus di negara-negara Eropa Timur, tarif internet dikatakan lebih mahal ketimbang wilayah Eropa lainnya.

Di Slovakia misalnya, konsumen harus membayar sedikitnya US\$ 77 atau setara dengan Rp 708 ribu untuk akses broadband dengan kecepatan download 1 Megabit/detik. Sementara di Negara Kincir Angin Belanda, harga internet mulai dari US\$ 22 atau sekitar Rp 202 ribu.

Sumber: [www.detik.com](http://www.detik.com)

**Tabel 3.17** Negara-Negara di Benua Eropa

Wilayah Benua	Nama Negara	Ibukota	Luas Wilayah (km <sup>2</sup> )
Eropa Timur	Rusia	Moskow	17.075.000
	Ukraina	Kieu	603.700
	Bylorusia	Minsk	207.600
	Lithuania	Vilna	62.500
	Latvia	Riga	64.500
	Estonia	Tallin	17.413
	Moldovia	Kishinev	33.700
Eropa Tengah	Polandia	Warsawa	312.354
	Rumania	Bukares	237.503
	Bulgaria	Sofia	111.852
	Jerman	Berlin	357.041
	Ceko	Praha	79.000
	Slovakia	Bratislavia	49.000
	Hungaria	Budapest	92.981
	Serbia	Beograd	88.000
	Macedonia	Skopje	26.713
	Albania	Tirana	28.749
	Bosnia Herzegovina	Sarajevo	51.129
	Kroasia	Zarger	56.538
	Slovenia	Ljubljana	20.000
	Austria	Wina	83.851
	Swiss	Bern	41.400
Eropa Selatan	Spanyol	Madrid	505.050
	Portugal	Lisabon	94.275
	Andorra	Andorra Vella	453
	Italia	Roma	301.217
	Vatikan	Vatikan	0,44
	Malta	Valetta	313
	Yunani	Athena	132.608
Eropa Barat	Prancis	Paris	543.965
	Belgia	Brussel	30.513
	Luxemburg	Luxemburg	2.590
	Belanda	Amsterdam	41.526
	Inggris	London	244.110
	Irlandia	Dublin	68.894
Eropa Utara	Denmark	Kopenhagen	42.994
	Islandia	Reykjavik	102.952
	Norwegia	Oslo	323.750
	Swedia	Stockholm	448.070
	Finlandia	Helsinki	336.700

Berikut ini penjelasan kenampakan alam dan keadaan sosial beberapa negara besar di Benua Eropa.

**a. Jerman**



Sumber: [www.destination360.com](http://www.destination360.com)

**Gambar 3.34** Peta Negara Jerman

Nama negara	: Jerman
Ibukota negara	: Berlin
Bentuk negara	: Republik Federal
Kepala negara	: Presiden
Kepala Pemerintahan	: Kanselir
Lagu kebangsaan	: Das Lied Dere Deutschen
Bahasa Nasional	: Jerman
Agama	: Kristen, Katolik, Islam, dan lain-lain
Mata uang	: Euro dan Deutsche Mark

**1. Kenampakan Alam**

Luas wilayah Jerman sekitar 357.041 km<sup>2</sup>. Daerahnya berupa pegunungan, dataran tinggi, dan hutan yang lebat. Daerah pegunungan dan dataran tinggi terdapat di bagian selatan. Adapun bagian utara merupakan daerah yang banyak terdapat hutan lebat.

Pegunungan yang terdapat di Jerman, yaitu Pegunungan Swarzwald, Swabian Jura, Bavaria, Bohemia yang memisahkan wilayah Jerman dengan Ceko, Frankonian Jura, Thuringer, Harz, Rhon, Hardt, Hunsurck, Eifel, dan Pegunungan Taunus.

Di bagian selatan juga terdapat Dataran Tinggi Bayern. Sungai yang mengalir di Jerman, antara lain Sungai Rhine, Sungai Main, Sungai Regen, dan Sungai Elbe.



## 2. Keadaan Sosial dan Ekonomi

Jumlah penduduk Jerman pada tahun 2004 sekitar 82.495.000 jiwa. Sebagian besar penduduk Jerman bekerja di bidang industri dan jasa. Jerman merupakan salah satu negara industri maju di dunia. Perindustrian Jerman, antara lain industri mobil, pesawat terbang, kapal, elektronik, dan obat-obatan. Mobil hasil produksi Jerman, antara lain BMW, Opel, dan Mercedes.

Hasil pertambangan Jerman meliputi batu bara dan biji besi. Pertambangan batu bara terdapat di Pegunungan Hanz.

### b. Prancis



Sumber: [www.worldlanguage.com](http://www.worldlanguage.com)

Gambar 3.35 Peta Negara Prancis

Nama negara	: Prancis
Ibukota negara	: Paris
Bentuk negara	: Republik
Kepala negara	: Presiden
Kepala Pemerintahan	: Perdana Menteri
Lagu kebangsaan	: All ons Enfants Dela Patrie
Bahasa Nasional	: Prancis
Agama	: Katolik, Protestan, Islam, Yahudi, dan sebagainya
Mata uang	: Euro dan Franc

## 1. Kenampakan Alam

Prancis mempunyai luas wilayah sekitar 543.965 km<sup>2</sup>. Kenampakan alam Prancis berupa pegunungan dan dataran rendah.

Pegunungan di Prancis, antara lain Pegunungan Pyrenea yang memisahkan wilayah Prancis dengan Spanyol, Pegunungan Alpen yang memisahkan Prancis dengan Italia, Pegunungan Cevennes, Pegunungan Nassif, dan Pegunungan Faucilles.

Di dataran rendah mengalir sungai-sungai, seperti Sungai Loire, Sungai Rhone, Sungai Saone, dan Sungai Saine. Prancis memiliki pantai yang banyak dikunjungi oleh turis, yaitu Pantai Nice dan Pantai Riviesia. Di Perancis terdapat bangunan yang menjadi salah satu keajaiban dunia, yaitu Menara Eiffel.

## 2. Keadaan Sosial dan Ekonomi

Jumlah penduduk Prancis sekitar 63.044.000 jiwa. Kepadatan penduduknya sekitar 115 jiwa/km<sup>2</sup>. Sebagian besar penduduknya beragama Katolik. Penduduknya sebagian besar pendatang dari Italia, Spanyol, dan Algeria.

Hasil pertanian Prancis yang utama yaitu anggur. Bordeaux merupakan salah satu daerah penghasil anggur di Prancis. Hasil pertanian yang lain, yaitu gandum, kentang, bit, dan sayuran. Di Prancis terdapat peternakan sapi, dan biri-biri.

Hasil tambang Prancis meliputi batu bara, bauksit, dan besi. Perindustrian Prancis menghasilkan pesawat terbang, mobil, barang-barang elektronik, kapal laut, plastik, dan serat buatan.

Barang yang diekspor Prancis, yaitu kapal terbang, barang elektronik, mobil, mesin, dan barang kosmetik. Adapun barang-barang impornya, yaitu minyak bumi, gas bumi, tembaga, kopi, teh, dan karet.



Sumber: [technology.belablog.com](http://technology.belablog.com)

**Gambar 3.36** Menara Eiffel merupakan salah satu ciri khas Negara Prancis

### c. Belanda



Sumber: wikipedia.org

Gambar 3.37 Peta Negara Belanda

Nama negara	: Belanda
Ibukota negara	: Amsterdam
Bentuk negara	: Kerajaan
Kepala negara	: Ratu
Kepala Pemerintahan	: Perdana Menteri
Lagu kebangsaan	: Willhemus Van Nassauwe
Bahasa Nasional	: Belanda
Agama	: Protestan, Katolik Roma, Islam, dan sebagainya
Mata uang	: Euro dan Golden

#### 1. Keadaan Alam

Negara Belanda luas wilayahnya sekitar 41.526 km<sup>2</sup>. Keadaan alamnya berupa dataran rendah.

Di bagian barat, daerahnya lebih rendah dari permukaan laut, karena daerah tersebut merupakan wilayah laut yang dikeringkan. Oleh karena itu, di Belanda banyak terdapat bendungan atau dam. Fungsinya untuk menampung air supaya tidak banjir. Di Belanda juga banyak terdapat bangunan kincir angin. Oleh karenanya, negara Belanda dijuluki sebagai negara kincir angin.

Di Belanda terdapat bendungan atau danau besar, yaitu Danau Lissel. Sungai-sungai besar yang mengalir di Belanda, yaitu Sungai Lek, Sungai Waal, dan Sungai Maas.



Sumber: www.ranesi.nl

Gambar 3.38 Kincir angin di Belanda

## 2. Keadaan Sosial dan Ekonomi

Jumlah penduduk Belanda kurang lebih 16.334.379 jiwa. Sebagian besar penduduknya beragama Protestan. Penduduknya sebagian besar bekerja di sektor industri dan perdagangan.

Perindustrian Belanda menghasilkan pesawat terbang, kapal, laut, cat, barang elektronik, tekstil, obat-obatan, pupuk, dan plastik. Adapun hasil tambangnya meliputi minyak tanah dan batu bara.

Pertanian Belanda mengalami kemajuan karena menggunakan teknologi modern. Hasil pertaniannya, antara lain gandum, buah-buahan, kentang, sayuran, dan bunga. Bunga yang terkenal di Belanda, yaitu bunga tulip. Belanda mengekspor barang-barang hasil industri. Adapun barang impornya, yaitu rempah-rempah, karet, teh, tembakau, dan cokelat.

### d. Inggris



Sumber: reservation.passionasia.com

Gambar 3.39 Peta Negara Inggris

Nama negara	: Inggris
Ibukota negara	: London
Bentuk negara	: Kerajaan
Kepala negara	: Ratu
Kepala pemerintahan	: Perdana Menteri
Lagu kebangsaan	: God Save The Queen
Bahasa Nasional	: Inggris
Agama	: Katolik, Protestan, Islam, dan sebagainya
Mata uang	: Poundsterling

## 1. Kenampakan Alam

Inggris disebut juga dengan Britania Raya. Luas wilayahnya sekitar 244.110 km<sup>2</sup>. Negara Inggris terbagi menjadi empat negara bagian. Di antaranya Inggris atau Britania Raya dengan ibukotanya di London, Wales dengan ibukotanya di Cardiff, Scotlandia dengan ibukota di Edinburg, dan Ulster atau Irlandia Utara dengan ibukota di Belfast.

Keadaan alamnya berupa Pegunungan dan dataran rendah. Di negara bagian Inggris atau England terdapat Pegunungan Rennine. Di negara bagian Wales terdapat Pegunungan Cambrian. Di Scotlandia terdapat Pegunungan Grampian. Sementara itu, di Ulster atau Irlandia Utara terdapat Pegunungan Antrim. Sungai yang mengalir di Inggris, antara lain Sungai Thames dan Sungai Severn.

Di kota London terdapat jam terkenal di dunia, yaitu Big Ben. Inggris menjadi patokan perhitungan waktu di seluruh dunia atau disebut dengan waktu Greenwich. Kota Greenwich berada pada garis meridian 0°.



Sumber: commons.wikimedia.org

**Gambar 3.40** Jam Big Ben menjadi patokan perhitungan waktu di seluruh dunia

## 2. Keadaan Sosial dan Ekonomi

Jumlah penduduk Inggris sekitar 60.441.457 jiwa. Sebagian penduduknya beragama Kristen dan Katolik.

Hasil pertanian Inggris, yaitu gandum, jagung, bit, sayur-sayuran, dan buah-buahan. Peternakan di Inggris, antara lain sapi dan biri-biri. Hasil peternakan meliputi susu, daging, dan wol.

Perindustrian Inggris menghasilkan pesawat terbang, kapal laut, mobil, barang elektronik, tekstil, kertas, obat-obatan, dan serat tiruan. Daerah perindustriannya disebut dengan *Black Country*. Hasil tambangnya, yaitu biji besi dan batu bara.

Barang-barang yang diekspor meliputi obat-obatan, mobil, dan mesin. Adapun barang impornya meliputi bahan baku industri, seperti tembaga, biji besi, alumunium, karet, kapas, teh, dan cokelat.

### Tugas

Sebutkan batas-batas wilayah dari:

1. Benua Eropa.
2. Negara Jerman, Prancis, Belanda, dan Inggris.

Tuliskan dalam selembar kertas. Selanjutnya, kumpulkan hasilnya kepada gurumu!

## 1. Benua Australia



Sumber: [www.maps-pasific.com](http://www.maps-pasific.com)

Gambar 3.41 Peta Benua Australia

Nama negara	: Australia
Ibukota negara	: Canberra
Bentuk negara	: Persemakmuran (Dominion)
Kepala negara	: Ratu Inggris
Kepala pemerintahan	: Perdana Menteri
Lagu kebangsaan	: Advance Australia Fair
Bahasa Nasional	: Inggris
Mata uang	: Dolar Australia

Benua Australia merupakan benua terkecil di dunia. Luas wilayahnya sekitar 8.560.000 km<sup>2</sup>. Benua Australia letaknya berada di sebelah tenggara negara Indonesia. Benua Australia ditemukan pada tahun 1606. Ditemukan oleh seorang berkebangsaan Belanda, Willem Janes. Pada tahun 1644 Pulau Tazmania dan New Zealand ditemukan oleh Abel Tasman. Pada tahun 1770 pelaut dari Inggris menemukan pantai timur Australia. Sejak saat itulah bangsa Inggris menduduki Australia.

Australia merupakan negara persemakmuran Inggris. Wilayahnya terbagi menjadi enam bagian dan dua daerah teritorial. Berikut ini nama-nama negara bagian dan daerah teritorial Australia.

**Tabel 3.18** Negara-Negara Bagian Australia

No.	Nama Negara Bagian	Ibukota
1.	Australia Barat	Perth
2.	Australia Selatan	Adelaide
3.	Queensland	Brisbane
4.	New South Wales	Sydney
5.	Victoria	Melbourne
6.	Tasmania	Hobart
7.	Teritorial Australia Barat	Darwin
8.	Teritorial Ibukota Australia	Canberra

### a. Kenampakan Alam

Di bagian barat terdapat Pegunungan Darling, Bukit Robinson, Bukit Hamerley, Bukit Robertson, dan Bukit Throssell. Di bagian barat laut terdapat Plato Kimberly. Di bagian barat daerahnya juga berupa gurun pasir, yaitu Gurun Victoria dan Gurun Gibson.

Di bagian utara terdapat Dataran Arnhem, Dataran Barky, Gurun Tanami, Bukit Gregory, dan Semenanjung York. Di bagian tengah terdapat Pegunungan Macdonnele, Bukit Musgrave, Bukit Grey, dan Gurun Simpson.

Di bagian selatan terdapat Gurun Victoria, Dataran Nullarbar, dan Bukit Flinders. Di bagian timur gunung tersebut membentang dari Semenanjung York hingga Gurun Victoria. Di bagian timur juga terdapat karang penghalang besar.

Di daerah dataran rendah Australia mengalir Sungai Georgina, Sungai Diamantina, dan Sungai Barcoo. Sungai-sungai tersebut bermuara di Danau Eyre.

Di Australia terdapat dua iklim, yaitu iklim tropis dan subtropis. Di bagian utara beriklim tropis dan mempunyai dua musim, yaitu musim penghujan dan musim kemarau. Di bagian selatan beriklim subtropis dan mempunyai empat musim, yaitu musim semi, musim panas, musim gugur, dan musim dingin.

### b. Keadaan Sosial dan Ekonomi

Jumlah penduduk Australia pada tahun 2001 sekitar 18.972.350 jiwa. Kepadatan penduduknya sekitar 2 jiwa/km<sup>2</sup>. Penduduk asli Australia suku Aborigin. Adapun penduduk yang lain merupakan pendatang dari Inggris. Suku Aborigin terkenal dengan senjata tradisionalnya, yaitu Bumerang. Sebagian besar penduduknya beragama Kristen Protestan.

Hasil pertanian Australia meliputi gandum, padi, kapas, dan buah-buahan, seperti anggur, jeruk, dan apel. Peternakan di Australia, yaitu sapi dan biri-biri. Hasil ternaknya, yaitu daging, susu, keju, dan wol. Hewan khas Australia adalah Kanguru.

Hasil tambang Australia, yaitu emas, perak, biji besi, dan batu bara. Pertambangan emas berada di Kargarlie dan Coalgardie, perak di New South Wales, bijih besi di Queensland, batu bara di New Castle dan Sydney.



Sumber: burblechaz.com

**Gambar 3.42** Kanguru merupakan hewan khas Australia

Barang-barang ekspor Australia meliputi wol, keju, susu, dan hasil industri karet. Adapun barang-barang yang diimpor, antara lain teh, gula, kopi, karet, rempah-rempah, dan minyak bumi.

## Tugas

Bukalah atlamu!  
Sebutkan batas-batas wilayah dari Negara Australia.  
Tuliskan dalam selembar kertas. Selanjutnya, serahkan kepada gurumu.

## C. Menggambar Peta Benua dan Dunia



Kamu tentu sudah pernah belajar mengenai peta dan unsur-unsur di dalam peta. Masih ingatkah kamu tentang unsur-unsur dalam peta? Unsur-unsur dalam peta, antara lain judul peta, skala, legenda, indeks, dan arah mata angin. Selanjutnya, bagaimana cara menggambar peta? Perhatikan uraian berikut ini.

Sekarang kamu akan kembali belajar menggambar peta, yaitu peta dunia dan peta benua. Cara menggambar peta dunia dan peta benua sama dengan cara menggambar peta provinsi. Cara yang sederhana, yaitu dengan membuat petak-petak atau garis koordinat.

Berikut ini tahap-tahap menggambar peta dunia dan peta benua. Menggambar dengan cara membuat petak-petak atau garis koordinat.

1. Siapkan buku gambar dan atlas dunia. Persiapkan alat tulis, seperti pensil, penggaris, penghapus, dan pensil warna.
2. Buatlah garis membujur dari atas ke bawah dan garis melintang dari kiri ke kanan. Buatlah ukuran jarak yang sama, misalnya  $2\text{ cm} \times 2\text{ cm}$  atau  $4\text{ cm} \times 4\text{ cm}$ . Lakukan pada peta dunia atau peta benua yang akan kamu gambar. Contohnya sebagai berikut.

	A	B	C	D	E	E
1						
2						
3						



3. Buatlah garis-garis yang sama pada kertas gambarmu.
4. Selanjutnya, mulailah menggambar dengan mengikuti garis alur pada peta.
5. Setelah selesai lengkapilah gambarmu dengan warna serta unsur peta. Di antaranya simbol, arah mata angin, dan simbol-simbol lain seperti yang terdapat di dalam peta. Jangan lupa tuliskan judul peta dan skalanya.

## Tugas

Gambarlah salah satu peta benua yang ada di dunia dengan cara membuat garis petak atau garis koordinat.

Lengkapilah gambarmu dengan warna dan simbol-simbol seperti yang terdapat di dalam peta. Setelah selesai kumpulkan kepada guru untuk dinilai.

## Refleksi

Setiap negara di belahan dunia memiliki kenampakan alam dan sosial yang berbeda. Dapatkah kamu memahaminya? Tanyakan kepada gurumu jika ada materi yang belum kamu pahami.

## Rangkuman

Kenampakan alam daratan dunia, antara lain benua, pegunungan, gunung, pulau, dan gurun. Benua terluas adalah Benua Asia. Adapun yang terkecil adalah Benua Australia. Pegunungan terpanjang di dunia, yaitu Pegunungan Andes. Gunung tertinggi di dunia, yaitu Gunung Everest (8.484 m). Gurun terluas di dunia, yaitu Gurun Sahara.

Kenampakan alam perairan dunia, antara lain samudra, laut, danau, sungai, dan air terjun. Samudra terluas, yaitu Samudra Pasifik. Laut terluas adalah Laut Cina Selatan. Danau terluas adalah Danau Kaspia. Sungai terpanjang, yaitu Sungai Nil. Air terjun tertinggi, yaitu Salto Angel. Adapun air terjun terbesar, yaitu air terjun Guaira.

Kenampakan alam buatan dunia, antara lain Candi Borobudur di Indonesia, Menara Pisa di Italia, Piramida di Mesir, Menara Eiffel di Prancis, Tembok Besar Cina, Patung Liberty di Amerika, dan Taj Mahal di India.

Benua Asia luas wilayahnya sekitar 44.614.000 km<sup>2</sup>. Wilayahnya terbagi menjadi lima, yaitu Asia Tenggara, Asia Timur, Asia Selatan, Asia Barat, dan Asia Tengah.

Benua Amerika luas wilayahnya sekitar 42.050.000 km<sup>2</sup>. Wilayahnya dibagi menjadi Amerika Utara, Amerika Tengah, dan Amerika Selatan. Kenampakan alam Benua Amerika terdapat Pegunungan Andes. Di Benua Amerika mengalir Sungai Amazon, yaitu sungai terpanjang kedua di dunia.

Benua Afrika luas wilayahnya sekitar 30.224.050 km<sup>2</sup>. Wilayahnya terbagi menjadi Afrika Utara, Afrika Tengah, dan Afrika Selatan. Kenampakan alamnya berupa pegunungan, dataran tinggi, dan gurun. Di Afrika terdapat gurun terluas di dunia, yaitu Gurun Sahara.

Benua Eropa luas wilayahnya sekitar 10.600.000 km<sup>2</sup>. Wilayahnya terbagi menjadi Eropa Timur, Eropa Tengah, Eropa Selatan, Eropa Barat, dan Eropa Utara. Di Benua Eropa terdapat Pegunungan Ural yang memisahkan wilayah Benua Eropa dengan Benua Asia.

Benua Australia luas wilayahnya sekitar 8.560.000 km<sup>2</sup>. Wilayahnya negara Australia dibagi menjadi enam negara bagian dan dua daerah teritorial. Negara bagian Australia, yaitu Victoria, Tasmania, Queensland, New South Wales, Australia Barat, dan Australia Selatan. Daerah teritorialnya, yaitu Australia Utara dan ibukota Australia Canberra. Gurun di Australia, yaitu Gurun Sandy, Gurun Gibson, Gurun Victoria, Gurun Tanami, dan Gurun Simpson.

Cara sederhana menggambar peta dunia dan peta benua adalah dengan cara membuat garis petak atau garis koordinat.

## Evaluasi



### Kerjakan di buku latihanmu!

#### A. Pilihlah jawaban yang paling benar.

- Gurun yang terdapat di RRC, yaitu ....
  - Sahara
  - Gobi
  - Sandy
  - Victoria
- Pegunungan yang memisahkan Benua Asia dengan Benua Eropa, yaitu ....
  - Pegunungan Himalaya
  - Pegunungan Andes
  - Pegunungan Alpen
  - Pegunungan Ural
- Gunung yang dianggap suci oleh penduduk Jepang adalah ....
  - Gunung Dai
  - Gunung Kuju
  - Gunung Fuji
  - Gunung Iwate
- Sungai Amazon terdapat di Benua ....
  - Asia
  - Eropa
  - Afrika
  - Amerika
- Penduduk asli Australia adalah suku ....
  - Aborigin
  - Dravida
  - Ainu
  - Punjab
- Pegunungan terpanjang di dunia adalah Pegunungan ....
  - Himalaya
  - Andes
  - Rocky
  - Alpen
- Berikut ini negara bagian Australia, yaitu ....
  - Australia Timur
  - Aboritin
  - Australia Barat
  - Queensland

8. Negara penghasil kopi terbesar di dunia adalah ....
  - a. Argentina
  - b. Brazil
  - c. Pakistan
  - d. Afrika Selatan
9. Bangunan yang terkenal di Inggris adalah ....
  - a. Menara Eiffel
  - b. Patung Liberty
  - c. Menara Pisa
  - d. Jam Big Ben
10. Berikut ini negara yang termasuk ke dalam wilayah Eropa Selatan, yaitu ....
  - a. Prancis
  - b. Spanyol
  - c. Swedia
  - d. Finlandia
11. Benua terbesar di dunia adalah ....
  - a. Benua Asia
  - b. Benua Amerika
  - c. Benua Eropa
  - d. Benua Australia
12. Terusan Suez terdapat di negara ....
  - a. Arab Saudi
  - b. Mesir
  - c. Aljazair
  - d. Afganistan
13. Sungai yang dianggap suci oleh umat Hindu di India adalah Sungai ....
  - a. Pegunungan Himalaya
  - b. Pegunungan Andes
  - c. Pegunungan Alpen
  - d. Pegunungan Ural
14. Negara pengekspor minyak bumi terbesar dunia adalah ....
  - a. Pakistan
  - b. Indonesia
  - c. Arab Saudi
  - d. Amerika Serikat
15. Pegunungan yang memisahkan negara Prancis dengan Italia adalah ....
  - a. Pegunungan Andes
  - b. Pegunungan Cevennes
  - c. Pegunungan Pyrenea
  - d. Pegunungan Alpen

**B. Isilah titik-titik dengan jawaban paling benar.**

1. Sungai terpanjang di dunia adalah ....
2. Gunung tertinggi di dunia adalah ....
3. Sungai Indus (Sindu) terdapat di negara ....
4. Mata air yang terdapat di padang pasir disebut ....
5. Pulau terbesar di dunia adalah ....
6. Penduduk asli Amerika Serikat adalah ....
7. Bendungan yang terdapat di Mesir, yaitu ....
8. Hasil pertanian Prancis yang utama adalah ....
9. Negara yang dijuluki sebagai negara kincir angin adalah ....
10. Kota di Inggris yang dilalui garis Meridian 0° adalah ....

**c. Jawablah pertanyaan-pertanyaan berikut ini dengan benar.**

1. Sebutkan lima kenampakan buatan dunia dan letak negaranya.
2. Sebutkan negara bagian dan daerah teritorial Australia beserta ibukotanya.
3. Sebutkan lima benua di dunia mulai dari yang terbesar sampai yang terkecil.
4. Jelaskan dengan singkat kenampakan alam Benua Afrika.
5. Jelaskan dengan singkat kenampakan alam Benua Amerika.



## EVALUASI SEMESTER 1



**Kerjakan di buku latihanmu!**

**A. Pilihlah jawaban yang paling benar.**

1. Berikut ini provinsi di Indonesia yang dibentuk pertama kali, yaitu ....
  - a. Sulawesi
  - b. Timor Timur
  - c. Jakarta
  - d. DI. Yogyakarta
2. Provinsi yang berbatasan langsung dengan Malaysia adalah ....
  - a. Kalimantan Tengah
  - b. Kalimantan Timur
  - c. Kalimantan Selatan
  - d. Bangka Belitung
3. Kepulauan Bangka Belitung merupakan pemekaran dari provinsi ....
  - a. Sumatra Barat
  - b. Riau
  - c. Sumatra Utara
  - d. Sumatra Selatan
4. Sulawesi Barat merupakan pemekaran dari provinsi ....
  - a. Sulawesi Selatan
  - b. Sulawesi Tengah
  - c. Sulawesi Tenggara
  - d. Sulawesi Utara
5. Provinsi yang berbatasan langsung dengan Papua Nugini adalah ....
  - a. Papua Barat
  - b. Nusa Tenggara Timur
  - c. Papua
  - d. Maluku
6. Banjarmasin adalah ibukota Provinsi ....
  - a. Kalimantan Barat
  - b. Kalimantan Tengah
  - c. Kalimantan Selatan
  - d. Kalimantan Timur
7. Wilayah laut teritorial Indonesia sejauh ... diukur dari pantai terluar.
  - a. 200 km
  - b. 200 mil
  - c. 12 km
  - d. 12 mil
8. Batas Zona Ekonomi Eksklusif Indonesia, yaitu ....
  - a. 200 mil
  - b. 200 km
  - c. 12 mil
  - d. 12 km
9. Ibukota Provinsi Sulawesi Selatan adalah ....
  - a. Mamuju
  - b. Makassar
  - c. Palu
  - d. Manado
10. Gubernur pertama Provinsi Sumatra adalah ....
  - a. Ir. Pangeran Moh. Noor
  - b. R. Pandji Soeroso
  - c. R.A. Soerjo
  - d. Mr. Teuku Moh. Hasan
11. Berikut ini pegunungan yang terdapat di Pulau Kalimantan, yaitu ....
  - a. Himalaya
  - b. Andes
  - c. Meratus
  - d. Merapi

12. Puncak tertinggi di Indonesia, yaitu ....
  - a. Puncak Jaya
  - b. Puncak Trikora
  - c. Puncak Yamin
  - d. Puncak Mandala
13. Negara yang menjadi lumbung beras Asia Tenggara adalah ....
  - a. Indonesia
  - b. Vietnam
  - c. Kamboja
  - d. Thailand
14. Negrito merupakan penduduk asli negara ....
  - a. Thailand
  - b. Filipina
  - c. Kamboja
  - d. Myanmar
15. Berikut ini negara yang tidak dialiri Sungai Mekhong, yaitu ....
  - a. Vietnam
  - b. Laos
  - c. Kamboja
  - d. Myanmar
16. Negara di Asia Tenggara yang wilayahnya berupa kepulauan, yaitu ....
  - a. Laos
  - b. Indonesia
  - c. Arab Saudi
  - d. Pakistan
17. Gunung tertinggi di Filipina, yaitu ....
  - a. Gunung Apo
  - b. Gunung Busa
  - c. Gunung Victoria
  - d. Gunung Cleopatra
18. Hasil pertanian Myanmar yang utama adalah ....
  - a. kelapa
  - b. padi
  - c. jagung
  - d. buah-buahan
19. Pegunungan yang terdapat di Malaysia, yaitu ....
  - a. Pegunungan Annam
  - b. Pegunungan Cardamomes
  - c. Pegunungan Hose
  - d. Pegunungan Tenasserim
20. Negara bagian yang berada di Malaysia Barat, yaitu ....
  - a. Pahang
  - b. Johor
  - c. Serawak
  - d. Tazmania
21. Sungai terpanjang di dunia adalah ....
  - a. Sungai Gangga
  - b. Sungai Amazon
  - c. Sungai Missisipi
  - d. Sungai Nil
22. Berikut ini negara yang dialiri Sungai Nil, yaitu ....
  - a. Mesir
  - b. Capetown
  - c. Afrika Selatan
  - d. Madagaskar
23. Gurun Sahara berada di Benua ....
  - a. Asia
  - b. Amerika
  - c. Afrika
  - d. Eropa
24. Puncak tertinggi Pegunungan Himalaya adalah ....
  - a. Gunung Everest
  - b. Gunung Kanchenjunga
  - c. Gunung Aconcagua
  - d. Gunung Whitney

25. Berikut ini kenampakan buatan di Mesir, yaitu ....
  - a. Laut Merah
  - b. Bendungan Aswan
  - c. Terusan Suez
  - d. Gurun Sahara
26. Negara yang dijuluki sebagai negara kincir angin, yaitu ....
  - a. Jerman
  - b. Belanda
  - c. Belgia
  - d. Italia
27. Berikut ini negara bagian Inggris, yaitu ....
  - a. Tazmania
  - b. Hobart
  - c. Wales
  - d. Victoria
28. Gunung Fuji di Jepang berada di Pulau ....
  - a. Hokkaido
  - b. Honsu
  - c. Shikoku
  - d. Kyusu
29. Berikut ini negara yang berada dalam satu benua, yaitu ....
  - a. Amerika Serikat
  - b. Indonesia
  - c. Australia
  - d. Arab Saudi
30. Berikut ini pegunungan di Amerika Utara, yaitu ....
  - a. Pegunungan Rocky
  - b. Pegunungan Andes
  - c. Pegunungan Himalaya
  - d. Pegunungan Alpen

## B. Isilah titik-titik dengan jawaban yang paling benar.

1. Ambon merupakan ibukota provinsi ....
2. Provinsi Indonesia yang memisahkan diri dan menjadi negara baru, yaitu ...
3. Gorontalo merupakan pemekaran dari provinsi ....
4. Gubernur dicalonkan oleh ...
5. Kepala daerah provinsi adalah ....
6. Negara di Asia Tenggara yang menjadi penghasil timah terbesar di dunia, yaitu ....
7. Sungai terkenal di Thailand, yaitu ....
8. Hasil tambang Brunei Darussalam adalah ...
9. Satu-satunya negara di Asia Tenggara yang tidak mempunyai laut adalah ....
10. Satu-satunya negara di Asia Tenggara yang tidak pernah dijajah, yaitu ....
11. Pegunungan terpanjang di dunia adalah ....
12. Gurun terluas di dunia adalah ....
13. Kota di Inggris yang dilalui garis Meridian  $0^{\circ}$ , yaitu ....
14. Negara di Asia pengeksport minyak bumi terbesar di dunia adalah ....
15. Pegunungan yang memisahkan Benua Asia dengan Benua Eropa adalah ....

**C. Jawablah pertanyaan-pertanyaan berikut ini dengan benar.**

1. Sebutkan delapan provinsi pertama di Indonesia beserta gubernurnya.
2. Sebutkan 10 negara di Asia Tenggara.
3. Jelaskan dengan singkat kenampakan sosial negara Brunei Darussalam.
4. Sebutkan negara bagian di Inggris beserta ibukotanya.
5. Jelaskan dengan singkat kenampakan alam Benua Amerika Selatan.





# **SEMESTER 2**

  
**GEJALA ALAM DI INDONESIA  
DAN NEGARA TETANGGA**

  
**PERANAN INDONESIA PADA  
GLOBALISASI**

  
**KEGIATAN EKSPOR DAN IMPOR**





## GEJALA ALAM DI INDONESIA DAN NEGARA TETANGGA

### Kata Kunci

◆ bencana alam ◆ gejala alam

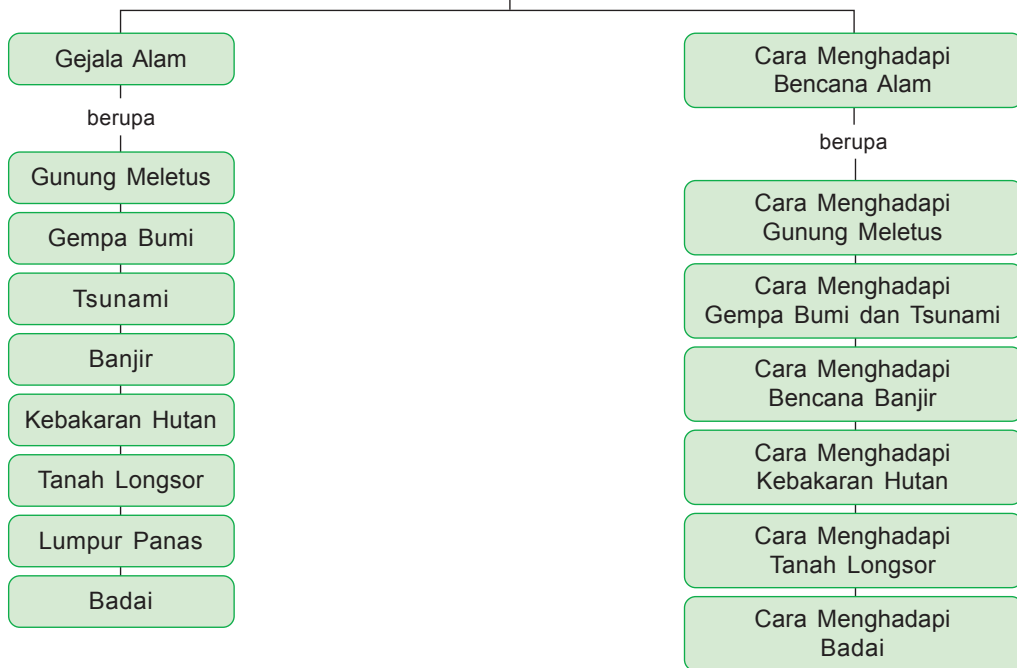


Sumber: [www.3mfuture](http://www.3mfuture)

Bencana alam yang terjadi pasti akan membawa malapetaka. Bencana alam berupa tsunami terjadi di Thailand. Kita dapat mencegah datangnya beberapa bencana. Namun, ada bencana yang tak dapat diduga. Mari mempelajarinya.

**GEJALA ALAM DI INDONESIA  
DAN NEGARA TETANGGA**

membahas



Pada bab sebelumnya kamu telah mempelajari kenampakan alam Indonesia dan negara-negara lain di dunia. Bab ini akan membahas gejala alam di Indonesia dan negara tetangga?

## A. Gejala Alam di Indonesia dan Negara Tetangga



Apa yang dimaksud dengan gejala alam? Gejala alam adalah peristiwa yang terjadi karena keadaan permukaan bumi. Beberapa gejala alam yang terjadi dapat menyebabkan bencana alam.

Di Indonesia dan negara-negara di dunia sering terjadi gejala alam. Gejala alam berhubungan erat dengan kenampakan alam yang ada di negara tersebut.

Negara Indonesia berada di Benua Asia. Tepatnya di wilayah Asia Tenggara. Kenampakan alam Asia Tenggara sebagian besar berupa daerah pegunungan. Sebagian besar gunung di Indonesia merupakan gunung berapi yang aktif. Di Asia Tenggara mengalir sungai-sungai besar, seperti Sungai Kapuas dan Sungai Bengawan Solo di Indonesia, Sungai Mekhong di Vietnam, Laos, dan Kamboja, Sungai Chao Phraya di Thailand, Sungai Irawady di Myanmar, dan lain-lain.

Gejala alam yang sering terjadi di Indonesia dan negara-negara tetangga, yaitu gunung meletus, banjir, dan tanah longsor. Negara-negara di Semenanjung Malaka, seperti Malaysia, Thailand, dan Pulau Sumatra (Indonesia) merupakan daerah lintasan gempa. Oleh karenanya, sering terjadi gempa bumi yang memungkinkan terjadinya tsunami. Berikut ini penjelasan mengenai gejala-gejala alam di Indonesia dan negara-negara tetangga.

### 1. Gunung Meletus

Di wilayah Asia Tenggara, terutama di Indonesia banyak sekali terdapat gunung aktif. Gunung aktif berarti masih mengeluarkan lahar. Oleh karena itu, Indonesia sangat rawan akan gejala alam gunung meletus. Ciri-ciri gunung berapi yang masih aktif salah satunya, yaitu kawahnya mengeluarkan asap. Kegiatan gunung api dapat menyebabkan gempa vulkanik. Letusan gunung api terjadi karena kegiatan magma yang meningkat. Dengan aktivitas tersebut menyebabkan tekanan terhadap batuan di sekitar kantong magma.

Gunung Merapi merupakan gunung api paling aktif di Indonesia. Selain itu, ada Gunung Semeru, Gunung Papandayan, Gunung Kerinci, Gunung Marapi, Gunung Ibu, dan Gunung Gamsunora.

Gunung Merapi terakhir meletus pada tahun 2006. Letusannya mengakibatkan rusaknya daerah wisata Kaliadem dan dua orang meninggal.



Sumber: antara.com

**Gambar 4.1** Gunung Merapi merupakan gunung api paling aktif di Indonesia

Letusan Gunung Merapi berbeda dengan letusan gunung api yang lain. Lava pijar dan material yang dikeluarkan Gunung Merapi tidak menyembur ke atas. Namun, mengalir ke lereng-lereng gunung disertai dengan awan panas. Awan panas atau *wedhus gembel* dapat menghancurkan daerah yang dilaluinya.

Di setiap gunung berapi dipasang suatu alat pemantau. Fungsinya untuk memantau aktivitas gunung tersebut. Gunung berapi aktif juga dipantau oleh petugas dari gardu pemantauan. Dengan demikian, aktivitas dan tanda-tanda gunung akan meletus dapat diketahui lebih awal.

Negara tetangga Indonesia di wilayah Asia Tenggara yang juga rawan terhadap gejala alam gunung meletus, yaitu Filipina. Hal ini karena Filipina juga banyak terdapat gunung api yang masih aktif. Negara di Asia Tenggara yang tidak pernah terjadi bencana gunung meletus, yaitu Brunei Darussalam dan Singapura. Hal ini disebabkan pada wilayah tersebut tidak terdapat gunung berapi. Keadaan alamnya hanya berupa perbukitan.

## Tugas

Carilah informasi mengenai bencana gunung meletus yang pernah terjadi di Indonesia melalui surat kabar atau sumber lain. Selanjutnya, buatlah sebuah karangan yang menceritakan nama gunung yang meletus, letak gunungnya, dan kerugian yang diakibatkan gunung! Hasilnya bacakan di depan kelas!

## 2. Gempa Bumi

Gempa bumi adalah getaran pada permukaan bumi yang disebabkan adanya gerakan dari dalam bumi. Negara-negara di wilayah Asia Tenggara, seperti Indonesia, Thailand, Malaysia, Myanmar, dan Filipina rawan akan gempa bumi. Hal ini karena negara-negara tersebut merupakan daerah perlintasan gempa.

Gempa bumi ada dua jenis, yaitu gempa tektonik dan gempa vulkanik. Gempa bumi tektonik adalah gempa yang diakibatkan adanya pergeseran lempengan bumi. Adapun gempa vulkanik adalah gempa yang diakibatkan karena aktivitas gunung berapi. Gempa vulkanik merupakan salah satu tanda dari gunung yang akan meletus. Pergerakan magma dalam perut bumi dapat menimbulkan gempa bumi.

Titik pusat terjadinya gempa disebut *episentrum*. Adapun alat yang digunakan untuk mengetahui dan mencatat kekuatan gempa disebut *seismograf*. Kekuatan gempa diukur dengan satuan skala *richter*. Gempa berkekuatan 1–5 skala richter biasanya tidak menyebabkan kerusakan yang parah. Adapun gempa bumi dengan kekuatan lebih dari 5 skala richter mengakibatkan kerusakan yang parah. Bahkan dapat menimbulkan korban jiwa.

Salah satu contoh peristiwa gempa bumi di Indonesia, yaitu gempa tektonik di Yogyakarta. Gempa tersebut berkekuatan 5,9 skala richter.



Sumber: [www.careindonesia.or.id](http://www.careindonesia.or.id)

**Gambar 4.2** Gempa tektonik yang terjadi di Yogyakarta menghancurkan bangunan dan ribuan rumah penduduk

Bencana alam ini terjadi pada tanggal 27 Mei 2006. Gempa tersebut mengakibatkan rumah penduduk Yogyakarta hancur dan rata dengan tanah. Selain itu, ribuan penduduk meninggal akibat tertimpa reruntuhan bangunan.

Sepanjang tahun 2006 beberapa daerah di Indonesia diguncang gempa bumi. Berikut ini tabel peristiwa gempa bumi yang terjadi di Indonesia sepanjang tahun 2006.

**Tabel 4.1** Peristiwa Gempa Bumi di Indonesia pada Tahun 2006

No.	Tanggal Peristiwa	Kekuatan Gempa	Daerah
1.	1 Januari 2006	5,8 SR	Nanggroe Aceh Darussalam
2.	4 Februari 2006	5,1 SR	Palu, Poso, dan Donggala
3.	6 Maret 2006	5,1 SR	Bengkulu
4.	27 Mei 2006	5,9 SR	Yogyakarta dan sekitarnya
5.	30 Mei 2006	5,39 SR	Wamena, Jaya Wijaya, dan Papua
6.	6 Juni 2006	5,5 SR	Manado
7.	19 Juni 2006	4,1 SR	Bandar Lampung
8.	17 Juli 2006	6,8 SR	Pantai Selatan Jawa
9.	19 Juli 2006	6,2 SR	Banten dan Pantai Jawa Barat
10.	23 Juli 2006	6,6 SR	Luwuk, Gorontalo, dan Mobago
11.	23 Juli 2006	3,6 SR	Singaraja, Kabupaten Buleleng

Sumber: [www.organisasi.or.id](http://www.organisasi.or.id)

## Tugas

Carilah berita di surat kabar mengenai gempa bumi yang terjadi di Indonesia! Tulislah daerah yang terjadi gempa, tanggal terjadinya, kekuatan gempa, dan kerugian yang diakibatkan gempa tersebut! Bacakan hasilnya di depan kelas.

## Kilas Sosial

Pada tanggal 26 Desember 2004, terjadi gempa bumi dahsyat di Samudra Hindia, lepas pantai barat Aceh. Gempa terjadi pada waktu 7:58:53 WIB. Pusat gempa terletak pada bujur 3,298° LU dan 95,779° BT kurang lebih 160 km sebelah barat Aceh sedalam 10 kilometer. Gempa ini berkekuatan 9,3 skala Richter dan menimbulkan tsunami. Gempa bumi ini terdahsyat dalam kurun waktu 40 tahun terakhir yang menghantam Asia Tenggara dan Asia Selatan. Dampak gempa ini dirasakan tidak hanya di Indonesia saja, namun juga berdampak pada negara-negara yang lain. Di Sri Lanka sebanyak 45.000 korban jiwa jatuh dan lebih dari 1 juta jiwa penduduk negara ini terkena dampak gempa secara langsung. Di India, termasuk Kepulauan Andaman dan Nicobar diperkirakan menelan lebih dari 12.000 korban jiwa. Di Bangladesh ada 2 korban jiwa. Di Thailand banyak pula wisatawan asing terkena bencana, terutama di daerah Phuket di mana diperkirakan ada sekitar 4.500 korban jiwa. Di Maladewa dilaporkan ada 53 korban jiwa. Malaysia melaporkan 66 korban jiwa. Bahkan di Somalia, di benua Afrika ribuan kilometer dari Indonesia, dilaporkan jatuh lebih dari 100 korban jiwa. Sebagian besar atau mungkin hampir semua dari mereka adalah para nelayan.

Sumber: wikipedia



### 3. Tsunami

Tsunami berarti gelombang atau ombak besar. Tsunami disebabkan karena gempa bumi di dasar laut. Pergeseran lempengan bumi di dasar laut menyebabkan terjadinya gelombang besar di permukaan laut. Selain disebabkan oleh gempa bumi, tsunami juga disebabkan letusan gunung berapi. Contohnya pada tahun 1883 di Indonesia terjadi gelombang tsunami setinggi 42 meter. Gelombang tsunami tersebut disebabkan oleh letusan Gunung Krakatau. Gunung Krakatau terletak di Selat Sunda.

Peristiwa tsunami yang disebabkan oleh gempa bumi contohnya adalah gelombang tsunami yang melanda Provinsi Nanggroe Aceh Darussalam pada tanggal 26 Desember 2004. Akibatnya, ribuan bangunan dan rumah penduduk di Nanggroe Aceh Darussalam hancur. Ratusan ribu penduduk Aceh meninggal dan banyak yang hilang akibat terseret gelombang tsunami.

Gelombang tsunami di Aceh diakibatkan oleh gempa bumi yang berpusat di Samudra Hindia. Peristiwa ini tidak hanya terjadi di Aceh, tetapi juga di Thailand, Sri Lanka, dan India.

Selain Aceh, wilayah Indonesia yang pernah dilanda tsunami adalah Pulau Nias pada tanggal 28 Maret 2005, serta di Cilacap.



Sumber: [www.ghanaweb.biz](http://www.ghanaweb.biz)

**Gambar 4.3** Gelombang tsunami meluluhlantahkan Nanggroe Aceh Darussalam



Sumber: [www.suarapembaruan.com](http://www.suarapembaruan.com)

**Gambar 4.4** Bangunan rumah di sekitar Pantai Pangandaran, Cilacap hancur akibat gelombang tsunami

#### Tugas

Carilah berita di surat kabar mengenai bencana tsunami yang terjadi di Indonesia! Berdasarkan berita tersebut buatlah sebuah karangan yang berisi tentang tanggal terjadinya tsunami, daerah yang dilanda tsunami, dan kerugian akibat tsunami!

## 4. Banjir

Salah satu kenampakan alam di Asia Tenggara, yaitu aliran sungai-sungai besar. Di antaranya Sungai Mekhong di Vietnam, Laos, dan Kamboja, Sungai Chao Phraya di Thailand, Sungai Kapuas, Sungai Musi, Sungai Ciliwung, dan Sungai Bengawan Solo di Indonesia. Oleh karena itu, negara-negara tersebut rawan akan bencana banjir. Sungai Mekhong merupakan salah satu sungai yang sering meluap. Meluapnya air sungai itu menyebabkan banjir di Vietnam.

Setiap musim penghujan, beberapa daerah di Indonesia pasti dilanda banjir. Salah satu daerah yang sering dilanda banjir adalah Provinsi DKI Jakarta.

Banjir menimbulkan kerugian bagi masyarakat yang menjadi korban. Kerugian akibat banjir, antara lain harta benda hanyut terseret arus banjir, persediaan air bersih berkurang, timbul penyakit kulit akibat air yang kotor, jalanan macet akibat terendam banjir. Setelah air surut, lingkungan akan menjadi kotor. Oleh karena banjir membawa sampah. Akibatnya, wabah penyakit seperti demam berdarah dan diare mudah menyerang warga.

Banjir bisa disebabkan karena faktor alam, bisa juga disebabkan oleh perilaku manusia. Faktor alam yang menyebabkan banjir, yaitu curah hujan yang sangat tinggi. Hal itu menyebabkan sungai tidak mampu menampung air hujan. Akibatnya, air sungai meluap dan terjadi banjir.

Banjir yang terjadi di Indonesia sebagian besar disebabkan oleh perilaku manusia. Perilaku manusia yang dapat menyebabkan banjir, yaitu membuang sampah di sungai. Selain itu, menebang hutan secara liar menyebabkan hilangnya serapan air.



Sumber: [images.google.co.id](https://images.google.co.id)

**Gambar 4.5** Jalan raya di Jakarta lumpuh akibat terendam banjir



Sumber: [www.opinimasyarakat.com](http://www.opinimasyarakat.com)

**Gambar 4.6** Membuang sampah di sungai dapat menyebabkan banjir

### Tugas

Bentuklah kelompok yang beranggotakan 3–5 orang! Bersama kelompokmu diskusikan mengenai hal-hal berikut ini!

1. Mengapa membuang sampah dan menebang hutan dapat menyebabkan banjir!
  2. Bagaimana upaya kalian untuk mencegah terjadinya banjir?
- Setelah selesai, bacakan hasil diskusi kalian di depan kelas!

## 5. Kebakaran Hutan

Setiap musim kemarau, hutan di Indonesia sering terbakar. Kebakaran hutan sering terjadi di Pulau Kalimantan dan Sumatra. Kebakaran hutan bisa disebabkan oleh faktor alam dan bisa juga karena perilaku manusia.

Faktor alam yang menyebabkan kebakaran hutan adalah cuaca yang panas. Pada saat musim kemarau cuaca sangat panas. Dengan demikian, daun-daun yang kering mudah terbakar.

Perilaku manusia yang menyebabkan kebakaran hutan, di antaranya sengaja membakar hutan untuk membuka lahan pertanian. Akibat dari asap yang ditimbulkan oleh kebakaran hutan, antara lain

- a. menimbulkan penyakit saluran pernafasan,
- b. mengganggu arus lalu lintas dan aktivitas penerbangan, dan
- c. asap dapat mengganggu penduduk sekitar.



Sumber: [www.rapidcityjournal.com](http://www.rapidcityjournal.com)

Gambar 4.7 Kebakaran Hutan

### Kilas Sosial

Bencana-bencana besar, seperti banjir, tanah longsor, kebakaran hutan, dan kekeringan banyak disebabkan oleh salah kelola lingkungan hidup.

## 6. Tanah Longsor

Daerah yang rawan terjadi tanah longsor adalah daerah pegunungan. Tanah longsor sering terjadi pada saat musim hujan. Hujan yang lebat dapat menyebabkan kekuatan tanah di lereng pegunungan lemah. Dengan demikian, sering terjadi longsor.

Tanah longsor bisa juga disebabkan karena gempa bumi. Kekuatan gempa yang cukup besar dapat menyebabkan tanah di lereng pegunungan longsor.

Selain disebabkan oleh faktor alam, terjadinya tanah longsor juga disebabkan karena perilaku manusia menebang pohon di lereng pegunungan secara liar. Oleh karena hutan di lereng pegunungan gundul, maka kekuatan tanahnya menjadi lemah. Pada saat hujan lebat dapat terjadi longsor. Penambangan pasir dan batu di lereng pegunungan secara berlebihan dapat menyebabkan longsor.



Sumber: [www.batakpos.com](http://www.batakpos.com)

Gambar 4.8 Bencana tanah longsor

## Tugas

Carilah berita di surat kabar mengenai bencana tanah longsor yang terjadi di Indonesia! Tulislah daerah terjadinya bencana, kerugian dan jumlah korban, serta penyebab terjadinya tanah longsor! Bacakan hasilnya di depan kelas.

### 7. Lumpur Panas

Gejala alam semburan lumpur panas terjadi di daerah Porong, Sidoarjo, Jawa Timur. Semburan lumpur panas tersebut merupakan akibat dari pengeboran eksplorasi.

Akibat dari semburan lumpur panas tersebut beberapa desa di sekitar pusat semburan terendam lumpur panas, sehingga penduduknya terpaksa mengungsi. Lumpur panas merendam lahan pertanian penduduk dan jalan tol Porong. Akibatnya, arus lalu lintas dari Pasuruan ke Surabaya atau sebaliknya terputus. Luapan lumpur panas bahkan menimbulkan korban jiwa dari petugas pengendali luapan lumpur.



Sumber: [hotmudflow.files.wordpress.com](http://hotmudflow.files.wordpress.com)

**Gambar 4.9** Lumpur panas merendam permukiman penduduk Porong, Sidoarjo, Jawa Timur

### 8. Badai

Gejala alam badai dikenal juga dengan angin topan. Badai bisa terjadi di daratan maupun di lautan. Badai yang terjadi di laut sangat berbahaya bagi para nelayan dan kapal laut.

Angin topan yang terjadi di daratan mengakibatkan rumah dan bangunan roboh. Pohon-pohon roboh menimpa rumah dan menghalangi jalan.

Salah satu contoh peristiwa angin topan yang terjadi di Indonesia, yaitu angin topan yang melanda desa Kandangan, Purwodadi, Kabupaten Grobogan, Jawa Tengah pada tanggal 21 November 2004. Akibatnya, banyak rumah penduduk dan pohon yang roboh karena tersapu oleh angin.

### Kilas Sosial

Pada tahun 2006, badai Monika kategori lima menerjang kota pelabuhan Darwin, Australia. Kekuatan maksimumnya 350 kilometer per jam. Sebelumnya, dengan kekuatan yang lebih hebat terjangan angin ribut tersebut merusak jaringan listrik dan menghancurkan sejumlah rumah penduduk Aborigin di Maningrida, Australia Utara. Pengamat cuaca mengingatkan badai Monika akan bergerak menuju Kimberley, Australia Utara dengan kekuatan yang semakin besar. Badai monika akan bergerak dari selatan menuju kawasan terpencil Sungai Adelaide dan menjauh dari Darwin. Badai Monika menerjang setelah badai Larry menerjang sebulan silam dengan kecepatan 100 kilometer per jam di selatan Cairn.

Sumber: [konservasipapua.blogspot.com](http://konservasipapua.blogspot.com)

## Tugas

Carilah berita di surat kabar mengenai bencana alam yang terjadi di Indonesia? Selanjutnya, buatlah menjadi sebuah klipng! Tuliskan juga di klipngmu mengenai cara-cara menghadapi bencana alam tersebut!

## B. Cara Menghadapi Bencana Alam



Terjadinya bencana alam berhubungan erat dengan kenampakan alam. Bencana alam terjadi karena kekuatan alam. Seringkali bencana alam tidak bisa diprediksi manusia. Artinya, bencana alam bisa terjadi setiap saat dan manusia tidak bisa mencegahnya. Manusia hanya bisa mengantisipasi bencana alam tersebut. Selain itu, harus tahu bagaimana menghadapi bencana alam. Berikut ini cara menghadapi beberapa bencana alam yang terjadi di sekitar kita.

### 1. Cara Menghadapi Gunung Meletus

Di setiap gunung berapi terdapat pos pemantauan. Petugas pemantauan akan selalu memantau aktivitas gunung berapi. Petugas akan menyampaikan perkembangan aktivitas gunung kepada masyarakat. Caranya dengan menetapkan status gunung dalam kondisi waspada, siaga, dan bahaya. Apabila gunung dalam status *siaga* biasanya petugas akan memerintahkan masyarakat sekitar untuk waspada. Saat gunung sudah berada dalam status *bahaya*, petugas akan segera mengevakuasi masyarakat ke tempat yang lebih aman. Demi keselamatan sebaiknya kita mematuhi perintah petugas.

Gunung yang akan meletus biasanya memberikan tanda-tanda. Oleh karena itu, kita harus mengetahui tanda-tanda alam bahwa gunung akan meletus. Tanda-tanda gunung akan meletus, antara lain binatang yang hidup di sekitar puncak akan turun ke daerah yang lebih rendah, sumber mata air mulai mengering, dan udara di sekitar gunung terasa panas. Semuanya itu disebabkan karena meningkatnya suhu udara di dalam gunung.

Apabila terjadi tanda-tanda alam seperti di atas kita harus waspada. Demi keselamatan, sebaiknya segera mengungsi ke daerah yang aman.

### 2. Cara Menghadapi Gempa Bumi dan Tsunami

Gempa bumi merupakan bencana alam yang tidak bisa diperkirakan waktu terjadinya. Kita hanya bisa berusaha menyelamatkan diri saat terjadi gempa bumi. Beberapa hal yang dapat kita lakukan agar selamat dari gempa bumi adalah sebagai berikut.

- a. Saat terjadi gempa, jangan panik. Apabila berada di dalam rumah jangan terburu-buru untuk keluar rumah. Berlindunglah di bawah meja yang kuat. Setelah gempa mulai reda, segeralah keluar dari rumah. Carilah tempat yang terbuka seperti lapangan. Hal itu untuk mengantisipasi gempa susulan.

- b. Apabila sedang naik kendaraan kurangi kecepatan dan berhentilah di tempat terbuka. Segeralah keluar dari mobil. Jangan berhenti di atas jembatan, di sekitar pom bensin, dan di dekat papan reklame. Kemungkinan besar bangunan tersebut akan roboh.
- c. Apabila berada di luar rumah, segeralah berlari menuju tempat terbuka. Jangan berdiri di dekat papan reklame, tiang listrik, dan bangunan-bangunan yang tinggi.

Gempa yang titik pusatnya di tengah laut dapat menyebabkan gelombang tsunami. Salah satu tanda terjadinya gelombang tsunami, yaitu setelah gempa, air laut akan surut. Apabila kamu melihat peristiwa itu setelah gempa segera tinggalkan daerah pantai. Oleh karena kemungkinan besar akan terjadi tsunami. Pergilah menuju ke tempat yang lebih tinggi. Sebagai contoh daerah perbukitan.

Untuk mengantisipasi bencana tsunami, pemerintah mengadakan simulasi atau latihan menghadapi tsunami. Pemerintah juga memasang peralatan khusus untuk mendeteksi tsunami.

### 3. Cara Menghadapi Banjir

Setiap musim penghujan, banjir melanda beberapa wilayah di Indonesia. Banjir disebabkan oleh air sungai yang meluap. Banjir yang terjadi di Indonesia disebabkan oleh penebangan pohon secara liar. Di samping itu, karena perilaku membuang sampah sembarangan.

Membuang sampah di sungai dapat menyebabkan banjir. Oleh karena tumpukan sampah akan menghambat aliran sungai. Akibatnya, saat hujan air di sungai tidak dapat mengalir dengan lancar. Air sungai akhirnya meluap dan terjadi banjir.

Hutan berfungsi sebagai daerah resapan air. Apabila pohon-pohon ditebang secara liar, hutan akan menjadi gundul. Dengan demikian, hutan tidak bisa berfungsi sebagai daerah resapan air. Akibatnya, saat musim penghujan air langsung mengalir ke daerah yang lebih rendah. Oleh karenanya terjadilah banjir.

Jadi, bencana banjir sebenarnya bisa dicegah dan ditanggulangi. Beberapa cara yang dapat kita lakukan untuk menanggulangi banjir, yaitu

- a. Tidak membuang sampah di sungai.
- b. Tidak menebang pohon di hutan secara liar.
- c. Melakukan reboisasi atau penanaman kembali.
- d. Membuat daerah-daerah serapan air.
- e. Membuat dam atau banjir kanal.
- f. Saat musim kemarau dilakukan pengerukan sungai. Dengan demikian, saat musim penghujan sungai dapat menampung air lebih banyak.

Apabila daerah tempat tinggal kita dilanda banjir, hal-hal yang dapat kita lakukan adalah

- a. Carilah tempat yang lebih tinggi, misalnya loteng rumah. Pindahlah ke lantai paling atas jika rumah bertingkat.
- b. Pindahkan surat dan barang-barang berharga ke tempat yang aman.
- c. Apabila ketinggian air belum begitu tinggi mengungsilah ke tempat yang lebih aman.
- d. Apabila terjebak di air yang dalam, carilah pegangan supaya tidak tenggelam.
- e. Apabila bisa berenang, segeralah berenang menuju ke tempat yang lebih aman.

#### 4. Cara Menghadapi Kebakaran Hutan

Indonesia memiliki wilayah hutan yang luas. Sayangnya, pengelolaan hutan belum dilakukan dengan baik. Seringkali, orang sengaja membakar hutan untuk membuka lahan. Kebakaran hutan dapat meluas dan berdampak buruk.

Beberapa cara yang dapat dilakukan untuk menghadapi kebakaran hutan, antara lain:

- a. Gunakan masker penutup hidung jika asapnya begitu mengganggu.
- b. Jika kalian sedang berada dalam kendaraan, kurangi kecepatan dan nyalakan lampu kendaraan.

#### 5. Cara Menghadapi Tanah Longsor

Daerah rawan terjadi bencana tanah longsor adalah lereng pegunungan. Beberapa cara yang dapat kita lakukan untuk menghadapi tanah longsor, antara lain

- a. Jika terjadi tanah longsor segeralah keluar dari rumah.
- b. Segeralah berlindung ke tempat aman, seperti lapangan atau tempat terbuka lainnya.

#### 6. Cara Menghadapi Badai

Badai bisa terjadi di laut maupun di daratan. Jika terjadi badai di laut jangan menggunakan alat transportasi laut. Apabila badai terjadi daratan, beberapa cara yang dapat kita lakukan, antara lain.

- a. Jika rumah kita kuat, sebaiknya segera masuk ke dalam rumah. Akan tetapi, jika rumah kita tidak kuat maka segeralah keluar rumah.
- b. Carilah tempat yang terbuka supaya terhindar dari bangunan yang roboh.
- c. Apabila berada di jalan dan sedang naik kendaraan berhentilah di tempat terbuka.
- d. Jangan berhenti di bawah papan reklame dan pohon besar. Hal itu untuk menghindari kemungkinan robohnya papan reklame dan pohon tersebut.

### Refleksi

Mengenali gejala alam penting bagi kita. Dengan begitu kita dapat melakukan upaya penyelamatan. Sudahkah kamu memahaminya? Tanyakan kepada gurumu jika ada hal yang belum dipahami.

## Rangkuman



Gejala alam yang terjadi di Indonesia, antara lain gunung meletus, gempa bumi, tsunami, banjir, kebakaran hutan, tanah longsor, lumpur panas, dan badai.

Bencana banjir dan kebakaran hutan yang terjadi di Indonesia disebabkan oleh perilaku manusia sendiri. Banjir merupakan akibat dari perilaku manusia yang membuang sampah ke sungai dan menebang pohon secara liar. Perilaku manusia yang menyebabkan kebakaran hutan di antaranya sengaja membakar hutan untuk dijadikan lahan pertanian.

Terjadinya bencana alam, seperti gempa bumi dan gunung meletus tidak bisa diprediksi manusia sebelumnya. Oleh karena itu, kita harus selalu waspada.

## Evaluasi



**Kerjakan di buku latihanmu!**

**A. Pilihlah jawaban yang paling benar.**

1. Negara di Asia Tenggara selain Indonesia yang rawan terjadi gunung meletus, yaitu ....
  - a. Brunei Darussalam
  - b. Malaysia
  - c. Singapura
  - d. Filipina
2. Alat pencatat kekuatan gempa disebut ....
  - a. termometer
  - b. seismograf
  - c. barometer
  - d. speedometer
3. Daerah di Indonesia yang pernah dilanda tsunami adalah ....
  - a. Nanggroe Aceh Darussalam
  - b. Surabaya
  - c. Semarang
  - d. Bandung
4. Negara yang dilanda tsunami pada tanggal 26 Desember 2004 di antaranya ....
  - a. India
  - b. Singapura
  - c. Malaysia
  - d. Filipina
5. Berikut ini bencana alam yang bisa disebabkan oleh perilaku manusia adalah ....
  - a. tsunami
  - b. gempa bumi
  - c. banjir
  - d. angin topan



6. Berikut ini kerugian yang ditimbulkan asap dari kebakaran hutan, yaitu ....
  - a. timbul penyakit saluran pernafasan
  - b. mengganggu aliran sungai
  - c. sawah penduduk kering
  - d. rumah penduduk hancur
7. Daerah yang rawan tanah longsor adalah ....
  - a. pegunungan
  - b. pantai
  - c. perkotaan
  - d. persawahan
8. Cara untuk menghadapi bencana banjir, yaitu ....
  - a. mencari tempat yang lebih rendah
  - b. bersembunyi di bawah meja
  - c. memindahkan surat dan benda-benda berharga ke tempat yang lebih aman
  - d. menyalakan lampu kendaraan agar memudahkan penglihatan
9. Daerah yang harus dihindari saat terjadi gempa, yaitu ....
  - a. pohon besar
  - b. tanah lapang
  - c. lapangan tenis
  - d. lapangan sepak bola
10. Gejala alam yang terjadi di Porong, Sidoarjo adalah ....
  - a. banjir
  - b. gempa bumi
  - c. semburan lumpur panas
  - d. tsunami
11. Pusat gempa yang menyebabkan gelombang tsunami tahun 2004 berada di ....
  - a. Samudra Hindia
  - b. Samudra Pasifik
  - c. Samudra Atlantik
  - d. Selat Malaka
12. Negara di Asia Tenggara yang tidak rawan akan gunung meletus adalah ....
  - a. Indonesia
  - b. Filipina
  - c. Singapura
  - d. Thailand
13. Kebakaran hutan sering terjadi di ....
  - a. Papua
  - b. Kalimantan
  - c. Jawa
  - d. Sulawesi
14. Tsunami pada tahun 1883 merupakan akibat dari ....
  - a. gempa bumi
  - b. badai
  - c. letusan Gunung Kerinci
  - d. letusan Gunung Krakatau
15. Cara-cara untuk menghadapi badai adalah ....
  - a. apabila bangunan rumah kuat, berlindung di dalam rumah
  - b. ketika mengendarai motor, kurangi kecepatan
  - c. berlindung di bawah pohon
  - d. mendekati papan reklame

**B. Isilah titik-titik dengan jawaban paling benar.**

1. Gempa akibat gunung meletus disebut ....
2. Gempa akibat pergeseran lempeng permukaan bumi disebut ....
3. Titik pusat terjadinya gempa disebut ....
4. Gejala lumpur panas terjadi di ....
5. Daerah yang rawan bencana tanah longsor, yaitu ....
6. Gejala alam yang juga rawan terjadi di negara Filipina, yaitu ....
7. Gejala alam berhubungan erat dengan ....
8. Hutan yang sering terbakar, yaitu hutan di daerah ... dan ....
9. Awan panas yang keluar dari letusan Gunung Merapi disebut ....
10. Membuang sampah di sungai menyebabkan terjadinya bencana ....

**C. Jawablah pertanyaan-pertanyaan berikut ini dengan benar.**

1. Sebutkan bencana alam yang pernah terjadi di daerah tempat tinggalmu.
2. Mengapa membuang sampah di sungai bisa menyebabkan banjir?
3. Sebutkan negara-negara yang dilanda tsunami pada tanggal 26 Desember 2004 selain Indonesia.
4. Bagaimana cara menghadapi gempa bumi?
5. Sebutkan perilaku manusia yang dapat menyebabkan tanah longsor.





# PERANAN INDONESIA PADA ERA GLOBAL

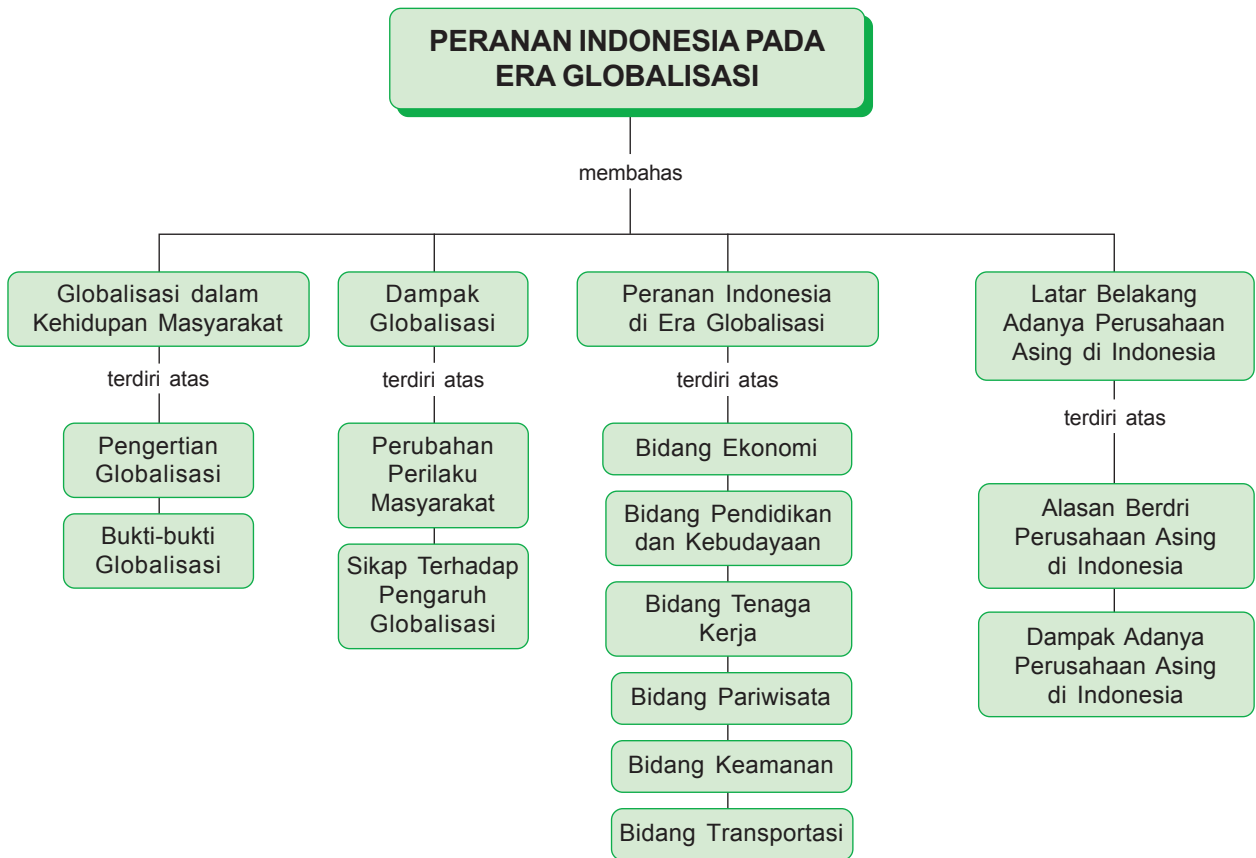
## Kata Kunci

◆ globalisasi



Sumber: [www.radiometer.com](http://www.radiometer.com)

Satelit dimanfaatkan sebagai telekomunikasi yang mampu mengirimkan dan menerima frekuensi data secara cepat



Saat ini, kemajuan dalam setiap aspek kehidupan berlangsung cepat. Arus kemajuan zaman berpengaruh terhadap segala aspek kehidupan masyarakat. Pada masa globalisasi sekarang ini, Indonesia tidak tinggal diam. Indonesia turut berperan aktif. Hal ini untuk mempercepat pembangunan di segala bidang.

Bab ini akan membahas tentang peranan Indonesia di era global. Selain itu, pengaruh globalisasi dalam kehidupan masyarakat.

## A. Globalisasi dalam Kehidupan Masyarakat



### 1. Pengertian Globalisasi

Globalisasi berasal dari dua kata, yaitu *globe* dan *isasi*. *Globe* berarti dunia, sedangkan *isasi* berarti proses. Jadi, globalisasi adalah proses mendunia. Artinya, negara-negara di dunia ini seolah-olah menjadi satu. Batas antarnegara tidak ada lagi.

Globalisasi terjadi karena adanya kemajuan ilmu pengetahuan dan teknologi informasi. Dengan adanya kemajuan di bidang teknologi informasi, segala informasi dapat diketahui. Peristiwa di suatu negara bisa diketahui oleh masyarakat dari negara lain dalam waktu yang sangat cepat. Hal inilah yang dimaksud dengan batas-batas antarnegara seolah-olah tidak ada lagi. Batas geografis suatu negara tidak lagi menjadi penghalang. Terlebih untuk mengetahui informasi yang berkembang di negara tersebut.

Globalisasi dipengaruhi oleh perkembangan alat komunikasi dan transportasi. Perkembangan alat komunikasi, antara lain penggunaan satelit, telepon, komputer, dan internet. Alat komunikasi canggih memungkinkan seseorang berkomunikasi dengan mudah dan cepat. Berkembangnya alat transportasi memungkinkan seseorang bepergian ke negara lain dengan mudah dan cepat. Bahkan, dengan perkembangan teknologi transportasi yang canggih manusia bisa mendarat di bulan.

### 2. Bukti-Bukti Globalisasi

Banyak sekali bukti globalisasi yang bisa kita lihat secara nyata. Di antaranya di bidang telekomunikasi, bidang ekonomi, bidang industri, dan bidang kependudukan.

#### a. Bidang Telekomunikasi

Saat ini, teknologi komunikasi berkembang dengan sangat pesat. Dalam kehidupan sehari-hari kita biasa menggunakan alat-alat komunikasi modern. Di antaranya telepon, televisi, dan layanan internet.

Adanya telepon, seseorang dapat berkomunikasi dengan orang lain yang berada di daerah atau negara lain. Seseorang bisa mengetahui perkembangan informasi di tempat lain, dengan melihat berita di televisi.



Sumber: [www.kapanlagi.com](http://www.kapanlagi.com)

**Gambar 5.1** Kita harus senantiasa cermat dalam memilih acara televisi

Contohnya, kita dapat melihat pertandingan sepak bola secara langsung di televisi. Di dalam layanan internet tersedia fasilitas *chatting* dan *e-mail*. Fasilitas *chatting* membuat kita dapat berkomunikasi secara langsung. Bahkan, kita dapat melihat langsung orang yang berkomunikasi dengan kita. Kita pun bisa mengirim surat elektronik secara cepat dengan fasilitas *e-mail*.

## b. Bidang Ekonomi

Bukti globalisasi di bidang ekonomi adalah adanya pasar bebas. Pasar bebas disebut juga sebagai perdagangan internasional. Dengan adanya perdagangan internasional, Indonesia bisa menjual barang produksinya ke negara lain.

Saat ini di sekitar kita banyak barang dari negara lain. Beberapa dari negara Jepang, Cina, dan negara lainnya. Barang-barang tersebut, antara lain kendaraan bermotor, mobil, alat-alat elektronik, makanan, minuman kaleng, dan lain-lain. Barang-barang tersebut dapat dijual di Indonesia karena adanya perdagangan internasional.

Bukti globalisasi di bidang ekonomi yang lain, yaitu pengusaha restoran asing yang mengembangkan usaha di Indonesia. Restoran asing yang berkembang di Indonesia, antara lain restoran cepat saji (*fast food*).

## c. Bidang Industri

Bukti globalisasi di bidang industri adalah banyaknya industri atau perusahaan asing yang berdiri di Indonesia. Contohnya industri perakitan mobil dan sepeda motor. Mobil dan sepeda motor produksi Jepang tidak sepenuhnya diproduksi di Jepang. Ada pula yang mesinnya dibuat di Jepang. Akan tetapi, perakitannya dilakukan di Indonesia.

Contoh lain yaitu produk sepatu Nike. Meskipun perusahaannya berada di Amerika. Akan tetapi, sepatunya diproduksi di beberapa negara. Salah satunya diproduksi di Indonesia.

## d. Bidang Kependudukan

Migrasi internasional adalah bukti globalisasi di bidang kependudukan. Migrasi adalah perpindahan penduduk. Migrasi internasional merupakan perpindahan penduduk dari negara satu ke negara lain.

Saat ini seseorang dapat pergi ke negara lain dengan mudah. Tujuannya pun beragam. Ada yang bertujuan untuk bekerja. Ada yang tujuannya untuk melanjutkan sekolah. Ada pula yang tujuannya hanya untuk berlibur. Contohnya adalah para TKI yang bekerja di luar negeri. Contoh lain turis asing yang datang ke Indonesia untuk berlibur di Bali.

### Kilas Sosial

Antiglobalisasi adalah suatu istilah yang umum digunakan untuk memaparkan sikap politis orang-orang dan kelompok yang menentang perjanjian dagang global dan lembaga-lembaga yang mengatur perdagangan antarnegara seperti Organisasi Perdagangan Dunia (*WTO*).

"Antiglobalisasi" dianggap oleh sebagian orang sebagai *gerakan sosial*, sementara yang lainnya menganggapnya sebagai istilah umum yang mencakup

sejumlah gerakan sosial yang berbeda-beda. Apapun juga maksudnya, para peserta dipersatukan dalam perlawanan terhadap ekonomi dan sistem perdagangan global saat ini, yang menurut mereka mengikis lingkungan hidup, hak-hak buruh, kedaulatan nasional, dunia ketiga, dan banyak lagi penyebab-penyebab lainnya.

Namun, orang-orang yang dicap "antiglobalisasi" sering menolak istilah itu, dan mereka lebih suka menyebut diri mereka sebagai Gerakan Keadilan Global. Atau Gerakan dari Semua Gerakan atau sejumlah istilah lainnya.

## Tugas

Lengkapilah tabel berikut ini! Isilah dengan bukti globalisasi yang ada di sekitar tempat tinggalmu!

No.	Bidang	Bukti-bukti Globalisasi
1.	Telekomunikasi	
2.	Ekonomi	
3.	Industri	
4.	Kependudukan	

## B. Dampak Globalisasi



Globalisasi berpengaruh terhadap segala aspek kehidupan masyarakat Indonesia. Di antaranya memengaruhi bidang ekonomi, sosial, dan budaya. Pengaruh globalisasi di bidang ekonomi ditandai dengan dibukanya pasar bebas. Dengan demikian, tiap-tiap negara bebas memasarkan atau menjual barang produksinya ke negara lain. Pengaruh globalisasi di bidang sosial dan budaya adalah adanya perubahan perilaku, masyarakat dalam kehidupan sehari-hari.

### 1. Perubahan Perilaku Masyarakat

Dampak dari globalisasi di antaranya perubahan perilaku masyarakat dalam kehidupan sehari-hari. Hal ini berupa perilaku berpakaian, gaya hidup, pola makan, berkomunikasi, dan perilaku terhadap nilai-nilai budaya bangsa.



### a. Perilaku dalam Berpakaian

Salah satu kebutuhan pokok manusia adalah pakaian. Pakaian berfungsi sebagai pelindung tubuh. Bangsa Indonesia memiliki banyak sekali pakaian adat yang beragam. Pakaian adat mencerminkan budaya Indonesia.

Namun, pakaian adat mulai ditinggalkan. Pakaian adat tidak dipakai lagi dalam kehidupan sehari-hari. Saat ini, terutama anak-anak muda menyukai model pakaian yang lebih modern. Mereka lebih suka memakai pakaian seperti kaus dan celana jeans. Perilaku berpakaian cenderung meniru tokoh yang mereka idolakan.

Sekarang ini pakaian tidak lagi berfungsi sebagai pelindung atau penutup badan. Akan tetapi lebih sebagai *trend* atau model. Setiap saat *trend* atau model pakaian berubah dengan cepat.



Sumber: [img.alibaba.com](http://img.alibaba.com)



Sumber: [www.psychic.co.uk](http://www.psychic.co.uk)

**Gambar 5.2** Sekarang ini orang lebih suka memakai kaus dan celana jeans

### b. Gaya Hidup

Di era globalisasi gaya hidup masyarakat juga mengalami perubahan. Masyarakat Indonesia mulai terpengaruh gaya hidup bangsa lain.

Pengaruh negatif globalisasi terhadap gaya hidup cenderung meniru gaya hidup bangsa lain yang kurang baik. Misalnya, gaya hidup mewah, konsumtif, boros, mementingkan diri sendiri, dan ingin berkuasa. Contoh gaya hidup mewah, yaitu masyarakat lebih suka berbelanja di swalayan. Mereka membeli barang-barang yang belum tentu mereka butuhkan.

Contoh lain gaya hidup yang tidak baik adalah penggunaan narkoba dan pergaulan bebas. Gaya hidup seperti pergaulan bebas, tidak mencerminkan gaya hidup bangsa Indonesia. Bangsa Indonesia terkenal sebagai bangsa yang sederhana, sopan, saling menghormati, dan saling tolong-menolong.

Globalisasi tidak hanya berpengaruh negatif. Akan tetapi, juga berpengaruh positif terhadap gaya hidup masyarakat Indonesia. Pengaruh positifnya, yaitu semangat kerja dan berani bersaing. Masyarakat Indonesia dalam bekerja juga lebih menghargai waktu.



Sumber: [serpong.files.wordpress.com](http://serpong.files.wordpress.com)

**Gambar 5.3** Gaya hidup berbelanja di swalayan

### c. Perilaku Pola Makan

Saat ini di Indonesia sekarang banyak sekali bermunculan restoran makanan cepat saji. Adanya restoran makanan cepat saji berpengaruh terhadap pola makan masyarakat Indonesia.

Hal ini membuat masyarakat Indonesia lebih suka mengonsumsi makanan cepat saji. Dengan mengonsumsi makanan cepat saji seolah-olah menjadi bukti telah mengikuti perkembangan zaman.

Tanpa disadari, makanan cepat saji memberikan dampak buruk bagi kesehatan. Seringnya mengonsumsi makanan cepat saji dapat menimbulkan penyakit, seperti darah tinggi, jantung koroner, asam urat, kolesterol, dan maag. Sebaiknya, kita mengonsumsi makanan yang sehat dan bergizi tinggi. Hal ini bermanfaat bagi tubuh kita tetap sehat.



Sumber: [www.naturalkitchenstrategies.com.au](http://www.naturalkitchenstrategies.com.au)

**Gambar 5.4** Masyarakat sekarang ini lebih suka mengonsumsi makanan cepat saji (instan)

### d. Perilaku Berkomunikasi

Sebelum ditemukan teknologi komunikasi, masyarakat berkomunikasi secara langsung. Namun, setelah ditemukan teknologi komunikasi yang modern, perilaku berkomunikasi pun berubah. Alat komunikasi di antaranya telepon, mesin fax, televisi, dan internet.

Dampak positif dari perkembangan teknologi komunikasi, yaitu hubungan komunikasi bisa lebih cepat, mudah, dan lebih praktis. Dampak negatif adalah mudarnya hubungan silaturahmi antara saudara yang berada di daerah lain. Hal ini disebabkan karena komunikasi jarak jauh dapat menggunakan telepon. Hubungan jarak jauh menggunakan telepon mengurangi pertemuan dengan teman atau saudara. Akibatnya, hubungan kekerabatan tidak lagi erat.



Sumber: [www.kabarindonesia.com](http://www.kabarindonesia.com)

**Gambar 5.5** Komunikasi menggunakan telepon lebih cepat dan praktis

### e. Perilaku Terhadap Nilai-nilai Budaya dan Tradisi Bangsa

Di era globalisasi sekarang ini, budaya-budaya asing mudah sekali masuk ke Indonesia. Masuknya budaya asing ke Indonesia memudahkan nilai-nilai budaya asli Indonesia.

Masyarakat Indonesia terutama generasi muda tidak lagi mengenal budaya asli daerah, seperti musik tradisional, pertunjukan daerah, dan lain-lain. Mereka lebih suka musik dan film barat. Mereka lebih suka melihat konser musik rock daripada melihat pertunjukan kesenian daerah, seperti wayang kulit, lenong, ketoprak, dan lain-lain.



Sumber: [ceche.eb.com](http://ceche.eb.com)

**Gambar 5.6** Di era globalisasi sekarang ini, kebudayaan daerah mulai tersingkirkan oleh kebudayaan asing

Bangsa Indonesia terkenal dengan tradisi hidup bergotong royong. Namun, di masa sekarang ini gotong royong sudah jarang dilakukan oleh masyarakat Indonesia, terutama di kota-kota besar. Pengaruh lain dari globalisasi terhadap tradisi bangsa Indonesia pesta pernikahan dengan menggunakan tradisi barat.

## 2. Sikap Terhadap Pengaruh Globalisasi

Globalisasi telah memengaruhi segala aspek kehidupan masyarakat Indonesia. Bagaimana cara menyikapi pengaruh globalisasi terhadap kehidupan kita?

Globalisasi memberikan pengaruh yang positif dan negatif. Oleh karena itu, kita harus dapat menyeleksi antara pengaruh positif dengan pengaruh negatif. Pengaruh yang positif kita tiru dan kita manfaatkan sebagai dasar pembangunan bangsa Indonesia menjadi lebih baik, sedangkan pengaruh yang negatif kita hindari dan kita tolak.

Pengaruh positif globalisasi yang patut kita contoh adalah budaya kerja keras bangsa lain. Adapun pengaruh negatif yang perlu kita tolak, antara lain pergaulan bebas, gaya hidup mewah, konsumtif, penggunaan narkoba, dan lain-lain.

Kita juga harus bisa menyeleksi budaya-budaya asing yang masuk ke Indonesia. Tidak semua budaya bangsa lain sesuai dengan budaya bangsa kita. Musik dan film barat yang tidak sesuai dengan budaya bangsa Indonesia harus kita cegah dan kita tolak. Bangsa Indonesia mempunyai banyak sekali budaya yang mengandung nilai-nilai luhur. Oleh karena itu, kita harus memelihara budaya bangsa Indonesia supaya tidak hilang tergeser oleh budaya asing.

Perkembangan teknologi komunikasi menjadikan hubungan komunikasi lebih cepat, mudah, dan praktis. Kita harus memanfaatkan teknologi komunikasi dengan sebaik-baiknya dan tidak menggunakannya untuk hal-hal yang tidak baik atau tindakan kejahatan. Perkembangan teknologi komunikasi dan informasi harus kita gunakan untuk pembangunan bangsa agar tidak tertinggal oleh bangsa lain.

Jadi, globalisasi memberikan dampak positif dan negatif bagi kehidupan manusia. Oleh karena itu, sebagai generasi muda kita harus waspada terhadap pengaruh globalisasi yang tidak baik.



**Gambar 5.7** Mengadakan pesta perkawinan adat Jawa merupakan bentuk pelestarian budaya bangsa

### Kilas Sosial

Masalah kebudayaan adalah masalah yang berkaitan dengan kehidupan sosial masyarakat. Oleh karena budaya tumbuh dan berkembang dalam masyarakat. Dengan kata lain, kebudayaan merupakan ciri khas sebuah komunitas masyarakat yang berkembang. Seperti yang diungkapkan Sucipto (1998), pada hakikatnya pembangunan manusia Indonesia adalah juga pembangunan yang memiliki ketahanan sosial budaya, sehingga pembangunan yang kita lakukan seharusnya memperhatikan kondisi kebudayaan yang ada.

## Tugas

Perhatikan masyarakat di sekitar tempat tinggalmu! Apakah di era globalisasi ini perilaku mereka mengalami perubahan? Berikan tanggapanmu dengan memberikan tanda centang (√) pada kolom berikut.

No.	Perilaku	Berubah	Tidak Berubah	Keterangan Perubahan Perilaku
1.	Pola Makan	√		Mengonsumsi makanan cepat saji
2.	Berkomunikasi			
3.	Gaya Hidup			
4.	Perilaku Terhadap Tradisi dan Budaya			

Diskusikan bersama kelompokmu mengenai dampak positif globalisasi yang perlu ditiru dan dampak negatif globalisasi yang perlu ditolak! Tuliskan ke dalam tabel!

No.	Dampak Positif yang Perlu Ditiru	Dampak Negatif yang Tidak Perlu Ditiru

## C. Peranan Indonesia di Era Globalisasi



Di dalam era globalisasi, bangsa Indonesia turut mengambil peranan. Bangsa Indonesia diharapkan mampu bersaing dengan bangsa-bangsa lain di era global. Peranan Indonesia di era globalisasi adalah menjalin hubungan kerja sama dengan negara-negara lain. Di antaranya bidang ekonomi, pendidikan dan kebudayaan, tenaga kerja, keamanan, pariwisata, dan transportasi.

## 1. Bidang Ekonomi

Bentuk globalisasi di bidang ekonomi, yaitu dilakukannya perdagangan bebas antarnegara. Perdagangan bebas artinya setiap negara bebas menjual barang produksinya ke negara lain.

Peran aktif Indonesia di dalam perdagangan bebas, yaitu kegiatan mengekspor. Barang-barang produksinya, seperti mebel, ukiran, pupuk, semen, dan lain-lain. Selain itu, Indonesia juga mengekspor hasil tambang, seperti batu bara, minyak bumi, dan lain-lain. Sebagai salah satu negara penghasil minyak bumi, Indonesia dan negara-negara penghasil minyak yang lain bergabung dalam perhimpunan negara-negara penghasil minyak atau OPEC.

Peran aktif di bidang ekonomi yang lain, yaitu Indonesia menawarkan kerja sama kepada investor yang menanamkan modalnya di Indonesia. Dengan adanya investor yang menanamkan modalnya di Indonesia diharapkan dapat memberikan tambahan modal untuk mempercepat pembangunan Indonesia.

## 2. Bidang Pendidikan dan Kebudayaan

Di era globalisasi sekarang ini banyak warga Indonesia yang belajar atau melanjutkan studinya ke luar negeri. Begitu juga sebaliknya, tidak sedikit dari warga negara asing yang belajar di Indonesia. Contoh lain yaitu Indonesia melakukan pertukaran mahasiswa dan pelajar dengan negara lain.

Di bidang kebudayaan Indonesia mengirimkan misi kebudayaan ke negara-negara lain. Hal ini dilakukan dengan tujuan untuk memperkenalkan kebudayaan Indonesia ke dunia internasional.



Sumber: [students.ukdw.ac.id](http://students.ukdw.ac.id)

**Gambar 5.8** Era globalisasi memudahkan Indonesia untuk memperkenalkan kebudayaannya

## 3. Bidang Tenaga Kerja

Peranan nyata bangsa Indonesia di era globalisasi bidang tenaga kerja, yaitu Indonesia mengirimkan warga negaranya untuk bekerja di negara lain. Misalnya pengiriman Tenaga Kerja Indonesia (TKI) ke luar negeri.

Sebaliknya, tidak sedikit dari warga negara asing yang bekerja di perusahaan-perusahaan Indonesia. Sebagian besar dari mereka bekerja sebagai tenaga ahli atau konsultan di beberapa perusahaan di Indonesia. Dengan banyaknya warga negara asing yang bekerja sebagai tenaga ahli di beberapa perusahaan Indonesia diharapkan mampu memajukan perusahaan Indonesia, sehingga mampu bersaing dengan perusahaan-perusahaan asing.



Sumber: [encarta.encyclopedia.com](http://encarta.encyclopedia.com), [theimageworks.com](http://theimageworks.com), [greenlar.com](http://greenlar.com)

**Gambar 5.9** Warga negara asing yang bekerja di perusahaan-perusahaan Indonesia

#### 4. Bidang Pariwisata

Negara Indonesia terkenal dengan keindahan alamnya. Banyak warga negara asing yang datang untuk menikmati keindahan alam Indonesia. Salah satu daerah wisata di Indonesia yang terkenal hingga ke luar negeri, yaitu Bali. Bali sangat terkenal dengan budaya dan keindahan pantainya. Banyaknya turis asing ke Indonesia meningkatkan devisa negara.



Sumber: [www.tropicalisland.de](http://www.tropicalisland.de)

**Gambar 5.10** Keindahan Pantai Kuta di Bali menjadi salah satu daya tarik turis asing untuk datang ke Indonesia

#### 5. Bidang Keamanan

Peranan aktif Indonesia di era globalisasi di bidang keamanan yaitu turut berperan aktif menjaga keamanan dunia. Sebagai contoh dengan mengirimkan pasukan keamanan ke negara lain yang sedang terjadi konflik. Tujuannya untuk membantu menjaga keamanan di negara tersebut. TNI juga sering melakukan latihan bersama dengan tentara negara lain.

Bangsa Indonesia juga bekerja sama dengan negara-negara lain untuk mengatasi tindak kejahatan yang bersifat internasional. Misalnya, terorisme, perdagangan obat-obat terlarang, dan lain-lain. Di era globalisasi para pelaku kejahatan mudah sekali melarikan diri ke negara lain dan untuk menangkapnya dibutuhkan kerja sama dengan negara lain.

#### 6. Bidang Transportasi

Peran aktif Indonesia dalam era globalisasi di bidang transportasi adalah dengan membuka jalur penerbangan ke negara-negara lain. Misalnya Indonesia–Singapura, Indonesia–Australia, dan lain-lain. Dengan demikian, akan memudahkan warga Indonesia untuk bepergian ke negara lain, begitu juga sebaliknya memudahkan warga negara asing untuk datang ke Indonesia.



Sumber: [static.flickr.com](http://static.flickr.com)

**Gambar 5.11** Membuka jalur penerbangan internasional adalah salah satu peran Indonesia di era globalisasi

## Tugas



Lengkapilah tabel berikut ini. Isilah dengan contoh peran aktif Indonesia dalam era globalisasi.

No.	Bidang	Contoh Peranan	Manfaat
1.	Ekonomi		
2.	Pendidikan dan Kebudayaan		
3.	Tenaga Kerja		
4.	Keamanan		
5.	Pariwisata		
6.	Transportasi		

## D. Latar Belakang Adanya Perusahaan Asing di Indonesia



### 1. Alasan Berdirinya Perusahaan Asing di Indonesia

Perusahaan asing adalah perusahaan negara lain yang berada di Indonesia. Di Indonesia banyak berdiri perusahaan asing, seperti PT Freeport dan Exxon Mobil. Kondisi ini merupakan salah satu dampak dari globalisasi.

Negara asing atau investor asing yang menanamkan modalnya di Indonesia memiliki banyak alasan. Beberapa alasan dan pertimbangan berdirinya perusahaan asing di Indonesia adalah tersedianya tenaga kerja yang murah, tersedianya bahan baku, letak Indonesia yang strategis, pajak dan harga tanah yang rendah.

### a. Tenaga Kerja yang Murah

Indonesia merupakan salah satu negara dengan jumlah penduduk yang besar. Jumlah penduduknya mencapai sekitar 206 juta jiwa. Dengan jumlah penduduk yang besar, Indonesia memiliki cukup banyak tenaga kerja. Upah tenaga kerja di negara lain, upah tenaga kerja di Indonesia lebih rendah dibandingkan di negara lain. Hal ini yang menjadi alasan negara lain mendirikan perusahaan di Indonesia.



Sumber: [www.pemkot-malang.go.id](http://www.pemkot-malang.go.id)

**Gambar 5.12** Tersedianya tenaga kerja yang cukup menarik minat investor asing untuk mendirikan perusahaan di Indonesia

### b. Ketersediaan Bahan Baku

Negara Indonesia mempunyai sumber daya alam yang melimpah. Melimpahnya sumber daya alam di Indonesia memudahkan dalam mencari bahan baku. Bahan baku yang melimpah menarik minat investor dari negara lain. Dengan demikian, proses produksi akan berjalan lancar.



Sumber: [www.ejodanovan.com.au](http://www.ejodanovan.com.au)

**Gambar 5.13** Tambang emas PT Freeport di Papua

### c. Letak Indonesia yang Strategis

Secara geografis Indonesia berada di antara dua benua dan dua samudra, yaitu Benua Asia dan Benua Australia serta Samudra Hindia dan Samudra Pasifik. Hal ini menjadikan Indonesia sebagai jalur perdagangan dunia. Keuntungan sebagai negara yang berada di jalur perdagangan dunia, yaitu Indonesia lebih mudah memasarkan barang produksinya ke negara lain. Oleh karena itu, banyak investor asing yang membangun perusahaannya di Indonesia.

### d. Pajak dan Harga Tanah yang Rendah

Di Indonesia masih banyak terdapat lahan kosong. Jika dibandingkan dengan pajak dan harga tanah di negara lain, pajak dan harga tanah di Indonesia lebih murah. Oleh karena itu, para investor asing tertarik untuk mendirikan perusahaan di Indonesia.



## Tugas

Carilah informasi dari media massa atau internet mengenai perusahaan asing di Indonesia! Sebutkan pula asal negaranya! Tulislah ke dalam tabel seperti di bawah ini! Kerjakan di buku latihanmu. Kumpulkan hasilnya kepada gurumu!

No.	Nama Perusahaan	Asal Negara
1.		
2.		
3.		
4.		
5.		

## 2. Dampak Adanya Perusahaan Asing di Indonesia

Perusahaan asing yang berdiri di Indonesia memberikan dampak bagi bangsa Indonesia. Dampak adanya perusahaan asing di Indonesia adalah sebagai berikut.

### a. Bidang Tenaga Kerja

Dampak positif dari berdirinya perusahaan asing di Indonesia adalah tersedianya lapangan pekerjaan. Dengan demikian, dapat mengurangi jumlah pengangguran di Indonesia.

Berdirinya sebuah perusahaan tentu akan membuka lapangan pekerjaan. Oleh karena perusahaan tersebut membutuhkan karyawan.

Adapun dampak negatifnya, yaitu tenaga kerja dari Indonesia sebagian besar hanya menjadi karyawan biasa. Selain itu, perusahaan dalam negeri tidak bisa berkembang dan bersaing. Oleh karena tenaga ahli dari Indonesia beralih ke perusahaan asing. Biasanya perusahaan asing membayar upah yang cukup tinggi.

### b. Bidang Ekonomi

Adanya perusahaan asing memberikan keuntungan dan kerugian di bidang ekonomi. Keuntungannya yaitu akan meningkatkan devisa negara. Selain itu, akan tercukupinya barang-barang kebutuhan masyarakat di dalam negeri.

Perusahaan asing yang beroperasi di Indonesia tentu akan memberikan pemasukan bagi Indonesia. Misalnya, pemasukan dari segi pajak. Pemasukan dari perusahaan asing tersebut akan meningkatkan devisa negara.

Dengan adanya perusahaan asing di Indonesia, kebutuhan dalam negeri yang tidak bisa diproduksi dapat tercukupi. Di antaranya barang elektronik dan kendaraan.

Kerugiannya adalah sebagian besar hasil keuntungannya dibawa ke negara asal. Oleh karena modalnya sebagian besar juga dari investor asing.

### c. Bidang Teknologi

Dampak positif dalam bidang teknologi yaitu masyarakat Indonesia yang bekerja di perusahaan asing dapat meningkatkan keterampilan. Selain itu, juga meningkatkan pengetahuan teknologi produksi modern. Sebagian besar perusahaan asing menggunakan teknologi produksi yang lebih modern.

Dampak negatifnya adalah perusahaan dalam negeri tidak bisa berkembang karena tidak mampu bersaing dengan perusahaan asing. Hal ini disebabkan karena teknologi produksi perusahaan asing lebih maju dan modern dibandingkan dengan teknologi produksi perusahaan dalam negeri

### d. Bidang Lingkungan Hidup

Banyaknya perusahaan yang berdiri di Indonesia sebagian memberikan dampak negatif bagi lingkungan hidup. Dampaknya berupa terjadinya pencemaran lingkungan, seperti polusi udara. Selain itu, limbah pabrik yang dibuang secara langsung tanpa pengolahan terlebih dahulu akan merusak lingkungan.



Sumber: [tonosolo.files.wordpress.com](https://tonosolo.files.wordpress.com)

**Gambar 5.14** Asap yang dikeluarkan oleh pabrik mengakibatkan polusi udara

### e. Bidang Sosial

Dampak positif dari banyaknya perusahaan asing di Indonesia bagi masyarakat Indonesia, antara lain dapat meningkatkan penghasilan dan kesejahteraan masyarakat.

Masyarakat yang bekerja di perusahaan asing akan mendapatkan upah. Dari upah tersebut masyarakat dapat meningkatkan kesejahteraan hidupnya. Selain itu, banyaknya perusahaan yang berdiri juga akan meningkatkan penghasilan masyarakat yang berada di sekitar perusahaan. Masyarakat di sekitar perusahaan dapat membuka rumah makan. Adapula yang menyewakan rumah kontrakan bagi karyawan. Dengan demikian, penghasilan masyarakat sekitar juga akan meningkat. Sikap positif yang ditumbuhkan adalah tumbuhnya sikap etos kerja yang tinggi.

Dampak negatifnya adalah berubahnya pola kehidupan masyarakat. Misalnya masyarakat Indonesia menjadi masyarakat yang konsumtif dan boros. Selain itu, pola kehidupan masyarakat yang dahulu agraris sekarang berubah menjadi masyarakat industri.

## Tugas

Lengkapilah tabel berikut ini dengan keuntungan dan kerugian adanya perusahaan asing di Indonesia!

No.	Bidang	Keuntungan	Kerugian
1.	Tenaga Kerja		
2.	Ekonomi		
3.	Teknologi		
4.	Lingkungan Hidup		
5.	Sosial		

## Refleksi

Pengaruh globalisasi membawa dampak positif dan negatif. Dapatkah kamu menyebutkannya? Sebagai generasi muda kita harus waspada terhadap pengaruh buruk. Tanyakan kembali kepada gurumu jika ada materi yang belum kamu kuasai.

## Rangkuman

Globalisasi yaitu proses mendunia. Terjadinya globalisasi karena adanya perkembangan teknologi informasi, komunikasi, ilmu pengetahuan, dan transportasi.

Bukti-bukti globalisasi, antara lain penggunaan alat-alat komunikasi modern, terjadinya pasar bebas, banyaknya perusahaan asing, serta perpindahan penduduk antarnegara.

Dampak globalisasi bagi masyarakat Indonesia, yaitu terjadi perubahan perilaku masyarakat, seperti perilaku berpakaian, gaya hidup, pola makan, berkomunikasi, dan perilaku terhadap nilai-nilai budaya dan tradisi bangsa. Sebagai generasi muda kita harus waspada terhadap segala pengaruh globalisasi yang tidak baik.

Peran Indonesia dalam era globalisasi, antara lain turut dalam perdagangan bebas, melakukan pertukaran mahasiswa dan pelajar antara negara, turut menjaga keamanan dunia, dan membuka jalur penerbangan internasional.

Alasan berdirinya perusahaan asing di Indonesia, antara lain tersedianya tenaga kerja yang murah, tersedianya bahan baku, letak Indonesia yang strategis, pajak dan harga tanah yang rendah di Indonesia.

Dampak negatif berdirinya perusahaan asing di Indonesia, antara lain mengurangi jumlah pengangguran, tersedianya lapangan pekerjaan, meningkatkan devisa negara, tercukupinya kebutuhan dalam negeri, meningkatkan keterampilan dan pengetahuan teknologi produksi modern dan meningkatkan penghasilan masyarakat.

Dampak negatifnya adalah keuntungannya dibawa ke negara asal, perusahaan dalam negeri tidak berkembang karena tidak mampu bersaing, terjadi pencemaran lingkungan dan berubahnya pola kehidupan masyarakat.

## Evaluasi



### Kerjakan di buku latihanmu!

#### A. Pilihlah jawaban yang paling benar.

- Berikut ini termasuk teknologi komunikasi modern, yaitu ....
  - telepon
  - kentongan
  - internet
  - satelit
- Banyaknya perusahaan atau industri asing di Indonesia merupakan bukti globalisasi di bidang ....
  - telekomunikasi
  - politik
  - ekonomi
  - sosial
- Berikut ini bukti globalisasi di bidang kependudukan, yaitu ....
  - berdirinya perusahaan asing di Indonesia
  - perpindahan penduduk antarnegara
  - terjadinya pasar bebas
  - menggunakan alat komunikasi modern
- Berikut ini pengaruh positif dari globalisasi, yaitu ....
  - teknologi komunikasi berkembang pesat
  - gaya hidup konsumtif
  - hidup boros
  - mengonsumsi makanan cepat saji

5. Berikut ini dampak globalisasi yang harus kita tolak, yaitu ....
  - a. komunikasi lebih mudah
  - b. berani bersaing
  - c. pergaulan bebas
  - d. kerja keras
6. Berikut ini salah satu cara menyikapi dampak globalisasi, yaitu ....
  - a. meniru gaya hidup konsumtif
  - b. menerima semua budaya barat tanpa menyeleksi
  - c. meniru pengaruh globalisasi yang positif
  - d. memanfaatkan teknologi komunikasi untuk kejahatan
7. Berikut ini peranan aktif Indonesia dalam era globalisasi di bidang ekonomi, yaitu ....
  - a. bergabung dalam perdagangan dunia
  - b. menjaga keamanan dunia
  - c. mengirimkan TKI ke luar negeri
  - d. melakukan pertukaran pelajar
8. Peranan Indonesia dalam era globalisasi di bidang transportasi, yaitu ....
  - a. mengirimkan duta kebudayaan
  - b. membuka jalur penerbangan internasional
  - c. menawarkan kerja sama dengan investor asing
  - d. melakukan kerja sama dengan tentara negara lain
9. Alasan berdirinya perusahaan asing di Indonesia, adalah ....
  - a. upah tenaga kerja tinggi
  - b. harga tanah lebih mahal
  - c. tersedianya bahan baku
  - d. pajaknya tinggi
10. Berikut ini adalah contoh perusahaan asing di Indonesia, yaitu ....
  - a. Bank Rakyat Indonesia
  - b. PT Telkom
  - c. PT Pertamina
  - d. PT Freeport
11. Dampak positif berdirinya perusahaan asing bagi Indonesia di bidang tenaga kerja, yaitu ....
  - a. mengurangi pengangguran
  - b. meningkatkan devisa negara
  - c. kebutuhan dalam negeri tercukupi
  - d. pencemaran lingkungan
12. Berikut ini dampak negatif dari berdirinya perusahaan asing di Indonesia, yaitu ....
  - a. meningkatkan pendapatan masyarakat
  - b. mengurangi pengangguran
  - c. perusahaan dalam negeri tidak berkembang
  - d. meningkatkan devisa
13. Berikut ini dampak negatif dari perusahaan asing dalam bidang ekonomi, yaitu ....
  - a. pencemaran lingkungan
  - b. hasil keuntungannya dibawa ke negara asal
  - c. berubahnya pola kehidupan masyarakat
  - d. masyarakat Indonesia hanya menjadi karyawan biasa

14. Pengaruh negatif globalisasi terhadap perilaku berkomunikasi, yaitu ....
  - a. berkomunikasi menggunakan telepon
  - b. kepedulian sosial meningkat
  - c. komunikasi semakin indah
  - d. hubungan silaturahmi mulai renggang
15. Berikut ini perubahan perilaku terhadap nilai-nilai budaya akibat globalisasi, yaitu ....
  - a. masyarakat lebih suka menonton film-film barat
  - b. masyarakat lebih suka menonton wayang
  - c. pesta pernikahan menggunakan adat jawa
  - d. hidup bergotong royong

**B. Isilah titik-titik dengan jawaban paling benar.**

1. Globalisasi adalah ....
2. Berbicara menggunakan telepon merupakan perubahan perilaku masyarakat dalam ...
3. Kerugian dari adanya perusahaan asing bagi lingkungan hidup adalah ....
4. Mengenakan celana jeans merupakan perubahan perilaku masyarakat dalam ....
5. Keuntungan Indonesia yang berada di jalur perdagangan dunia adalah ....
6. Kemajuan teknologi komunikasi membuat hubungan komunikasi lebih ....
7. Keuntungan adanya perusahaan asing di bidang tenaga kerja adalah ....
8. Melakukan pertukaran mahasiswa dan pelajar merupakan peran aktif Indonesia dalam bidang ....
9. Peran aktif Indonesia di era global dalam bidang transportasi adalah ....
10. Menyaksikan siaran langsung piala dunia melalui televisi merupakan bukti globalisasi di bidang ....

**C. Jawablah pertanyaan-pertanyaan berikut ini dengan benar.**

1. Sebutkan bukti globalisasi yang terdapat di sekitarmu.
2. Jelaskan perubahan perilaku pola makan masyarakat akibat pengaruh globalisasi.
3. Sebutkan cara kamu menyikapi pengaruh globalisasi.
4. Sebutkan peranan Indonesia di era globalisasi dalam bidang ekonomi.
5. Sebutkan empat alasan berdirinya perusahaan asing di Indonesia.





# KEGIATAN EKSPOR DAN IMPOR

## Kata Kunci

◆ devisa ◆ ekspor ◆ impor



Sumber: [img424.imageshack.us](https://img424.imageshack.us)

Kegiatan ekspor dan impor menandai terbukanya jalur perdagangan suatu negara





Pernahkah kamu mendengar istilah ekspor dan impor? Kegiatan ekspor dan impor berhubungan erat dengan kegiatan perdagangan. Kegiatan ekspor dan impor tidak jauh berbeda dengan kegiatan jual beli. Kegiatan ekspor dan impor sifatnya lebih luas. Oleh karena melibatkan jual beli antarnegara.

Materi dalam bab ini membahas kegiatan ekspor dan impor. Khususnya kegiatan ekspor dan impor negara Indonesia. Selain itu, juga dibahas manfaat dari kegiatan tersebut. Mari mempelajarinya dengan saksama.

## A. Pengertian Ekspor dan Impor




Ekspor adalah kegiatan menjual barang atau jasa ke luar negeri. Orang yang melakukan kegiatan ekspor disebut dengan eksportir. Adapun barang yang dijual dikenal sebagai barang ekspor.

Melimpahnya sumber daya alam suatu negara melatarbelakangi kegiatan ekspor. Sebagai contoh negara Indonesia melimpah akan minyak bumi dan hasil pertanian. Selain untuk mencukupi kebutuhan di dalam negeri, sebagian juga diekspor ke luar negeri.

Impor merupakan kebalikan dari ekspor. Impor adalah kegiatan membeli barang dari luar negeri. Orang yang melakukan kegiatan impor disebut sebagai importir. Adapun barang yang dibeli dari luar negeri disebut barang impor.

Keterbatasan sumber daya alam dan sumber daya manusia menjadi alasan dilakukan impor. Contohnya adalah Indonesia belum bisa memproduksi barang-barang elektronik dan barang otomotif seperti mobil, sepeda motor, dan lain-lain. Oleh karena itu, Indonesia mengimpor barang-barang tersebut dari negara lain.

Kegiatan ekspor dan impor dilakukan melalui pelabuhan laut. Salah satu pelabuhan di Indonesia yang menjadi tempat kegiatan ekspor dan impor adalah pelabuhan Tanjung Priok.



Sumber: [www.papuapos.com](http://www.papuapos.com)

**Gambar 6.1** Tanjung Priok merupakan salah satu pelabuhan di Indonesia yang menjadi tempat kegiatan ekspor dan impor

## B. Kegiatan Ekspor dan Impor Indonesia



Negara Indonesia kaya akan sumber daya alam. Terutama hasil tambang dan hasil pertanian. Hasil tambang dan hasil pertanian sebagian untuk mencukupi kebutuhan dalam negeri. Sebagian diekspor ke luar negeri. Indonesia masih mempunyai keterbatasan di bidang sumber daya manusia. Terutama untuk memproduksi barang-barang elektronik dan barang-barang otomotif. Oleh karena itu, Indonesia mengimpor barang-barang tersebut dari negara lain.

Kegiatan ekspor dan impor bisa berupa barang dan jasa. Berikut ini barang serta jasa yang diekspor dan diimpor oleh Indonesia.

## 1. Barang dan Jasa yang Diekspor oleh Indonesia

Barang yang diekspor oleh Indonesia terdiri atas dua macam. Di antaranya barang migas dan nonmigas. Barang migas berupa minyak dan gas bumi. Adapun barang nonmigas, yaitu hasil pertanian, hasil industri, dan hasil tambang (selain minyak dan gas bumi).

Indonesia merupakan salah satu negara pengekspor minyak bumi. Negara Indonesia tergabung ke dalam perhimpunan negara-negara pengekspor minyak bumi atau OPEC (*Organization of Petroleum Exporting Countries*).

Hasil industri Indonesia yang diekspor, antara lain rokok, kertas, suku cadang telkom, tekstil dan pakaian jadi, semen, pupuk, kayu lapis, kerajinan kulit, ukir-ukiran, dan anyaman rotan.

Barang-barang hasil perkebunan yang diekspor, antara lain tembakau, teh, karet, kelapa sawit, kopra, lada, cokelat, kopi, cengkih, dan pala.



Sumber: [www.dnet.net.id](http://www.dnet.net.id)

**Gambar 6.2** Cengkeh merupakan komoditas ekspor Indonesia



Sumber: [www.atn-center.org](http://www.atn-center.org)

**Gambar 6.3** Salah satu hasil perkebunan Indonesia yang diekspor ke luar negeri yaitu kelapa sawit

Barang-barang hasil hutan yang diekspor Indonesia, yaitu rotan, kayu, dan damar. Adapun hasil laut yang diekspor Indonesia, antara lain udang, ikan segar, dan ikan kaleng.

Perhatikan Tabel 6.1 berikut. Tabel tersebut berisi barang-barang yang diekspor oleh Indonesia dan negara tujuannya.

**Tabel 6.1** Barang-barang Ekspor Indonesia dan Negara Tujuannya

No.	Barang yang Diekspor	Negara Tujuan
1.	Minyak bumi	Malaysia, Filipina, Singapura, Australia, Cina, dan Jepang
2.	Gas bumi	Jepang, Singapura, Korea Selatan, dan Taiwan
3.	Rokok	Brunei Darussalam
4.	Suku cadang Telkom	Singapura
5.	Tekstil dan pakaian jadi	Brunei Darussalam, Thailand, Australia, negara BENELUX (Belgia, Nederland, Luxemburg), Jepang, Arab Saudi, Singapura, dan Hong Kong
6.	Semen	Thailand, Filipina, dan Cina
7.	Kayu lapis	Thailand, Singapura, Australia, Cina, negara BENELUX, Jepang, Korea Selatan, Taiwan, dan Hong Kong
8.	Pupuk	Malaysia, Thailand, Filipina, dan Australia
9.	Tembaga	Jepang, Korea Selatan, Singapura, Thailand, dan Cina
10.	Timah putih	Belanda, Inggris, Singapura, dan Korea Selatan
11.	Kopi	Singapura, Jepang, Amerika Serikat, dan negara BENELUX
12.	Teh	Singapura dan Pakistan
13.	Tembakau	Malaysia, Jepang, dan Amerika Serikat
14.	Karet	Singapura, Jepang, Amerika Serikat, dan negara BENELUX
15.	Kayu	Singapura, Hong Kong, Jepang, dan Thailand
16.	Udang	Malaysia, Singapura, Jepang, dan Hong Kong

Indonesia juga mengekspor jasa ke luar negeri. Adapun jasa yang diekspor oleh Indonesia, antara lain jasa tenaga kerja, jasa penerbangan, dan jasa pariwisata. Contoh ekspor jasa tenaga kerja, yaitu Indonesia mengirimkan Tenaga Kerja Indonesia (TKI). Sebelum dikirim ke luar negeri para tenaga kerja tersebut diberikan pelatihan kerja. Negara-negara tujuannya, antara lain Malaysia, Arab Saudi, Hong Kong, Korea Selatan, Taiwan, dan Kuwait.

Ekspor jasa penerbangan, contohnya Indonesia membuka jalur penerbangan ke negara-negara lain seperti Jakarta–Singapura, Jakarta–Malaysia, Jakarta–Arab Saudi, dan lain-lain.



Sumber: [www.tempointeraktif.com](http://www.tempointeraktif.com)

**Gambar 6.4** Tenaga Kerja Indonesia yang akan bekerja di negara lain

Di bidang pariwisata negara Indonesia memperkenalkan daerah wisatanya ke negara-negara lain. Dengan demikian, warga negara lain tertarik datang ke Indonesia untuk berwisata. Sekaligus juga menikmati keindahan alamnya. Salah satu daerah wisata Indonesia yang terkenal hingga mancanegara adalah pulau Bali dan Lombok. Pulau Bali terkenal dengan keindahan alam dan budayanya. Pulau Lombok terkenal dengan ombak laut yang cocok digunakan bagi peselancar.



Sumber: my-indonesia.info

**Gambar 6.5** Keindahan pantai Senggigi, Lombok

## 2. Barang dan Jasa yang Diimpor oleh Indonesia

Indonesia juga melakukan kegiatan impor barang dan jasa. Hal ini disebabkan karena terbatasnya sumber daya manusia. Terutama untuk memproduksi beberapa barang kebutuhan dalam negeri.

Barang-barang yang diimpor Indonesia sebagian besar barang elektronik. Di antaranya televisi, radio, lemari es, dan lain-lain. Di samping itu, juga mengimpor barang-barang otomotif, seperti mobil, sepeda motor, kapal laut, dan lain-lain. Berikut ini tabel beberapa barang yang diimpor oleh Indonesia dan negara asalnya.

**Tabel 6.2** Tabel Barang yang Diimpor oleh Indonesia dan Negara Asal

No.	Negara Asal	Barang yang Diimpor
1.	Jepang	Mobil, sepeda motor, suku cadang mesin, suku cadang kereta api, alat-alat elektronik, kapal laut, alat-alat berat, pipa besi, baja, dan bahan kimia.
2.	Korea Selatan	Sepeda motor, mesin industri, dan baja
3.	Thailand	Beras
4.	Negara BENELUX	Alat-alat elektronik, suku cadang mesin, dan pesawat terbang
5.	Jerman	Mobil, alat-alat elektronik, mesin industri, obat-obatan, dan insektisida
6.	Australia	Gandum

Selain barang, Indonesia juga mengimpor jasa dari luar negeri. Sebagai contoh, jasa tenaga konsultan, tenaga ahli, jasa penerbangan, jasa pendidikan, dan jasa modal.

Banyak perusahaan di Indonesia yang mendatangkan tenaga konsultan dari luar negeri. Misalnya, tenaga konsultan keuangan. Beberapa badan penelitian di Indonesia seperti LIPI (Lembaga Ilmu Pengetahuan Indonesia), LAPAN (Lembaga Penerbangan dan Antariksa Nasional), dan BATAN (Badan Tenaga Atom Nasional) mendatangkan tenaga ahli dari luar negeri.

Jasa penerbangan Indonesia membuka jalur penerbangan internasional. Dengan demikian, banyak maskapai penerbangan negara lain yang masuk ke Indonesia. Adapun jasa pendidikan, misalnya mendatangkan tenaga pengajar dari luar negeri. Indonesia juga menerima bantuan modal dari negara lain. Hal tersebut disebut dengan jasa modal.



Sumber: [www.bikebros.co.jp](http://www.bikebros.co.jp)

**Gambar 6.6** Kendaraan bermotor merupakan salah satu barang yang diimpor oleh Indonesia

## Tugas

- Carilah berita di surat kabar atau sumber lain mengenai barang-barang yang diekspor Indonesia! Tuliskan nama barang dan negara tujuan. Buatlah ke dalam tabel seperti di bawah ini! Bandingkan dengan hasil kerja temanmu.

No.	Nama Barang	Negara Tujuan
1.		
2.		
3.		
4.		
5.		

- Sebutkan barang-barang impor yang ada rumah dan sekitar tempat tinggalmu! Tuliskan nama barang dan negara yang memproduksi barang tersebut ke dalam tabel seperti di bawah ini! Bandingkan dengan hasil kerja temanmu.

No.	Nama Barang	Negara Asal
1.		
2.		
3.		
4.		
5.		

## C. Manfaat Kegiatan Ekspor dan Impor



Kegiatan ekspor dan impor melibatkan dua negara atau lebih. Kegiatan ini akan memberikan manfaat bagi negara pengekspor maupun pengimpor. Beberapa manfaat yang diperoleh dari kegiatan ekspor dan impor, antara lain

1. barang produksi negara kita akan dikenal oleh negara lain,
2. membantu mencukupi kebutuhan negara lain,
3. meningkatkan devisa negara,
4. barang dari luar negeri dapat memenuhi kebutuhan dalam negeri,
5. mempererat hubungan ekonomi dan persahabatan antara negara-negara di dunia, dan
6. meningkatkan produksi kedua negara.

### Tugas

Bentuklah kelompok yang terdiri atas 3–5 orang! Diskusikan pertanyaan berikut.

1. Apakah sebuah negara bisa hidup tanpa kegiatan ekspor dan impor?
2. Ungkapkan alasannya!

### Kilas Sosial

Tahukah kamu tanaman cengkeh itu? Tanaman cengkeh sempat menjadi primadona ekspor Indonesia. Mari kita berkenalan dengan tanaman cengkeh.

Cengkeh merupakan tanaman asli Indonesia, yang pada awalnya merupakan komoditas ekspor, berubah posisi menjadi komoditas yang harus diimpor karena pesatnya perkembangan industri rokok kretek. Industri rokok kretek sendiri, berkembang sejak akhir abad ke-19. Tingginya kebutuhan devisa untuk memenuhi kebutuhan mengakibatkan ditetapkannya program swasembada cengkeh pada tahun 1970.

Indonesia dikenal sebagai salah satu negara penghasil rempah, salah satunya adalah tanaman cengkeh. Tanaman tropis yang berasal dari Maluku ini sudah banyak dibudidayakan untuk diambil bunga dan minyaknya.

Minyak cengkeh (*Eugenia aromatica*) dapat dihasilkan dari penyulingan serbuk kuntum cengkeh kering (*clove oil*), serbuk tangkai kuntum cengkeh (*clove stem oil*), dan daun cengkeh kering (*clove leaf oil*).

Tanaman cengkeh dapat tumbuh dengan baik di daerah beriklim tropis. Minyak cengkeh banyak dimanfaatkan oleh dokter gigi sebagai penghilang rasa sakit. Selain itu, tanaman ini juga digunakan dalam industri farmasi, penyedap masakan, dan wewangian.



Sumber: [www.dnet.net.id](http://www.dnet.net.id)

Sifat kimiawi dan farmakologis dari cengkeh adalah hangat, rasanya tajam, aromatik, berhasiat sebagai perangsang (stimulan), antiseptik, peluruh kentut (*icarminative*), anestetik, lokal, menghilangkan kolik, dan obat batuk. Kandungan kimia pada cengkeh adalah karbohidrat, kalsium, fosfor, zat besi, vitamin B1, lemak, protein, dan eugenol.

*Sumber: www.deptan.go.id dan www.jamitra.com*

## D. Mencintai Produk dalam Negeri



Saat ini terdapat beragam barang yang dijual. Kita semakin mudah untuk mendapatkannya. Seringkali terdapat barang hasil produksi negara lain atau barang impor yang dijual di Indonesia. Mulai dari makanan, minuman, alat kosmetik, alat-alat elektronik, dan lain-lain.

Banyak orang menganggap bahwa barang impor kualitasnya lebih bagus. Terlebih jika dibandingkan barang-barang produksi dalam negeri. Anggapan seperti itu tidaklah benar karena barang buatan luar negeri kualitasnya belum tentu bagus. Contohnya beberapa permen dan pasta gigi dari Cina ternyata mengandung bahan berbahaya. Oleh karena itu, pemerintah Indonesia menarik produk makanan buatan Cina dari pasaran. Pemerintah juga melarang masyarakat mengonsumsi dan memakai barang-barang yang mengandung bahan berbahaya bagi tubuh manusia. Contoh lain, yaitu kosmetik buatan luar negeri yang mengandung bahan berbahaya bagi tubuh manusia.

Hal ini membuktikan bahwa produk luar negeri kualitasnya belum tentu bagus. Kualitas barang-barang produksi dalam negeri sebenarnya tidak kalah dengan produk luar negeri. Hal ini terbukti dari banyak barang buatan dalam negeri yang diekspor. Bahkan tidak sedikit negara yang sengaja memesan barang-barang buatan Indonesia. Dengan demikian, terbukti barang buatan Indonesia kualitasnya tidak kalah bagus.

Apabila negara lain mengakui kualitas produk Indonesia itu bagus, mengapa kita tidak? Kita harus bangga menggunakan produksi dalam negeri. Dengan membeli produk dalam negeri berarti kita ikut memajukan perekonomian dalam negeri. Bangga menggunakan produk dalam negeri adalah perilaku terpuji. Hal itu berarti kita telah menunjukkan kebanggaan sebagai warga negara Indonesia. Oleh karena itu, mulai sekarang kita harus bangga dan mencintai produk dalam negeri.

### Kilas Sosial

Apakah makanan kegemaranmu? Apakah kamu lebih menyukai tempe daripada hamburger? Tempe merupakan makanan khas bangsa kita. Rasanya juga tidak kalah lezat dibandingkan makanan dari luar negeri seperti hamburger. Bahkan, kandungan gizinya amat baik. Nah, mencintai produk dalam negeri dapat kamu terapkan dalam kehidupan sehari-hari.



## Tugas

Buatlah tabel mengenai barang buatan dalam negeri dan barang buatan luar negeri yang ada di rumahmu! Selanjutnya, bandingkan lebih banyak barang buatan dalam negeri atau barang buatan luar negeri!

Barang Buatan Dalam Negeri	Barang Buatan Luar Negeri
Jumlah:	Jumlah:

## Refleksi

Sudahkah kamu memahami kegiatan ekspor-impor di Indonesia? Tumbuhkan rasa bunga ketika memakai produk dalam negeri. Dengan demikian, bangsa ini akan semakin maju.

Diskusikan dengan teman dan gurumu jika ada hal yang belum kamu pahami.

## Rangkuman

Ekspor adalah kegiatan menjual barang ke luar negeri. Adapun impor adalah kegiatan membeli barang dari luar negeri.

Barang-barang ekspor Indonesia terdiri atas dua macam, yaitu migas dan nonmigas. Barang migas, yaitu minyak dan gas bumi. Adapun nonmigas, yaitu barang-barang hasil pertanian, perkebunan, hasil industri, hasil tambang (selain minyak dan gas bumi). Indonesia juga mengekspor jasa, yaitu jasa tenaga kerja, jasa penerbangan, dan pariwisata.

Barang-barang impor Indonesia, antara lain alat-alat elektronik, mobil, sepeda motor, mesin industri, kapal laut, dan suku cadang mesin. Adapun impor berupa jasa, yaitu tenaga ahli, tenaga konsultan, jasa penerbangan, jasa pendidikan, dan jasa modal.

Manfaat ekspor dan impor, antara lain produk dalam negeri dikenal oleh negara lain, membantu mencukupi kebutuhan negara lain, meningkatkan devisa, memperlancar hubungan ekonomi, dan persahabatan antarnegara di dunia.

Produk Indonesia kualitasnya tidak kalah dengan produk luar negeri. Oleh karena itu, kita harus bangga menggunakan produk dalam negeri.

## Evaluasi



**Kerjakan di buku latihanmu!**

### **A. Pilihlah jawaban yang paling benar.**

1. Kegiatan menjual barang ke luar negeri disebut ....
  - a. impor
  - b. importir
  - c. ekspor
  - d. eksportir
2. Orang yang membeli atau mendatangkan barang dari luar negeri disebut ....
  - a. impor
  - b. importir
  - c. ekspor
  - d. eksportir
3. Indonesia mengimpor gandum dari negara ....
  - a. Jepang
  - b. Australia
  - c. Cina
  - d. Korea Selatan
4. Berikut ini barang ekspor Indonesia, yaitu ....
  - a. mobil
  - b. minyak bumi
  - c. kedelai
  - d. obat-obatan
5. Berikut ini termasuk barang migas, yaitu ...
  - a. emas
  - b. batu bara
  - c. gas bumi
  - d. timah
6. Berikut ini contoh ekspor jasa oleh Indonesia, yaitu ....
  - a. mengirimkan TKI
  - b. mengirimkan tenaga ahli
  - c. penerbangan ke Singapura
  - d. pinjaman modal
7. Berikut ini salah satu negara tujuan para TKI dan TKW, yaitu ....
  - a. Amerika Serikat
  - b. Belanda
  - c. Australia
  - d. Malaysia
8. Berikut ini salah satu barang impor Indonesia, yaitu ....
  - a. kopi
  - b. tembakau
  - c. sepeda motor
  - d. kayu lapis
9. Berikut ini jasa yang diimpor Indonesia, yaitu ....
  - a. TKW
  - b. tenaga konsultan
  - c. tenaga pengajar
  - d. pinjaman modal
10. Berikut ini barang yang diimpor Indonesia dari Thailand, yaitu ....
  - a. kopi
  - b. beras
  - c. mobil
  - d. kapal laut

11. Organisasi negara-negara pengekspor minyak bumi disebut ....
  - a. WHO
  - b. OPEC
  - c. ILO
  - d. APEC
12. Suku cadang Telkom buatan Indonesia diekspor ke ....
  - a. Jepang
  - b. Belanda
  - c. Korea Selatan
  - d. Singapura
13. Berikut ini manfaat dari kegiatan ekspor bagi Indonesia, yaitu ....
  - a. meningkatkan devisa negara
  - b. kebutuhan rakyat Indonesia tercukupi
  - c. hubungan antara negara menjadi renggang
  - d. menghabiskan biaya produksi
14. Berikut ini manfaat dari kegiatan impor bagi Indonesia, yaitu ....
  - a. meningkatkan devisa negara
  - b. menghabiskan biaya produksi
  - c. barang buatan Indonesia dikenal oleh negara lain
  - d. kebutuhan masyarakat Indonesia tercukupi
15. Berikut ini pernyataan yang benar mengenai produk Indonesia, yaitu ....
  - a. produk Indonesia kualitasnya tidak kalah dengan produk luar negeri
  - b. produk Indonesia kalah dibandingkan produk dari luar negeri
  - c. produk Indonesia jarang diminati oleh negara lain
  - d. produk Indonesia tidak diekspor ke luar negeri

**B. Isilah titik-titik dengan jawaban paling benar.**

1. Kegiatan membeli atau mendatangkan barang dari luar negeri disebut ....
2. Orang atau badan yang menjual barang ke luar negeri disebut ....
3. Berkat kegiatan ekspor dan impor hubungan antarnegara menjadi ....
4. Barang migas, yaitu ... dan ....
5. Ekspor jasa tenaga kerja oleh Indonesia contohnya ... dan ....
6. Negara yang membeli teh Indonesia, antara lain ... dan ....
7. Negara BENELUX, yaitu ..., ... dan ....
8. Indonesia mengekspor rokok ke negara ....
9. Kegiatan mengekspor barang akan meningkatkan ....
10. Membeli produk dalam negeri berarti kita telah ikut memajukan ....

**C. Jawablah pertanyaan-pertanyaan berikut ini dengan benar.**

1. Apa alasan suatu negara melakukan ekspor?
2. Sebutkan barang nonmigas Indonesia yang diekspor.
3. Sebutkan barang yang diimpor Indonesia dari Jepang.
4. Sebutkan manfaat dari kegiatan ekspor dan impor.
5. Sukakah kamu terhadap barang buatan dalam negeri? Ungkapkan alasannya.



### Kerjakan di buku latihanmu!

#### A. Pilihlah jawaban yang paling benar.

- Berikut ini provinsi baru hasil pemekaran Provinsi Sulawesi Selatan, yaitu ....
  - Gorontalo
  - Sulawesi Tenggara
  - Sulawesi Utara
  - Sulawesi Barat
- Batas Zona Ekonomi Eksklusif (ZEE) Indonesia, yaitu sejauh ....
  - 200 mil
  - 20 mil
  - 200 km
  - 12 mil
- Negara di Asia Tenggara yang belum pernah mengalami penjajahan, yaitu ....
  - Indonesia
  - Singapura
  - Brunei Darussalam
  - Thailand
- Berikut ini negara di Asia Tenggara yang berbentuk kepulauan, yaitu ....
  - Indonesia
  - Swiss
  - Kanada
  - Timor Leste
- Puncak tertinggi Pegunungan Himalaya, yaitu ....
  - Gunung Aconcagua
  - Puncak Jaya
  - Gunung Everest
  - Gunung Elbert
- Gurun yang terdapat di Benua Asia, yaitu ....
  - Gurun Sahara
  - Gurun Gobi
  - Gurun Victoria
  - Gurun Gibson
- Berikut ini gejala alam diakibatkan ulah manusia adalah ....
  - angin topan
  - banjir
  - gempa bumi
  - gunung meletus
- Negara yang juga dilanda tsunami pada tahun 2004, yaitu ....
  - Papua Nugini
  - Malaysia
  - Filipina
  - Sri Lanka
- Berikut ini tanda-tanda alam gunung akan meletus, yaitu ....
  - hewan liar naik ke lereng gunung
  - sumber air melimpah
  - udara terasa sejuk
  - udara di sekitar gunung terasa panas
- Berikut ini penyebab terjadinya tanah longsor, yaitu ....
  - penambangan liar di lereng bukit
  - membuang sampah sembarangan
  - membuat api unggun di hutan
  - reboisasi

11. Berikut ini cara menghadapi gempa bumi, yaitu ....
  - a. mencari tempat yang lebih tinggi
  - b. berlindung di bawah pohon
  - c. berlindung di bawah meja
  - d. diam di dalam rumah
12. Gejala alam akibat pergeseran lempeng permukaan bumi disebut ....
  - a. gunung meletus
  - b. angin topan
  - c. gempa bumi
  - d. tanah longsor
13. Berikut ini cara menghadapi badai saat sedang naik kendaraan, yaitu ....
  - a. menambah kecepatan
  - b. berhenti di bawah pohon
  - c. berhenti di bawah papan iklan
  - d. berhenti di tempat terbuka
14. Gejala alam yang juga rawan terjadi di Filipina, yaitu ....
  - a. gunung meletus
  - b. badai
  - c. gempa bumi
  - d. lumpur panas
15. Berikut ini cara mencegah banjir, yaitu ....
  - a. membuang sampah di sungai
  - b. menebang pohon secara liar
  - c. membuat daerah-daerah serapan air
  - d. membuang sampah ke sungai
16. Berikut ini dampak positif globalisasi, yaitu ....
  - a. kerja keras
  - b. hidup konsumtif
  - c. komunikasi sulit
  - d. transportasi menjadi mahal
17. Berikut ini dampak globalisasi terhadap pola makan masyarakat, yaitu ....
  - a. masyarakat lebih suka menggunakan kaus
  - b. masyarakat mengonsumsi makanan cepat saji
  - c. masyarakat berkomunikasi menggunakan telepon selular
  - d. masyarakat lebih suka berbelanja di mal
18. Berikut ini peran aktif Indonesia dalam era globalisasi di bidang ekonomi, yaitu ....
  - a. tergabung sebagai anggota OPEC
  - b. latihan bersama dengan tentara negara lain
  - c. melakukan pertukaran pelajar
  - d. mengirimkan misi kebudayaan ke luar negeri
19. Berikut ini cara menyikapi dampak negatif globalisasi, yaitu ....
  - a. meniru
  - b. tidak peduli
  - c. menolak
  - d. menerima
20. Berikut ini contoh perusahaan asing yang ada di Indonesia, yaitu ....
  - a. PT Freeport
  - b. PT Telkom
  - c. Bank BRI
  - d. PT Pertamina

21. Berikut ini alasan berdirinya perusahaan asing di Indonesia, yaitu ....
- sumber daya alamnya terbatas
  - tenaga kerja yang mahal
  - pajaknya tinggi
  - harga tanah murah
22. Berikut ini dampak positif adanya perusahaan asing di Indonesia, yaitu ....
- pengangguran bertambah
  - meningkatnya penghasilan masyarakat
  - pencemaran lingkungan
  - menurunnya devisa negara
23. Berikut ini dampak negatif adanya perusahaan asing di Indonesia, yaitu ....
- pencemaran lingkungan
  - masyarakat Indonesia menjadi tenaga ahli
  - perusahaan dalam negeri berkembang
  - penghasilan masyarakat meningkat
24. Orang atau badan yang menjual barang ke luar negeri disebut ....
- investor
  - importir
  - eksportir
  - pengusaha
25. Berikut ini jasa yang diekspor Indonesia, yaitu ....
- pinjaman modal
  - objek wisata
  - transportasi udara
  - TKI dan TKW
26. Berikut ini termasuk barang migas, yaitu ....
- minyak bumi
  - kelapa sawit
  - kopi
  - teh
27. Berikut ini barang yang diimpor oleh Indonesia dari Jepang, yaitu ....
- kopi
  - gandum
  - beras
  - sepeda motor
28. Indonesia mengimpor beras dari ....
- Australia
  - Thailand
  - Cina
  - Korea Selatan
29. Keuntungan kegiatan impor bagi Indonesia, yaitu ....
- menambah devisa negara Indonesia
  - kebutuhan dalam negeri tercukupi
  - mengurangi pengangguran
  - mengurangi jumlah produksi
30. Indonesia mengekspor suku cadang telkom ke negara ....
- Brunei Darussalam
  - Thailand
  - Singapura
  - Belanda

**B. Isilah titik-titik dengan jawaban paling benar.**

1. Gorontalo merupakan pemekaran dari provinsi ....
2. Sungai yang mengalir dari Vietnam, Laos hingga Kamboja, yaitu ....
3. Benua yang sekaligus wilayah satu negara, yaitu ....
4. Kenampakan alam buatan yang terkenal di Mesir, yaitu ... dan ....
5. Gempa bumi akibat pergeseran lempeng permukaan bumi disebut ....
6. Gempa yang terjadi di tengah laut dapat menyebabkan gejala alam ....
7. Pengaruh negatif globalisasi harus kita ....
8. Bekerja sama dengan investor asing merupakan peranan Indonesia di era globalisasi dalam bidang ....
9. Berlindung di bawah meja merupakan salah satu cara menghadapi ....
10. Mengurangi pengangguran merupakan keuntungan adanya perusahaan asing di bidang ....
11. Orang atau badan yang membeli barang dari luar negeri disebut ....
12. Minyak dan gas bumi disebut dengan barang ....
13. Indonesia mengimpor gandum dari ....
14. Organisasi negara-negara pengekspor minyak bumi disebut ....
15. Menyaksikan pertandingan olahraga langsung di televisi adalah globalisasi di bidang ....

**C. Jawablah pertanyaan-pertanyaan berikut ini dengan benar.**

1. Sebutkan gejala alam yang pernah terjadi di daerahmu.
2. Jelaskan dampak globalisasi terhadap perilaku pola makan masyarakat.
3. Sebutkan alasan berdirinya perusahaan asing di Indonesia.
4. Sebutkan 10 barang yang diekspor oleh Indonesia.
5. Sebutkan manfaat kegiatan ekspor dan impor.



## GLOSARIUM

**aborigin**

penduduk asli Australia

**ASEAN**

*Association of South East Asian Nation*

**benua**

dataran yang sangat luas

**daerah otonom**

daerah yang mempunyai kewenangan untuk mengatur dan mengurus masyarakat setempat menurut prakarsa sendiri berdasarkan aspirasi masyarakat

**dominion**

persemakmuran

**desentralisasi**

penyerahan wewenang pemerintah oleh pemerintah kepada daerah otonom

**devisa**

alat pembayaran dalam perdagangan internasional

**ekspor**

menjual barang ke luar negeri

**eksportir**

orang yang melakukan kegiatan ekspor

**e-mail**

mengirim surat melalui internet

**episentrum**

titik pusat terjadinya gempa

**evakuasi**

memindahkan korban bencana alam ke tempat yang lebih aman

**gejala sosial**

masalah yang muncul di dalam kehidupan sosial atau di dalam masyarakat

**gempa tektonik**

gempa yang disebabkan oleh pergeseran lempengan permukaan bumi

**gempa vulkanik**

gempa yang disebabkan oleh letusan gunung berapi

**globalisasi**

proses mendunia

**impor**

membeli barang dari luar negeri



**investor**

orang yang memberikan modal

**keadaan sosial**

keadaan penduduk

**kenampakan alam**

permukaan bumi yang terbentuk secara alami

**kenampakan buatan**

kenampakan yang sengaja dibuat oleh manusia

**KPU**

Komisi Pemilihan Umum

**letak astronomi**

letak suatu daerah berdasarkan garis lintang dan garis bujur

**migas**

minyak dan gas bumi

**oase**

mata air di padang pasir

**OPEC**

*Organization of Petroleum Exporting Countries* (organisasi negara-negara pengekspor minyak bumi)

**pegunungan**

barisan dari beberapa gunung

**pemekaran**

pembentukan daerah baru

**PERBARA**

Perhimpunan Bangsa-bangsa Asia Tenggara

**skala Richter**

satuan pengukuran gempa

**selat**

lautan sempit di antara dua pulau

**tsunami**

gelombang besar akibat gempa di dasar laut

**wadi**

lembah sungai kering yang terdapat air pada waktu hujan saja

**ZEE**

Zona Ekonomi Eksklusif



## DAFTAR PUSTAKA

Bale, Win. 2002. *Atlas Pelajar Indonesia dan Dunia*. Jakarta: Erlangga.

Gayo, Iwan. 1999. *Buku Pintar Nasional*. Jakarta: Upaya Warga Negara.

Kurniati, dkk. 2003. *Atlas Indonesia Baru*. Jakarta: PT Fitratama Sempana.

Redaksi Ensiklopedi Indonesia. 1992. *Ensiklopedi Indonesia, Seri Geografi*. Jakarta: PT Ichtiar Baru Van Hoeve.

Sugeng HR. 2001. *Rangkuman Ilmu Pengetahuan Lengkap*. Semarang: Aneka Ilmu.

Suryanto, Agus. 2007. *Rangkuman Pengetahuan Umum Lengkap SD*. Yogyakarta: Pustaka Widyatama

\_\_\_\_\_. 2002. *Atlas Indonesia dan Dunia*. Jakarta: CV Buana Raya.

\_\_\_\_\_. 2001. *Album Pahlawan Bangsa*. Jakarta: Mutiara Sumber Widya.

Sumber acuan lain:

*Encarta Reference Library 2006*.

*Wikipedia*, diakses Maret 2008.

*www.Indonesia-Ottawa.org*, diakses tanggal 20 April 2008.

*Konservasipapua.blogspot.com*. diakses tanggal 21 April 2008.



## KUNCI JAWABAN

### BAB 1 PERKEMBANGAN WILAYAH DAN SISTEM PEMERINTAHAN DI INDONESIA

#### A. Pilihan Ganda

- |      |       |       |
|------|-------|-------|
| 1. c | 6. b  | 11. d |
| 2. b | 7. b  | 12. b |
| 3. d | 8. a  | 13. c |
| 4. d | 9. c  | 14. a |
| 5. a | 10. c | 15. a |

#### B. Isian

- |                             |                     |
|-----------------------------|---------------------|
| 1. Mr. Teuku Mohammad Hasan | 6. No. 4 Tahun 1960 |
| 2. Sumatra Tengah           | 7. 200 mil          |
| 3. Ternate                  | 8. Gubernur         |
| 4. Laut Flores              | 9. Konstitusi RIS   |
| 5. 3 mil                    | 10. DPRD Propinsi   |

#### C. Uraian

- Provinsi Sumatra : Mr. Teuku Mohammad Hasan  
Provinsi Kalimantan : Ir. Pangeran Mohammad Noor  
Provinsi Jawa Barat : Sutardjo Kartohadiksumo  
Provinsi Jawa Tengah : R. Panji Soeroso  
Provinsi Jawa Timur : R.A. Soerjo  
Provinsi Sulawesi : Dr. G.S.S.J. Ratulangi  
Provinsi Sunda Kecil : Mr. I Gusti Ketut Pudja  
Provinsi Maluku : Mr. J. Latuharhari
- Improvisasi siswa.
- Dengan cara menarik garis yang sama jauhnya dari garis pantai terluar masing-masing negara.
- Improvisasi siswa.
- Memilih gubernur/waki gubernur, bupati/wakil bupati, walikota/wakil walikota.
  - Memilih anggota MPR dari utusan daerah
  - Mengusulkan pengangkatan dan pemberhentian gubernur/wakil gubernur, bupati/wakil bupati, walikota/wali walikota.
  - Bersama gubernur, bupati atau walikota membentuk peraturan daerah.
  - Melaksanakan pengawasan terhadap pelaksanaan pemerintahan daerah.

## BAB 2 KENAMPAKAN ALAM DAN KEADAAN SOSIAL NEGARA-NEGARA DI ASIA TENGGARA

### A. Pilihan Ganda

- |      |       |       |
|------|-------|-------|
| 1. a | 6. a  | 11. a |
| 2. c | 7. d  | 12. c |
| 3. b | 8. c  | 13. c |
| 4. c | 9. d  | 14. d |
| 5. b | 10. b | 15. d |

### B. Isian

- |                      |                             |
|----------------------|-----------------------------|
| 1. Hose              | 6. Tanah Genting Kra        |
| 2. Cina              | 7. Sungai Irrawady          |
| 3. Daerah perbukitan | 8. Sekitar Sungai Mekhong   |
| 4. Gunung Apo        | 9. Pertanian dan peternakan |
| 5. 3 mil             | 10. Annam                   |

### C. Uraian

1. Improvisasi siswa.
2. Waduk Macritchie, Waduk Pandan, Waduk Pierce, Waduk Seleter.
3. Improvisasi siswa.
4. – Sama-sama negara kepulauan.  
– Daerahnya berupa pegunungan.  
– Terdapat gunung-gunung berapi yang masih aktif.  
– Memiliki banyak laut, selat, teluk, dan tanjung.
5. Pegunungan Kumon, Pegunungan Arakan, Pegunungan Tenasserim.

## BAB 3 KENAMPAKAN ALAM DAN KEADAAN SOSIAL NEGARA-NEGARA DI DUNIA

### A. Pilihan Ganda

- |      |       |       |
|------|-------|-------|
| 1. b | 6. b  | 11. a |
| 2. d | 7. c  | 12. b |
| 3. c | 8. b  | 13. b |
| 4. d | 9. d  | 14. c |
| 5. a | 10. a | 15. d |

### B. Isian

- |                    |                    |
|--------------------|--------------------|
| 1. Sungai Nil      | 6. Suku Indian     |
| 2. Gunung Everest  | 7. Bendungan Aswan |
| 3. Pakistan        | 8. Anggur          |
| 4. Oase            | 9. Belanda         |
| 5. Pulau Greenland | 10. Greenwich      |

### C. Uraian

1. Improvisasi guru dan siswa.
2. – Australia Barat ibukotanya Perth  
– Australia Selatan ibukotanya Adelaide  
– Queensland ibukotanya Brisbane  
– New South Wales ibukotanya Sidney  
– Victoria ibukotanya Melbourne  
– Tasmania ibukotanya Hobart  
– Teritorial Australia Utara ibukotanya Darwin  
– Teritorial Australia ibukotanya Canberra
3. Benua Asia, Benua Amerika, Benua Afrika, Benua Eropa, dan Benua Australia
4. Improvisasi guru dan siswa.
5. Improvisasi guru dan siswa

## EVALUASI SEMESTER 1

### A. Pilihan Ganda

- |       |       |       |
|-------|-------|-------|
| 1. d  | 11. b | 21. d |
| 2. b  | 12. a | 22. b |
| 3. d  | 13. d | 23. c |
| 4. a  | 14. b | 25. a |
| 5. c  | 15. d | 26. d |
| 6. c  | 16. a | 27. b |
| 7. d  | 17. a | 28. d |
| 8. a  | 18. b | 29. b |
| 9. b  | 19. c | 30. c |
| 10. d | 20. c | 31. a |

### B. Isian

- |                        |                     |
|------------------------|---------------------|
| 1. Maluku              | 9. Laos             |
| 2. Timor Timur         | 10. Thailand        |
| 3. Sulawesi Utara      | 11. Andes           |
| 4. DPRD Provinsi       | 12. Sahara          |
| 5. Gubernur            | 13. Greenwich       |
| 6. Malaysia            | 14. Arab Saudi      |
| 7. Chao Phraya         | 15. Pegunungan Ural |
| 8. Minyak dan gas bumi |                     |

### C. Uraian

1. – Sumatra : Mr. Teuku Moh. Hasan  
– Kalimantan : Ir. Pangeran Moh. Noor  
– Jawa Barat : Sutardjo Kartohadikusumo  
– Jawa Tengah : R. Pandji Soeroso  
– Jawa Timur : R.A. Soerjo  
– Sulawesi : Dr. G.S.S.J. Ratulangi

- Sunda Kecil : Mr. I Gusti Ketut Pudja
- Maluku : Mr. J. Latuharhari
- 2. Indonesia, Malaysia, Brunei Darussalam, Singapura, Thailand, Filipina, Myanmar, Laos, Vietnam, dan Kamboja.
- 3. Improvisasi guru dan siswa.
- 4.
  - Inggris : London
  - Wales : Cardiff
  - Skotlandia : Edinburg
  - Irlandia Utara : Belfast
- 5. Improvisasi guru dan siswa.

## BAB 4 GEJALA ALAM DI INDONESIA DAN NEGARA TETANGGA

### A. Pilihan Ganda

- |      |       |       |
|------|-------|-------|
| 1. d | 6. d  | 11. a |
| 2. b | 7. a  | 12. c |
| 3. b | 8. b  | 13. b |
| 4. a | 9. d  | 14. d |
| 5. c | 10. c | 15. c |

### B. Isian

- |                                 |                           |
|---------------------------------|---------------------------|
| 1. Gempa vulkanik               | 6. Gunung meletus         |
| 2. Gempa tektonik               | 7. Kenampakan alam        |
| 3. Episentrum                   | 8. Kalimantan dan Sumatra |
| 4. Porong, Sidoarjo, Jawa Timur | 9. Wedhus gembel          |
| 5. Daerah pegunungan            | 10. Banjir                |

### C. Uraian

1. Improvisasi siswa dan guru.
2. Sampah yang menumpuk di sungai akan menghambat aliran air sungai saat turun hujan air sungai tidak bisa mengalir lancar sehingga meluap dan terjadi banjir.
3. Thailand, Sri Lanka, dan India
4.
  - Tidak panik
  - Jika berada di dalam rumah berlindung di bawah meja, kalau gempa sudah reda segera keluar rumah.
  - Cari tempat yang terbuka, jangan berdiri dekat bangunan yang tinggi seperti papan reklame dan gedung bertingkat.
  - Jika sedang naik kendaraan, berhentilah di tempat yang terbuka, jangan berhenti di jembatan.
5. Penebangan pohon di lereng pegunungan secara liar, penebangan di lereng pegunungan secara berlebihan.

## BAB 5 PERANAN INDONESIA PADA ERA GLOBAL

### A. Pilihan Ganda

- |      |       |       |
|------|-------|-------|
| 1. b | 6. c  | 11. a |
| 2. d | 7. a  | 12. c |
| 3. b | 8. b  | 13. b |
| 4. a | 9. d  | 14. d |
| 5. c | 10. d | 15. a |

### B. Isian

- |                          |  |
|--------------------------|--|
| 1. Proses mendunia       | 6. Mudah, cepat, dan praktis               |
| 2. Berkomunikasi         | 7. Mengurangi jumlah pengangguran          |
| 3. Pencemaran lingkungan | 8. Pendidikan dan Kebudayaan               |
| 4. Berpakaian            | 9. Membuka jalur penerbangan internasional |
| 5. Tolak                 | 10. Komunikasi                             |

### C. Uraian

1. Improvisasi siswa dan guru.
2. Masyarakat mengonsumsi makanan cepat saji.
3. Improvisasi siswa dan guru.
4. – Indonesia mengekspor barang-barang produksinya ke luar negeri.  
– Indonesia mengimpor barang-barang kebutuhan dalam negeri.  
– Indonesia menawarkan kerja sama kepada investor asing untuk menanamkan modalnya di Indonesia
5. – Tersedianya tenaga kerja yang murah  
– Tersedianya bahan baku  
– Letak Indonesia yang strategis  
– Rendahnya pajak dan harga tanah di Indonesia

## BAB 6 KEGIATAN EKSPOR DAN IMPOR

### A. Pilihan Ganda

- |      |       |       |
|------|-------|-------|
| 1. c | 6. d  | 11. b |
| 2. b | 7. d  | 12. d |
| 3. b | 8. c  | 13. a |
| 4. a | 9. a  | 14. d |
| 5. c | 10. b | 15. b |

### B. Isian

- |                        |                                     |
|------------------------|-------------------------------------|
| 1. Impor               | 6. Singapura dan Pakistan           |
| 2. Eksportir           | 7. Belgia, Nederland, dan Luxemburg |
| 3. Lebih erat          | 8. Brunei Darussalam                |
| 4. Minyak dan gas bumi | 9. Devisa negara                    |
| 5. TKI dan TKW         | 10. Perekonomian dalam negeri       |

### C. Uraian

1. Karena melimpah akan sumber daya alam.
2. Improvisasi siswa dan guru.
3. Mobil, sepeda motor, suku cadang mesin, suku cadang kereta api, alat-alat elektronik, kapal laut, alat-alat berat, pipa besi, baja, dan bahan kimia.
4. – Dengan mengekspor, barang produksi dalam negeri akan dikenal oleh negara lain
5. Improvisasi siswa dan guru.

## EVALUASI SEMESTER 2

### A. Pilihan Ganda

- |       |       |       |
|-------|-------|-------|
| 1. d  | 11. c | 21. d |
| 2. a  | 12. c | 22. c |
| 3. d  | 13. d | 23. d |
| 4. c  | 14. a | 25. c |
| 5. c  | 15. d | 26. a |
| 6. b  | 16. b | 27. a |
| 7. b  | 17. b | 28. d |
| 8. d  | 18. a | 29. b |
| 9. c  | 19. c | 30. b |
| 10. a | 20. a | 31. d |

### B. Isian

- |                       |                  |
|-----------------------|------------------|
| 1. Sulawesi Utara     | 9. Gempa bumi    |
| 2. Sungai Mekong      | 10. Tenaga Kerja |
| 3. Benua Australia    | 11. Importir     |
| 4. Piramida dan Spinx | 12. Migas        |
| 5. Gempa tektonik     | 13. Australia    |
| 6. Tsunami            | 14. OPEC         |
| 7. Tolak              | 15. Komunikasi   |
| 8. Ekonomi            |                  |

### C. Uraian

1. Improvisasi siswa dan guru.
2. Masyarakat mengonsumsi makanan cepat saji.
3. – Tersedianya tenaga kerja yang murah.  
– Tersedianya bahan baku.  
– Pajak yang rendah dan harga tanah yang murah.  
– Letak Indonesia yang strategis.
4. Improvisasi siswa dan guru.



5.
  - Dengan ekspor, barang produksi dalam negeri akan dikelola oleh negara lain.
  - Dengan ekspor dapat membantu mencukupi kebutuhan negara lain.
  - Dengan ekspor dapat meningkatkan devisa negara.
  - Dengan impor, kebutuhan dalam negeri cukup.
  - Dengan ekspor dan impor hubungan ekonomi dan persahabatan antarnegara menjadi lebih erat.
  - Dengan ekspor dan impor akan saling meningkatkan produksi kedua negara.

**ISBN 979-978-068-008-1 (nomor jilid lengkap)**  
**ISBN 979-978-068-008-1**

**Buku ini telah dinilai oleh Badan Standar Nasional Pendidikan (BSNP) dan telah dinyatakan layak sebagai buku teks pelajaran berdasarkan Peraturan Menteri Pendidikan Nasional Nomor 69 tahun 2008 tanggal 7 Februari 2008 tentang Penetapan Buku Teks Pelajaran yang Memenuhi Syarat Kelayakan untuk Digunakan dalam Proses Pembelajaran.**

**HET (Harga Eceran Tertinggi) Rp14.522,-**

